

Министерство сельского хозяйства Российской Федерации
Федеральное государственное бюджетное образовательное учреждение
высшего образования
«Горский государственный аграрный университет»

УТВЕРЖДАЮ:

Проректор по УВР

Кабалоев Т.Х.

« 28 » 08 2017г.

ФОНД ОЦЕНОЧНЫХ СРЕДСТВ

для проведения текущего контроля и промежуточной аттестации
при освоении ОПОП ВО, реализуемой по ФГОС ВО 3+

по дисциплине

Б1.В.07. ПРАВИЛА ДОРОЖНОГО ДВИЖЕНИЯ

Направление подготовки – 36.03.06 «Агроинженерия»
Направленность подготовки

Технические системы в агробизнесе

Уровень высшего образования - бакалавриат

Форма обучения – очная/заочная

Владикавказ 2017

Фонд оценочных средств разработали:

На кафедре тракторы и с.х. машины, доцент Кубалов М.А.

Фонд оценочных средств согласован:

на заседании кафедры тракторы и с.х. машины

протокол № 1 от «26» 08 20 17 г.

Зав. кафедрой


(подпись)

Кудзаев А.Б./ Ф.И.О./

Эксперт(ы):


(Ф.И.О., должность, ученое звание, подпись)

к.т.н., доц. Плиев С.К.

Предназначен для обучающихся очной и заочной форм обучения.

Содержание фонда оценочных средств

стр.

Приложение 1.1 Паспорт фонда оценочных средств	4
Приложение 1.2 Паспорт компетенции.	7
Приложение 1.3 Уровни освоения компетенции	12
Приложение 1.4 Перечень оценочных средств	17
Приложение 1.5 Вопросы текущего и промежуточного контроля знаний студентов	18
Приложение 1.6 Оценивание обучающегося на зачете	23
Приложение 1.7 Вопросы для коллоквиумов, собеседования	24
Приложение 1.8 Темы рефератов	106

Паспорт фонда оценочных средств

Процесс изучения дисциплины направлена на формирование следующих компетенции: ОК-4; ОК-9; ОПК-8.

Общекультурных (ОК):

- способностью использовать основы правовых знаний в различных сферах деятельности (ОК-4);
- способностью использовать приемы оказания первой помощи, методы защиты в условиях чрезвычайных ситуаций (ОК-9).

Общепрофессиональных (ОПК):

- способностью обеспечивать выполнение правил техники безопасности, производственной санитарии, пожарной безопасности и норм охраны труда и природы (ОПК-8);

Профессиональные компетенции

- готовностью к профессиональной эксплуатации машин и технологического оборудования и электроустановок ПК-8.

В результате изучения дисциплины « Правила дорожного движения» студент должен:

знать: основные понятия и термины, используемые в Правилах дорожного движения (ПДД).

уметь: - дать оценку действий участников движения, и схем организации дорожного движения в соответствии требованиями правил дорожного движения.

владеть: - применением правил дорожного движения в различных условиях;

- современными способами поведения в сложных дорожных условиях с соблюдением правил дорожного движения.

Таблица 1.

№ п/п	Контролируемые разделы (темы) дисциплины	Код контролируемой компетенции (или ее части)	Наименование оценочного средства
1	<i>Раздел: Общие положения правил дорожного движения.</i>	ОК-4; ОК-9; ОПК-8; ПК-8.	Коллоквиум
	Тема 1.1. Общие правило дорожного движения.		Собеседование. Решение тематических билетов.
	Тема 1.2 Общие обязанности водителей, пешеходов и пассажиров		Собеседование. Решение тематических билетов.

2	Раздел 2. Дорожные знаки и их применения	ОК-4; ОК-9; ОПК-8; ПК-8.	Коллоквиум
	Тема 2.1.Предупреждающие знаки Знаки приоритета		Собеседование. Решение тематических билетов.
	Тема 2.2 Запрещающие знаки		Собеседование. Решение тематических билетов.
	Тема 2.3 Предписывающие знаки		Собеседование. Решение тематических билетов.
	Тема 2.4 Информационные знаки. Знаки особых предписаний.		Собеседование. Решение тематических билетов.
	Тема 2.5 Знаки сервиса и дополнительной информации		Собеседование. Решение тематических билетов.
3	Раздел 3. Дорожная разметка и регулирование дорожного движения	ОК-4; ОК-9; ОПК-8; ПК-8.	Коллоквиум
	Тема 3.1 Горизонтальная и вертикальная разметка		Собеседование. Решение тематических билетов.
	Тема 3.2 Применение аварийной сигнализации, знаки аварийной остановки.		Собеседование. Решение тематических билетов.
	Тема 3.3 Сигналы светофора и регулировщика		Собеседование. Решение тематических билетов.
4	Раздел 4 Порядок движения, обгон, остановка и стоянка транспорта.	ОК-4; ОК-9; ОПК-8; ПК-8.	Коллоквиум
	Тема 4.1 Начало движения. Маневрирование транспортных средств.		Собеседование. Решение тематических билетов.
	Тема 4.2 Расположение транспортных средств по проезжей части.		Собеседование. Решение тематических билетов.
	Тема 4.3 Скорость движения транспортных средств.		Собеседование. Решение тематических билетов.
	Тема 4.4 Обгон. Встречный разъезд транспортных средств.		Собеседование. Решение тематических билетов.
	Тема 4.5 Остановка и стоянка транспортных средств		Собеседование. Решение тематических билетов.
	Тема 4.6 Проезд перекрёстков		Собеседование.

			Решение тематических билетов.
5	Раздел 5. Проезд пешеходных переходов и железнодорожных переездов	ОК-4; ОК-9; ОПК-8; ПК-8.	Собеседование. Решение тематических билетов.
	Тема 5.1 Пешеходные переходы и остановки транспортных средств		Собеседование. Решение тематических билетов.
	Тема 5.2 Движение транспортных средств через железнодорожные пути.		Собеседование. Решение тематических билетов.
6	Раздел 6. Особые условия движения	ОК-4; ОК-9; ОПК-8; ПК-8.	Коллоквиум
	Тема 6.1 Движение по автомагистрали и в жилых зонах.		Собеседование. Решение тематических билетов.
	Тема 6.2 Приоритет маршрутных транспортных средств. Учебная езда.		Собеседование. Решение тематических билетов.
	Тема 6.3 Пользование внешними световыми приборами и звуковыми сигналами.		Собеседование. Решение тематических билетов.
	Тема 6.4 Буксировка механических транспортных средств.		Собеседование. Решение тематических билетов.
	Тема 6.5 Перевозка людей и грузов.		Собеседование. Решение тематических билетов.
	Тема 6.6 Дополнительные требования к движению велосипедов, мопедов, и гужевых повозок.		Собеседование. Решение тематических билетов.
	Тема 6.7 Основные положения по допуску транспортных средств к эксплуатации.		Собеседование. Решение тематических билетов.
	Тема 6.8 Техническое состояние и оборудование транспортных средств.		Собеседование. Решение тематических билетов.
	Раздел 7. Правовые основы организации дорожного движения и первая медицинская помощь	ОК-4; ОК-9; ОПК-8; ПК-8.	Коллоквиум
	Тема 7.1 Ответственность водителей за нарушения правил дорожного движения.		Собеседование. Решение тематических билетов.
	Тема 7.2 Оказания первой медицинской помощи при дорожно – транспортных происшествиях		Собеседование. Решение тематических билетов.

Паспорт компетенции:

ОК- 4 – способностью использовать основы правовых знаний в различных сферах деятельности.

№ п/п	Наименование дисциплины и код по базовому учебному плану	Части компонентов	Технологии формирования	Средства и технологии оценки
1	2	3	4	5
1	ПДД, Б1. В.07	<p>Знать: основы конституционного строя РОССИЙСКОЙ ФЕДЕРАЦИИ, прав и свобод человека и гражданина, основы организации и осуществления государственной власти, структуру и тенденции развития российского законодательства, сущность, характер и взаимодействие правовых явлений, основные проблемы правового регулирования сферы своей профессиональной деятельности, социальную значимость правового регулирования общественных отношений в агропромышленной отрасли; конституционные права, свободы и обязанности гражданина и формы, методы их реализации на практике в различных сферах жизнедеятельности; приёмы и технологии политической социализации и вовлечения граждан в политический процесс</p> <p>Уметь: толковать и применять законы и иные нормативно-правовые акты в сфере АПК, применять методы рационального землепользования; формировать собственную активную гражданскую позицию, быть полноправным членом демократического общества.</p> <p>Владеть: навыками анализа правовых явлений в общественной жизни, навыками анализа правовой деятельности предприятий сельскохозяйственной отрасли как субъектов гражданского права; навыками применения норм гражданского и трудового права в своей профессиональной деятельности; способами проявления гражданской позиции, легитимными средствами отстаивания и защиты своих конституционных прав в стандартных и нестандартных социально-производственных ситуациях</p>	<p>Самостоятельная работа</p> <p>Практические занятия, самостоятельная аудиторная и внеаудиторная работа</p> <p>Самостоятельная работа. Практические занятия</p>	<p>Собеседование</p> <p>Собеседование</p> <p>Собеседование</p>

Паспорт компетенции:

ОК-9- способностью использовать приемы оказания первой помощи, методы защиты в условиях чрезвычайных ситуаций.

№ п/п	Наименование дисциплины и код по базовому учебному плану	Части компонентов	Технологии формирования	Средства и технологии оценки
1	2	3	4	5
1	ПДД, Б1. В.07	<p>Знать: методы и средства защиты в чрезвычайных ситуациях на сельскохозяйственных предприятиях; требования промышленной, экологической безопасности и охраны труда на сельскохозяйственных предприятиях; предельно допустимые концентрации вредных веществ и их действие на организм человека, состояние машин и агрегатов, а так же технологического оборудования; методы и способы оказания первой помощи при возникновении чрезвычайных ситуаций</p> <p>Уметь: использовать средства защиты на сельскохозяйственных предприятиях; способность при возникновении чрезвычайных ситуаций оказать первичную помощь и использовать средства защиты для сохранения здоровья персонала.</p> <p>Владеть: навыками использования средств защиты при возникновении чрезвычайных ситуаций, в т.ч. и виртуальном; навыками оказания первой помощи при возникновении чрезвычайных ситуаций.</p>	<p>Практические занятия, самостоятельная аудиторная и внеаудиторная работа.</p> <p>Практические занятия, самостоятельная работа. Анализ и решение ситуационных задач.</p> <p>Самостоятельная работа, практические занятия, учебная практика</p>	<p>Устный опрос. Тестирование</p> <p>Тестирование. Перечень тем</p> <p>Собеседование. Устный опрос</p>

Паспорт компетенции:

ОПК-8- способностью обеспечивать выполнение правил техники безопасности, производственной санитарии, пожарной безопасности и норм охраны труда и природы.

№ п/п	Наименование дисциплины и код по базовому учебному плану	Части компонентов	Технологии формирования	Средства и технологии оценки
1	2	3	4	5
1	ПДД, Б1. В.07	Знать: правовые, нормативно-технические и организационные основы техники безопасности, производственной санитарии, пожарной безопасности и нормы охраны труда и природы.	Практические занятия, самостоятельная аудиторная и внеаудиторная работа.	Тестирование
		Уметь: проводить контроль параметров и уровня негативных последствий; разрабатывать мероприятия по повышению техники безопасности, производственной санитарии, пожарной безопасности.	Практические занятия, самостоятельная работа. Анализ и решение ситуационных задач.	Дискуссия Устный опрос
		Владеть: навыками прогнозирования негативных воздействий в системе «Человек-среда обитания» и обоснование необходимых мер по их предотвращению.	Самостоятельная работа, практические занятия, учебная практика	Собеседование. Дискуссия.

Паспорт компетенции:**ПК-8-** готовностью к профессиональной эксплуатации машин и технологического оборудования и электроустановок.

№ п/п	Наименование дисциплины и код по базовому учебному плану	Части компонентов	Технологии формирования	Средства и технологии оценки
1	2	3	4	5
1	ПДД, Б1. В.07	знать: конструкцию и регулировочные параметры основных современных моделей с.х. техники отечественного и зарубежного производства; основные направления и тенденции совершенствования конструкции и рабочего процесса современных отечественных и зарубежных с.х. машин; основные виды электроустановок; методы и сферы использования различных видов электроустановок процессов в с.х. производстве; технику безопасности при эксплуатации и облуживании электроустановок и механизмов устройство, принцип действия современных электроустановок оборудования с.х. назначения, основы управления и автоматизации, правила эксплуатации и безопасного обслуживания;	Практические занятия, самостоятельная аудиторная и внеаудиторная работа.	Тестирование
		уметь: выбирать тип с.х. техники по техническим и конструктивным параметрам, соответствующий эксплуатационным требованиям в заданных условиях его работы; использовать с.х. технику с наибольшей эффективностью в конкретных условиях сельскохозяйственного производства; проводить операции по техническому обслуживанию и регулировке механизмов и систем современных отечественных и зарубежных с.х. машин для обеспечения максимальной производительности и экономичности; выбирать необходимые электроустановки процессы и оборудование; формулировать и решать инженерные задачи в области разработки и применения электротехнологических средств в сельском хозяйстве.	Практические занятия, самостоятельная работа. Анализ и решение ситуационных задач.	Дискуссия Устный опрос

		<p>владеть: навыками управления современными отечественными и зарубежными с.х. машинами; выполнения приемов их эксплуатационного технического обслуживания; самостоятельного анализа и оценки режимов работы с.х. машин в заданных условиях; навыками обслуживания и испытания электрооборудования; технологией наладки, обслуживания, испытания электротехнического оборудования и организации электротехнологических процессов..</p>	<p>Самостоятельная работа, практические занятия, учебная практика</p>	<p>Собеседование. Дискуссия.</p>
--	--	---	---	----------------------------------

УРОВНИ ОСВОЕНИЯ КОМПЕТЕНЦИИ

Формулировка:

ОК- 4 – способностью использовать основы правовых знаний в различных сферах деятельности.

Ступени уровней освоения компетенции	Отличительные признаки
Пороговый (удовлетворительный)	<p>Знать: основы конституционного строя РОССИЙСКОЙ ФЕДЕРАЦИИ, прав и свобод человека и гражданина, основы организации и осуществления государственной власти, структуру и тенденции развития российского законодательства, сущность, характер и взаимодействие правовых явлений, основные проблемы правового регулирования сферы своей профессиональной деятельности, социальную значимость правового регулирования общественных отношений в агропромышленной отрасли; конституционные права, свободы и обязанности гражданина и формы, методы их реализации на практике в различных сферах жизнедеятельности; приёмы и технологии политической социализации и вовлечения граждан в политический процесс;</p> <p>Уметь:</p> <p>Владеть:</p>
Продвинутый (хорошо)	<p>Знать: основы конституционного строя РОССИЙСКОЙ ФЕДЕРАЦИИ, прав и свобод человека и гражданина, основы организации и осуществления государственной власти, структуру и тенденции развития российского законодательства, сущность, характер и взаимодействие правовых явлений, основные проблемы правового регулирования сферы своей профессиональной деятельности, социальную значимость правового регулирования общественных отношений в агропромышленной отрасли; конституционные права, свободы и обязанности гражданина и формы, методы их реализации на практике в различных сферах жизнедеятельности; приёмы и технологии политической социализации и вовлечения граждан в политический процесс;</p> <p>Уметь: толковать и применять законы и иные нормативно-правовые акты в сфере АПК, применять методы рационального землепользования; формировать собственную активную гражданскую позицию, быть полноправным членом демократического общества</p> <p>Владеть:</p>
Высокий (отлично)	<p>Знать: основы конституционного строя РОССИЙСКОЙ ФЕДЕРАЦИИ, прав и свобод человека и гражданина, основы организации и осуществления государственной власти, структуру и тенденции развития российского законодательства, сущность, характер и взаимодействие правовых явлений, основные проблемы правового регулирования сферы своей профессиональной деятельности, социальную значимость правового регулирования общественных отношений в агропромышленной отрасли; конституционные права, свободы и обязанности гражданина и формы, методы их реализации на практике в различных сферах жизнедеятельности; приёмы и технологии политической социализации и вовлечения граждан в политический процесс;</p> <p>Уметь: толковать и применять законы и иные нормативно-правовые акты в сфере АПК, применять методы рационального землепользования; формировать собственную активную гражданскую позицию, быть полноправным членом демократического общества</p> <p>Владеть: навыками анализа правовых явлений в общественной жизни, навыками анализа правовой деятельности предприятий сельскохозяйственной отрасли как субъектов гражданского права; навыками применения норм гражданского и трудового пра-</p>

	ва в своей профессиональной деятельности; способами проявления гражданской позиции, легитимными средствами отстаивания и защиты своих конституционных прав в стандартных и нестандартных социально-производственных ситуациях
--	---

ОК-9 – способностью использовать приемы оказания первой помощи, методы защиты в условиях чрезвычайных ситуаций.

Ступени уровней освоения компетенции	Отличительные признаки
Пороговый (удовлетворительный)	<p>Знать: методы и средства защиты в чрезвычайных ситуациях на сельскохозяйственных предприятиях; требования промышленной, экологической безопасности и охраны труда на сельскохозяйственных предприятиях; предельно допустимые концентрации вредных веществ и их действие на организм человека, состояние машин и агрегатов, а так же технологического оборудования; методы и способы оказания первой помощи при возникновении чрезвычайных ситуаций</p> <p>Уметь:</p> <p>Владеть:</p>
Продвинутый (хорошо)	<p>Знать: методы и средства защиты в чрезвычайных ситуациях на сельскохозяйственных предприятиях; требования промышленной, экологической безопасности и охраны труда на сельскохозяйственных предприятиях; предельно допустимые концентрации вредных веществ и их действие на организм человека, состояние машин и агрегатов, а так же технологического оборудования; методы и способы оказания первой помощи при возникновении чрезвычайных ситуаций</p> <p>Уметь: использовать средства защиты на сельскохозяйственных предприятиях; способность при возникновении чрезвычайных ситуаций оказать первичную помощь и использовать средства защиты для сохранения здоровья персонала.</p> <p>Владеть:</p>

Высокий (отлично)	<p>Знать: методы и средства защиты в чрезвычайных ситуациях на сельскохозяйственных предприятиях; требования промышленной, экологической безопасности и охраны труда на сельскохозяйственных предприятиях; предельно допустимые концентрации вредных веществ и их действие на организм человека, состояние машин и агрегатов, а так же технологического оборудования; методы и способы оказания первой помощи при возникновении чрезвычайных ситуаций</p> <p>Уметь: использовать средства защиты на сельскохозяйственных предприятиях; способность при возникновении чрезвычайных ситуаций оказать первичную помощь и использовать средства защиты для сохранения здоровья персонала.</p> <p>Владеть: навыками использования средств защиты при возникновении чрезвычайных ситуаций, в т.ч. и виртуальном; навыками оказания первой помощи при возникновении чрезвычайных ситуаций.</p>
-------------------	--

ОПК-8- способностью обеспечивать выполнение правил техники безопасности, производственной санитарии, пожарной безопасности и норм охраны труда и природы

Ступени уровней освоения компетенции	Отличительные признаки
Пороговый (удовлетворительный)	<p>Знать: правовые, нормативно-технические и организационные основы техники безопасности, производственной санитарии, пожарной безопасности и нормы охраны труда и природы.</p> <p>Уметь:</p> <p>Владеть:</p>
Продвинутый (хорошо)	<p>Знать: правовые, нормативно-технические и организационные основы техники безопасности, производственной санитарии, пожарной безопасности и нормы охраны труда и природы.</p> <p>Уметь: проводить контроль параметров и уровня негативных последствий; разрабатывать мероприятия по повышению техники безопасности, производственной санитарии, пожарной безопасности.</p> <p>Владеть:</p>
Высокий (отлично)	<p>Знать: правовые, нормативно-технические и организационные основы техники безопасности, производственной санитарии, пожарной безопасности и нормы охраны труда и природы.</p> <p>Уметь: проводить контроль параметров и уровня негативных последствий; разрабатывать мероприя-</p>

тия по повышению техники безопасности, производственной санитарии, пожарной безопасности.
Владеть: навыками прогнозирования негативных воздействий в системе «Человек-среда обитания» и обоснование необходимых мер по их предотвращению

ПК-8- готовностью к профессиональной эксплуатации машин и технологического оборудования и электроустановок.

Ступени уровней освоения компетенции	Отличительные признаки
Пороговый (удовлетворительный)	<p>знать: конструкцию и регулировочные параметры основных современных моделей с.х. техники отечественного и зарубежного производства; основные направления и тенденции совершенствования конструкции и рабочего процесса современных отечественных и зарубежных с.х. машин; основные виды электроустановок; методы и сферы использования различных видов электроустановок процессов в с.х. производстве; технику безопасности при эксплуатации и обслуживании электроустановок и механизмов устройство, принцип действия современных электроустановок оборудования с.х. назначения, основы управления и автоматизации, правила эксплуатации и безопасного обслуживания.</p> <p>Уметь:</p> <p>Владеть:</p>
Продвинутый (хорошо)	<p>знать: конструкцию и регулировочные параметры основных современных моделей с.х. техники отечественного и зарубежного производства; основные направления и тенденции совершенствования конструкции и рабочего процесса современных отечественных и зарубежных с.х. машин; основные виды электроустановок; методы и сферы использования различных видов электроустановок процессов в с.х. производстве; технику безопасности при эксплуатации и обслуживании электроустановок и механизмов устройство, принцип действия современных электроустановок оборудования с.х. назначения, основы управления и автоматизации, правила эксплуатации и безопасного обслуживания;</p> <p>уметь: выбирать тип с.х. техники по техническим и конструктивным параметрам, соответствующий эксплуатационным требованиям в заданных условиях его работы; использовать с.х. технику с наибольшей эффективностью в конкретных условиях сельскохозяйственного производства; проводить операции по техническому обслуживанию и регулировке механизмов и систем современных отечественных и зарубежных с.х. машин для обеспечения максимальной производительности и экономичности; выбирать необходимые электроустановки процессы и оборудование; формулировать и решать инженерные задачи в области разработки и применения электротехнологических средств в сельском хозяйстве.</p>

	Владеть:
Высокий (отлично)	<p>знать: конструкцию и регулировочные параметры основных современных моделей с.х. техники отечественного и зарубежного производства; основные направления и тенденции совершенствования конструкции и рабочего процесса современных отечественных и зарубежных с.х. машин; основные виды электроустановок; методы и сферы использования различных видов электроустановок процессов в с.х. производстве; технику безопасности при эксплуатации и обслуживании электроустановок и механизмов устройство, принцип действия современных электроустановок оборудования с.х. назначения, основы управления и автоматизации, правила эксплуатации и безопасного обслуживания;</p> <p>уметь: выбирать тип с.х. техники по техническим и конструктивным параметрам, соответствующий эксплуатационным требованиям в заданных условиях его работы; использовать с.х. технику с наибольшей эффективностью в конкретных условиях сельскохозяйственного производства; проводить операции по техническому обслуживанию и регулировке механизмов и систем современных отечественных и зарубежных с.х. машин для обеспечения максимальной производительности и экономичности; выбирать необходимые электроустановки процессы и оборудование; формулировать и решать инженерные задачи в области разработки и применения электротехнологических средств в сельском хозяйстве.</p> <p>владеть: навыками управления современными отечественными и зарубежными с.х. машинами; выполнения приемов их эксплуатационного технического обслуживания; самостоятельного анализа и оценки режимов работы с.х. машин в заданных условиях; навыками обслуживания и испытания электрооборудования; технологией наладки, обслуживания, испытания электротехнического оборудования и организации электротехнологических процессов..</p>

Перечень оценочных средств

№ п/п	Наименование оценочного средства	Краткая характеристика оценочного средства	Представление оценочного средства в фонде
1	2	3	4
1	Коллоквиум	Средство контроля усвоения учебного материала темы, раздела или разделов дисциплины, организованное как учебное занятие в виде собеседования преподавателя со студентом.	Вопросы по темам/разделам дисциплины
2	Реферат	Продукт самостоятельной работы студента, представляющий собой краткое изложение в письменном виде полученных результатов теоретического анализа определенной учебной темы, где автор раскрывает суть проблемы исследуемой темы, приводит различные точки зрения, а также собственные взгляды на нее.	Темы рефератов
4	Тест	Система стандартизированных заданий, позволяющая автоматизировать процедуру измерения уровня знаний и умений обучающегося.	Фонд тестовых заданий

ФЕДЕРАЛЬНОЕ ГОСУДАРСТВЕННОЕ БЮДЖЕТНОЕ ОБРАЗОВАТЕЛЬНОЕ УЧРЕЖДЕНИЕ
ВЫСШЕГО ОБРАЗОВАНИЯ

«ГОРСКИЙ ГОСУДАРСТВЕННЫЙ АГРАРНЫЙ УНИВЕРСИТЕТ»

Кафедра Тракторы и сельскохозяйственные машины
(наименование кафедры)

**Вопросы для текущего и промежуточного контроля
знаний студентов**

по дисциплине Правила дорожного движения

согласно примерной программы, рекомендованной Мин.образования России

для подготовки бакалавров по:

направление 35.03.06 Агроинженерия,

профиль Технические системы в агробизнесе.

*Модуль – 1. Общие положения правил дорожного движения. Дорожные
знаки и их применения. Дорожная разметка и
регулирование дорожного движения.*

1. Что означает по ПДД термин «перекресток»?
2. Что означает по ПДД термин «разделительная полоса»?
3. Разрешается ли движение пешеходов по разделительной полосе?
4. Что означает термин «уступить дорогу»?
5. Кто, по определению ПДД, является «участником дорожного движения»?
6. Какую дорогу, по определению ПДД, следует считать «главной дорогой»?
7. При каком минимальном расстоянии наступают условия «недостаточной видимости»?
8. Чем отличается обгон от опережения?
9. Что означает по ПДД термин «остановка»?
10. Каким транспортным средствам разрешено движение по полосе, обозначенной дорожной разметкой «А»?
11. Где должен двигаться пешеход, если на дороге нет тротуара и пешеходной дорожки?
12. Где должен двигаться пешеход вне населенного пункта?
13. Что дополнительно должны предпринять пешеходы при движении по дорогам в темное время суток и в условиях недостаточной видимости?

14. В каком месте разрешается пешеходам пересекать проезжую часть при отсутствии пешеходного перехода?
15. Разрешается ли пешеходам переходить проезжую часть вне пешеходного перехода при наличии разделительной полосы на дороге.
16. Разрешается ли посадка (высадка) пассажиров со стороны проезжей части?
17. В каком случае разрешается посадка и высадка пассажиров с крайней полосы проезжей части?
18. Разрешается ли стоять в кузове грузового автомобиля при движении?
19. С какой стороны должен выйти пассажир из автомобиля, если автомобиль остановлен у левого края дороги?
20. Должен ли пассажир транспортного средства, причастный к происшествию, находиться на месте до прибытия работников милиции?
21. С какого минимального возраста разрешается двигаться по дороге на мопедах?
22. При каких условиях водители мопедов и велосипедов обязаны уступить дорогу другим транспортным средствам?
23. Каким транспортным средствам запрещается движение по дорогам для автомобилей?
24. Разрешается ли водителям мопедов и велосипедов двигаться по тротуарам и пешеходным дорожкам?
25. Разрешается ли буксировка мопедов?
26. В какое время суток разрешается перегонять стадо животных по дороге?
27. Разрешено ли на автомагистралях движение мопедов?
28. Разрешается ли водителям велосипедов ездить по тротуарам?
29. Каким участникам дорожного движения запрещается двигаться по автомагистралям и дорогам для автомобилей?
30. Как должен поступить пешеход при приближении транспортного средства с включенными проблесковым маячком красного и синего цвета и специальным звуковым сигналом?
31. Всегда ли ПДД требуют выполнять требования горизонтальной дорожной разметки?
32. Имеют ли преимущество дополнительные требования регулятора перед сигналами светофоров?
33. Что означает зеленый мигающий сигнал светофора?
34. Что означает зеленый сигнал светофора в форме стрелки, направленной вниз?

35. Как должен поступить водитель, если регулировщик на перекрестке поднял руку вверх, а остановить транспортное средство в месте, предусмотренном ПДД, без экстренного торможения невозможно?

36. Разрешается ли пересекать для остановки желтую сплошную линию дорожной разметки, нанесенную у края проезжей части?

37. Чем различаются между собой дорожные знаки «Уступить дорогу» и «Проезд без остановки запрещен»?

Модуль – 2. Порядок движения, обгон, остановка и стоянка транспорта. Проезд пешеходных переходов и железнодорожных переездов.

1. Как должен поступить водитель, если сигнал светофора разрешает ему движение, а пешеходы не успели перейти проезжую часть?

2. Следует ли остановить автомобиль перед пешеходным переходом, на котором находятся пешеходы?

3. Что должны сделать водители транспортных средств, если группа детей в сопровождении взрослых лиц переходит проезжую часть дороги?

4. Разрешается ли начинать движение водителю автобуса при открытых дверях?

5. С какого возраста разрешается перевозить детей на переднем сиденье легкового автомобиля, не оборудованного специальным детским сиденьем?

6. В какое время суток можно водить организованные группы детей по тротуарам и пешеходным дорожкам, а в их отсутствии - по обочине дороги?

7. Разрешается ли перевозить детей, не достигших 12-летнего возраста, в кабине грузового автомобиля?

8. Разрешается ли перевозить детей в возрасте до 16 лет в кузове грузового автомобиля?

9. Когда на трамвайных остановках, необорудованных посадочными площадками, пешеходам разрешается выходить на проезжую часть для посадки в трамвай?

10. Для перевозки каких пассажиров необходимо устанавливать специальное сиденье на переднем сидении легкового автомобиля?

11. Что называется обгоном?

12. Расположение транспортных средств на проезжей части в населённом пункте.

13. Расположение транспортных средств на автомагистрали и вне населённого пункта.

14. В каких местах запрещён обгон?

15. В каких местах запрещена остановка и стоянка транспортных средств?

16. В каких случаях запрещается проезд через переезд.
17. В каких случаях трамвай имеет преимущество?
18. В каких местах запрещён разворот?
19. Какими требованиями обязан руководствоваться водитель при подъезде к железнодорожному переезду?
20. На каком расстоянии от пешеходных переходов запрещается остановка и стоянка?
21. Обязан ли водитель уступать кому-либо дорогу, если он въезжает на перекресток на зеленый сигнал светофора?
22. Что означает требование уступить дорогу?
23. Могут ли пешеходы передвигаться по велосипедным дорожкам при отсутствии тротуара или пешеходной дорожки?

Модуль 3. Особые условия движения. Правовые основы организации дорожного движения и первая медицинская помощь.

1. Для чего предназначена полоса торможения?
2. Как обозначить транспортные средства, которые являются участниками ДТП?
3. Каким транспортным средствам разрешается въезд в пешеходную зону?
4. Разрешается ли остановка и стоянка напротив остановки маршрутных транспортных средств?
5. Каким опознавательным знаком обозначается транспортное средство при перевозке организованных групп детей?
6. Разрешается ли перевозка пассажиров в кузове грузового автомобиля при буксировке на жесткой или гибкой сцепке?
7. Как следует двигаться по горным дорогам?
8. Разрешается ли движение пешеходов по дороге, обозначенной знаком "Автомагистраль"?
9. Имеют ли пешеходы преимущество в движении перед транспортными средствами в жилой и пешеходной зонах?
10. Кому водитель обязан предоставить транспортное средство независимо от направления своего движения?
11. Что влечет за собой уклонение лиц, управляющих транспортными средствами от прохождения в соответствии с установленным порядком освидетельствования на состояние опьянения?
12. Что влечет за собой управление транспортным средством лицом в состоянии опьянения?
13. Что влечет за собой передача управления транспортным средством лицу, не имеющему права управления?

14. Что влечет за собой непредоставление гражданами принадлежащих им транспортных средств медицинским работникам в установленных законом неотложных случаев?
15. Какие транспортные средства запрещается эксплуатировать, если в них отсутствуют медицинские аптечки?
16. Что влечет за собой въезд водителей на железнодорожный переезд на запрещающий сигнал светофора при закрытом шлагбауме?
17. Что влечет за собой оставление водителями, в нарушение установленных правил, места ДТП, к которому они причастны?
18. Что влечет за собой невыполнение водителями требований работника милиции об остановке транспортного средства?
19. Что влечет за собой нарушение водителями правил остановки и стоянки, повлекшие создание аварийной обстановки?
20. Как транспортировать пострадавшего с повреждением грудного отдела позвоночника?
21. Как оказать первую медицинскую помощь при травматическом шоке?
22. Как оказать первую медицинскую помощь при отравлении парами бензина?
23. Как оказать первую медицинскую помощь при вывихе плечевого сустава?
24. Какой материал лучше подходит для иммобилизующей шины при переломе костей?
25. Для чего применяется 5-%-ный раствор йода?
26. Как оказать первую медицинскую помощь пострадавшему при повреждении кожных покровов и мышечной ткани?
27. На какой срок может быть наложен кровоостанавливающий жгут зимой?
28. Как правильно выбрать место наложения кровоостанавливающего жгута на конечности?
29. Как оказать первую медицинскую помощь при ушибе мягких тканей бедра?

Оценивание обучающегося на зачете

Оценка	Требования к знаниям
«зачтено» (компетенции освоены)	Выполнены все лабораторные (практические) работы. По теоретической части есть положительные оценки (коллоквиум, контрольная работа, тестирование и др.)
«не зачтено» (компетенции не освоены)	Имеются невыполненные (не отработанные) лабораторные или практические работы. Промежуточную аттестацию не прошел (получил неудовлетворительную оценку на коллоквиуме, контрольной работе, тестировании и т.д.)

4. КОНТРОЛЬНЫЙ БЛОК

БИЛЕТ № 1 Категории «А» и «В»

<p>1. Какие транспортные средства по Правилам относятся к маршрутным транспортным средствам?</p> <ol style="list-style-type: none"> 1. Все автобусы. 2. Автобусы, троллейбусы и трамваи, предназначенные для перевозки людей и движущиеся по установленному маршруту с обозначенными местами остановок. 3. Любые транспортные средства, перевозящие пассажиров. 	<p>2. В каких направлениях Вам разрешено продолжить движение?</p> <ol style="list-style-type: none"> 1. Только Б. 2. Только А или Б. 3. В любых. 
<p>3. Этот дорожный знак указывает:</p> <ol style="list-style-type: none"> 1. Расстояние до конца тоннеля. 2. Расстояние до места аварийной остановки. 3. Направление движения к аварийному выходу и расстояние до него. 	<p>4. Этот знак разрешает Вам ставить на стоянку легковой автомобиль с использованием тротуара:</p> <ol style="list-style-type: none"> 1. Только на правой стороне дороги до ближайшего по ходу движения перекрестка. 2. Только на правой стороне дороги до знака «Конец зоны регулируемой стоянки». 3. На любой стороне дорог, расположенных в зоне регулируемой стоянки. 
<p>5. Эта разметка, нанесенная на полосу движения:</p> <ol style="list-style-type: none"> 1. Предоставляет Вам преимущество при перестроении на правую полосу. 2. Информировать Вас о том, что дорога поворачивает направо. 3. Предупреждает Вас о приближении к сужению проезжей части. 	<p>6. Что означает мигание зеленого сигнала светофора?</p> <ol style="list-style-type: none"> 1. Предупреждает о неисправности светофора. 2. Разрешает движение и информирует о том, что вскоре будет включен запрещающий сигнал. 3. Запрещает дальнейшее движение.
<p>7. Обязаны ли Вы в данной ситуации подать сигнал правого поворота?</p> <ol style="list-style-type: none"> 1. Да. 2. Да, но только при наличии движущихся сзади транспортных средств. 3. Нет. 	<p>8. Кто должен уступить дорогу при одновременном перестроении?</p> <ol style="list-style-type: none"> 1. Водитель легкового автомобиля. 2. Водитель мотоцикла. 
<p>9. По какой траектории Вы имеете право выполнить разворот, управляя автопоездом, имеющим большую длину?</p> <ol style="list-style-type: none"> 1. Только по А. 2. Только по Б. 3. По любой. 	<p>10. С какой скоростью Вы можете продолжить движение вне населенного пункта по левой полосе на грузовом автомобиле с разрешенной максимальной массой более 3,5 т?</p> <ol style="list-style-type: none"> 1. Не более 50 км/ч. 2. Не менее 50 км/ч и не более 90 км/ч. 3. Не менее 50 км/ч и не более 70 км/ч. 

БИЛЕТ № 1 Категории «А» и «В»

11. Может ли водитель легкового автомобиля в населенном пункте выполнить опережение грузовых автомобилей по такой траектории?

1. Да.
2. Нет.



12. Разрешено ли водителю поставить автомобиль на стоянку в указанном месте?

1. Да.
2. Нет.



13. Вы намерены повернуть направо. Следует ли уступить дорогу автобусу?

1. Да.
2. Нет.



14. Вы намерены проехать перекресток в прямом направлении. Ваши действия?

1. Уступите дорогу легковому автомобилю, поскольку он первым въехал на перекресток.
2. Убедитесь, что легковой автомобиль уступает дорогу, и проедете перекресток первым.



15. Вы намерены повернуть налево. Кому следует уступить дорогу?

1. Только автобусу.
2. Только легковому автомобилю.
3. Никому.



16. С какой максимальной скоростью Вы можете продолжить движение за знаком?

1. 60 км/ч.
2. 50 км/ч.
3. 30 км/ч.
4. 20 км/ч.



17. Какие внешние световые приборы Вы можете использовать при движении в темное время суток на неосвещенных участках дорог?

1. Только ближний свет фар.
2. Только дальний свет фар.
3. Ближний или дальний свет фар.

18. При какой неисправности разрешается эксплуатация транспортного средства?

1. Не работают запоры горловин топливных баков.
2. Не работает механизм регулировки сиденья водителя.
3. Не работает устройство обогрева и обдува стекла.
4. Не работает стеклоподъемник.









19. В случае, когда правые колеса автомобиля наезжают на неукрепленную влажную обочину, рекомендуется:

1. Затормозить и полностью остановиться.
2. Затормозить и плавно направить автомобиль в левую сторону.
3. Не прибегая к торможению, плавно вернуть автомобиль на проезжую часть.






20. Начинать сердечно-легочную реанимацию следует только при:

1. Потере человеком сознания, независимо от наличия пульса.
2. Потере человеком сознания при отсутствии пульса на сонной артерии.

БИЛЕТ № 2 Категории «А» и «В»

<p>1. При движении вне населенных пунктов на автомобиле, оборудованном ремнями безопасности, пристегиваться ремнями должны:</p> <ol style="list-style-type: none"> 1. Только водитель. 2. Только водитель и пассажир на переднем сиденье. 3. Все лица, находящиеся в автомобиле. 	<p>2. Можете ли Вы въехать на мост первым?</p> <ol style="list-style-type: none"> 1. Да. 2. Нет. 
<p>3. С какой максимальной скоростью Вы можете продолжить движение на грузовом автомобиле с разрешенной максимальной массой не более 3,5 т?</p> <ol style="list-style-type: none"> 1. 60 км/ч. 2. 70 км/ч. 3. 80 км/ч. 	<p>4. Что запрещено в зоне действия этого знака?</p> <ol style="list-style-type: none"> 1. Движение со скоростью более 20 км/ч. 2. Движение только механических транспортных средств. 3. Движение любых транспортных средств. 
<p>5. Разрешен ли Вам обгон, если реверсивные светофоры отключены?</p> <ol style="list-style-type: none"> 1. Разрешен. 2. Разрешен, если скорость автобуса менее 30 км/ч. 3. Не разрешен. 	<p>6. В каких направлениях Вам разрешено продолжить движение?</p> <ol style="list-style-type: none"> 1. Только налево. 2. Прямо и налево. 3. Налево и в обратном направлении. 
<p>7. Поднятая вверх рука водителя легкового автомобиля является сигналом, информирующим Вас:</p> <ol style="list-style-type: none"> 1. О его намерении повернуть направо. 2. О его намерении продолжить движение прямо. 3. О его намерении снизить скорость, чтобы остановиться и уступить дорогу мотоциклисту. 	<p>8. Двигаясь по левой полосе, Вы намерены перестроиться на правую. На каком из рисунков показана ситуация, в которой Вы обязаны уступить дорогу?</p> <ol style="list-style-type: none"> 1. На левом. 2. На правом. 3. На обоих. 
<p>9. Разрешен ли Вам разворот в указанном месте?</p> <ol style="list-style-type: none"> 1. Разрешен только при отсутствии приближающегося поезда. 2. Разрешен. 3. Запрещен. 	<p>10. В каких случаях Вы можете наезжать на прерывистые линии разметки, разделяющие проезжую часть на полосы движения?</p> <ol style="list-style-type: none"> 1. Только при перестроении. 2. Только при движении в темное время суток. 3. Только если на дороге нет других транспортных средств. 4. Во всех перечисленных случаях.

БИЛЕТ № 2 Категории «А» и «В»

<p>11. Разрешено ли Вам обогнать мотоциклиста? 1. Разрешено. 2. Запрещено.</p> 	<p>12. Нарушил ли водитель грузового автомобиля с разрешенной максимальной массой не более 3,5 т правила стоянки в данной ситуации? 1. Да. 2. Нет.</p> 
<p>13. Вы намерены повернуть налево. Кому следует уступить дорогу? 1. Только пешеходам. 2. Только автобусу. 3. Автобусу и пешеходам. 4. Никому.</p> 	<p>14. Вы намерены повернуть налево. Ваши действия? 1. Проедете перекресток первым. 2. Уступите дорогу автомобилю.</p> 
<p>15. Обязан ли мотоциклист уступить Вам дорогу в данной ситуации? 1. Да. 2. Нет.</p>	<p>16. В данной ситуации Вы: 1. Должны уступить дорогу автобусу, начинающему движение от обозначенного места остановки. 2. Имеете преимущество, так как водитель автобуса начинает движение с выездом на вторую полосу.</p> 
<p>17. В каких из перечисленных случаев запрещена буксировка на гибкой сцепке? 1. Только на горных дорогах. 2. Только в гололедицу. 3. Только в темное время суток и в условиях недостаточной видимости. 4. Во всех перечисленных случаях.</p>	<p>18. Какая наименьшая величина остаточной высоты рисунка протектора допускается при эксплуатации мотоцикла? 1. 0,8 мм. 2. 1,0 мм. 3. 1,6 мм. 4. 2,0 мм.</p>
<p>19. Что подразумевается под остановочным путем? 1. Расстояние, пройденное транспортным средством с момента обнаружения водителем опасности до полной остановки. 2. Расстояние, пройденное транспортным средством с момента начала срабатывания тормозного привода до полной остановки. 3. Расстояние, соответствующее тормозному пути, определенной технической характеристикой данного транспортного средства.</p>	<p>20. Что подразумевается под временем реакции водителя? 1. Время с момента обнаружения водителем опасности до полной остановки транспортного средства. 2. Время с момента обнаружения водителем опасности до начала принятия мер по ее избежанию. 3. Время, необходимое для переноса ноги с педали подачи топлива на педаль тормоза.</p>

БИЛЕТ № 3 Категории «А» и «В»

1. Выежая с грунтовой дороги, Вы попадаете:

1. На главную дорогу.
2. На равнозначную дорогу.



2. В каком месте Вы должны остановиться?

1. Перед знаком (место А).
2. Перед перекрестком (место В).
3. Перед краем пересекаемой проезжей части (место В).



3. В каком случае Вам необходимо двигаться со скоростью до 40 км/ч?

1. Во всех случаях.
2. Только в том случае, когда покрытие на дороге влажное.



4. Какие из знаков устанавливают в начале дороги с односторонним движением?

1. Только А.
2. Только Б.
3. Б или Г.
4. Б или В.



5. Можете ли Вы остановиться в этом месте для посадки или высадки пассажиров?

1. Да.
2. Да, если Вы не создадите помех движению маршрутных транспортных средств.
3. Нет.



6. В каких направлениях может продолжить движение водитель автомобиля с включенным проблесковым маячком?

1. Только направо.
2. Только прямо или направо.
3. В любом.



7. В каких случаях Вы не должны подавать предупредительный сигнал указателями поворота?

1. Только при отсутствии на дороге других участников движения.
2. Только если сигнал может ввести в заблуждение других участников движения.
3. В обоих перечисленных случаях.

8. По какой траектории Вы можете выполнить правый поворот?

1. Только по А.
2. Только по Б.
3. По любой.



9. Разрешено ли Вам таким образом выполнить разворот на перекрестке?

1. Да.
2. Нет.



10. По какой полосе Вам разрешено движение в данной ситуации?

1. По любой.
2. Только по правой.



БИЛЕТ № 3 Категории «А» и «В»

11. В каком случае Вы можете начать обгон, если такой маневр на данном участке дороги не запрещен?

1. Только если полоса встречного движения свободна на достаточном для обгона расстоянии.
2. Только если Вас никто не обгоняет.
3. В случае, если выполнены оба условия.

12. Разрешена ли Вам остановка для посадки пассажира в этом месте?

1. Разрешена.
2. Разрешена, если при этом не будет создано помех для движения маршрутных транспортных средств.
3. Запрещена.



13. При движении прямо Вы:

1. Должны остановиться перед стоп-линией.
2. Можете продолжить движение через перекресток без остановки.
3. Должны уступить дорогу транспортным средствам, движущимся с других направлений.



14. Вы намерены повернуть направо. Ваши действия?

1. Проедете перекресток первым.
2. Уступите дорогу легковому автомобилю.



15. Вы намерены повернуть налево. Кому следует уступить дорогу?

1. Трамваю А и легковому автомобилю.
2. Только трамваю А.
3. Всем транспортным средствам.
4. Никому.



16. Кто из водителей нарушил правила остановки?

1. Только водитель легкового автомобиля.
2. Только водитель грузового автомобиля.
3. Оба нарушили.



17. Какие из перечисленных требований предъявляются к обучаемому, допущенному к учебной езде на дорогах?

1. Возраст не менее 16 лет.
2. Наличие первоначальных навыков управления.
3. Знание Правил дорожного движения.
4. Все перечисленные требования.

18. При каком значении суммарного люфта в рулевом управлении допускается эксплуатация грузового автомобиля?

1. Не более 10 градусов.
2. Не более 20 градусов.
3. Не более 25 градусов.

19. На повороте возник занос задней оси переднеприводного автомобиля. Ваши действия?

1. Уменьшите подачу топлива, рулевым колесом стабилизируете движение.
2. Притормозите и повернете рулевое колесо в сторону заноса.
3. Значительно увеличите подачу топлива, не меняя положения рулевого колеса.
4. Слегка увеличите подачу топлива, корректируя направление движения рулевым колесом.

20. Что следует сделать в первую очередь при оказании помощи при обмороке?

1. Усадить пострадавшего.
2. Уложить и приподнять голову.
3. Уложить и приподнять ноги.

БИЛЕТ № 4 Категории «А» и «В»

1. Проезжая часть данной дороги имеет:

1. Одну полосу для движения.
2. Две полосы для движения.
3. Три полосы для движения.



2. Эти знаки предупреждают Вас:

1. О наличии через 500 м опасных поворотов.
2. О том, что на расстоянии 150 - 300 м за дорожным знаком начнется участок дороги протяженностью 500 м с опасными поворотами.
3. О том, что сразу за знаком начнется участок протяженностью 500 м с опасными поворотами.



3. Какой из знаков распространяет свое действие только на ту полосу, над которой он установлен?

1. Только А.
2. Только Б.
3. Б и В.



4. Этот дорожный знак с желтым фоном информирует Вас о том, что:

1. Дальнейшее движение возможно только по второй полосе.
2. Дальнейшее движение возможно только по проезжей части встречного направления.
3. Дальнейшее движение возможно только по другой дороге.



5. Что означает разметка в виде надписи «СТОП» на проезжей части?

1. Предупреждает о приближении к стоп-линии перед регулируемым перекрестком.
2. Предупреждает о приближении к стоп-линии и знаку «Движение без остановки запрещено».
3. Предупреждает о приближении к знаку «Уступите дорогу».

6. Каким транспортным средствам разрешено движение прямо?

1. Только легковому и грузовому автомобилям.
2. Только грузовому автомобилю.
3. Только грузовому автомобилю и автобусу.
4. Всем транспортным средствам.



7. Вы намерены продолжить движение по главной дороге. Обязаны ли Вы при этом включить правые указатели поворота?

1. Да.
2. Да, только при наличии движущегося сзади транспортного средства.
3. Нет.

8. Кто обязан уступить дорогу?

1. Водитель грузового автомобиля.
2. Водитель легкового автомобиля.



9. По какой траектории Вы можете выполнить разворот?

1. Только по А.
2. Только по Б.
3. По любой.



10. По какой полосе проезжей части Вам разрешено движение в населенном пункте, если по техническим причинам Ваше транспортное средство не может развивать скорость более 40 км/ч?

1. Только по крайней правой.
2. Не далее второй полосы.
3. По любой, кроме крайней левой.

БИЛЕТ № 4 Категории «А» и «В»

<p>11. Разрешено ли Вам обогнать мотоциклиста? 1. Разрешено. 2. Разрешено только после проезда перекрестка. 3. Запрещено.</p> 	<p>12. В каком из указанных мест Вы можете остановиться на легковом автомобиле? 1. Только Б. 2. Только А и Б. 3. Только А и В. 4. В любом.</p> 
<p>13. Вы намерены проехать перекресток в прямом направлении. Ваши действия? 1. Проедете первым. 2. Уступите дорогу только встречному автомобилю. 3. Уступите дорогу только автомобилю с включенными проблесковым маячком и специальным звуковым сигналом. 4. Уступите дорогу обоим транспортным средствам.</p> 	<p>14. Вы намерены продолжить движение в прямом направлении. Ваши действия? 1. Проедете перекресток первым. 2. Продолжите движение только после выезда на перекресток легкового автомобиля.</p> 
<p>15. Вы намерены развернуться. Ваши действия? 1. Уступите дорогу только легковому автомобилю и развернетесь. 2. Уступите дорогу обоим транспортным средствам и развернетесь.</p> 	<p>16. Какие действия запрещены в жилой зоне? 1. Только сквозное движение. 2. Только учебная езда. 3. Только стоянка с работающим двигателем. 4. Все вышеперечисленные действия.</p>
<p>17. Какое расстояние должно быть обеспечено между буксирующим и буксируемым транспортными средствами при буксировке на жесткой сцепке? 1. Не более 4 м. 2. От 4 до 6 м. 3. Правилами не регламентируется.</p>	<p>18. В каком случае Вам разрешается эксплуатация транспортного средства? 1. Загрязнены внешние световые приборы. 2. Нарушена регулировка фар. 3. На световых приборах используются рассеиватели, не соответствующие типу данного светового прибора. 4. Отсутствуют противотуманные фары.</p>
<p>19. Что следует предпринять водителю для предотвращения опасных последствий заноса автомобиля при резком повороте рулевого колеса на скользкой дороге? 1. Быстро, но плавно повернуть рулевое колесо в сторону заноса, затем опережающим воздействием на рулевое колесо выровнять траекторию движения автомобиля. 2. Выключить сцепление. 3. Нажать на педаль тормоза.</p>	<p>20. Какое «восстановительное» положение следует придать пострадавшему без видимых наружных повреждений, находящемуся без сознания, после проведения сердечно-легочной реанимации? 1. Лежа на спине с валиком под головой. 2. Лежа на боку, под голову, повернутую в сторону, подложить верхнюю руку пострадавшего, верхнюю ногу согнуть в колене и положить на землю. 3. Лежа лицом вниз, под лоб подложить руку.</p>

БИЛЕТ № 5 Категории «А» и «В»

1. Сколько проезжих частей имеет данная дорога?

1. Одну.
2. Две.
3. Четыре.



2. Какие знаки распространяют свое действие только на период времени, когда покрытие проезжей части влажное?

1. Только А.
2. Только А и Б.
3. Все.



3. Разрешена ли Вам стоянка в указанном месте?

1. Разрешена.
2. Разрешена, но только в светлое время суток.
3. Запрещена.



4. По какой траектории Вам разрешено продолжить движение?

1. Только по А.
2. Только по А или В.
3. По любой.
4. По любой, кроме Б.



5. Такая вертикальная разметка на ограждении дороги предупреждает Вас:

1. О приближении к железнодорожному переезду.
2. О приближении к опасному пересечению.
3. О движении по опасному участку дороги.



6. Разрешается ли Вам продолжить движение, если при включении желтого сигнала светофора после зеленого Вы можете остановиться перед перекрестком, только применив экстренное торможение?

1. Разрешается.
2. Разрешается, только если Вы намерены проехать перекресток в прямом направлении.
3. Не разрешается.

7. Такой сигнал рукой, подаваемый мотоциклистом, информирует Вас:

1. О его намерении продолжить движение прямо.
2. О его намерении повернуть направо.
3. О его намерении снизить скорость, чтобы остановиться и уступить дорогу легковому автомобилю.



8. В каких направлениях Вы можете продолжить движение по второй полосе на автобусе?

1. Только прямо.
2. Только прямо и налево.
3. Только прямо и направо.
4. Прямо, налево и в обратном направлении.



9. Вам необходимо повернуть на примыкающую справа дорогу. Ваши действия?

1. Не меняя полосы, снизить скорость, затем перестроиться на полосу торможения.
2. Не меняя скорости, перестроиться на полосу торможения, снизить скорость, затем приступить к повороту.
3. Возможны оба варианта действий.



10. С какой максимальной скоростью Вы можете продолжить движение на автобусе, не относящемся к междугородным и маломестным?

1. 60 км/ч.
2. 70 км/ч.
3. 80 км/ч.
4. 90 км/ч.



БИЛЕТ № 5 Категории «А» и «В»

11. Можете ли Вы после опережения грузового автомобиля продолжить движение по левой полосе?

1. Да.
2. Нет.



12. Кто из водителей нарушил правила стоянки?

1. Только А.
2. Только Б.
3. Никто не нарушил.



13. Вы намерены развернуться. Ваши действия?

1. Проедете перекресток первым.
2. Произведете разворот, уступив дорогу легковому автомобилю.



14. Вы намерены проехать перекресток в прямом направлении. Кому следует уступить дорогу?

1. Только трамваю.
2. Только легковому автомобилю.
3. Обоим транспортным средствам.



15. Вы намерены повернуть налево. Ваши действия?

1. Проедете перекресток первым.
2. Уступите дорогу только грузовому автомобилю с включенным проблесковым маячком.
3. Уступите дорогу обоим транспортным средствам.



16. Разрешено ли Вам проехать железнодорожный переезд?

1. Да, так как дежурный по переезду запрещает движение только встречному автомобилю.
2. Да, если отсутствует приближающийся поезд.
3. Нет.



17. В каких случаях разрешено применять звуковые сигналы в населенных пунктах?

1. Только для предупреждения о намерении произвести обгон.
2. Только для предотвращения дорожно-транспортного происшествия.
3. В обоих перечисленных случаях.

18. При каком значении суммарного люфта в рулевом управлении допускается эксплуатация легкового автомобиля?

1. Не более 10 градусов.
2. Не более 20 градусов.
3. Не более 25 градусов.

19. Вероятность возникновения аварийной ситуации при движении в плотном транспортном потоке будет меньше, если скорость Вашего транспортного средства:







1. Значительно меньше средней скорости потока.
2. Значительно больше средней скорости потока.
3. Равна средней скорости потока.

20. При движении в условиях тумана расстояние до предметов представляется:



1. Большим, чем в действительности.
2. Меньшим, чем в действительности.
3. Соответствующим действительности.











БИЛЕТ № 6 Категории «А» и «В»

<p>1. Что называется разрешенной максимальной массой транспортного средства?</p> <ol style="list-style-type: none"> 1. Максимально допустимая для перевозки масса груза, установленная предприятием-изготовителем. 2. Масса снаряженного транспортного средства без учета массы водителя, пассажиров и груза, установленная предприятием-изготовителем. 3. Масса снаряженного транспортного средства с грузом, водителем и пассажирами, установленная предприятием-изготовителем в качестве максимально допустимой. 	<p>2. В каких направлениях Вам разрешено продолжить движение?</p> <ol style="list-style-type: none"> 1. Только прямо. 2. Прямо или в обратном направлении. 3. Во всех направлениях. 
<p>3. Какие знаки разрешают Вам проезд на автомобиле к месту проживания?</p> <ol style="list-style-type: none"> 1. Только А. 2. Только В. 3. Только А и В. 4. Все. <div style="display: flex; justify-content: space-around; align-items: center;"> <div style="text-align: center;">  А </div> <div style="text-align: center;">  Б </div> <div style="text-align: center;">  В </div> </div>	<p>4. Что обозначают эти дорожные знаки?</p> <ol style="list-style-type: none"> 1. Место для стоянки только автобусов. 2. Место для стоянки автобусов и троллейбусов. 3. Место для стоянки транспортных средств, где для дальнейшего движения можно воспользоваться маршрутными транспортными средствами — автобусом или троллейбусом. 
<p>5. Что обозначает разметка в виде треугольника на полосе движения?</p> <ol style="list-style-type: none"> 1. Вы въезжаете на опасный участок дороги. 2. Предупреждает о приближении к месту, где нужно уступить дорогу. 3. Показывает место, где необходимо остановиться. 	<p>6. Разрешается ли Вам продолжить движение, если регулировщик поднял руку вверх после того, как Вы въехали на перекресток?</p> <ol style="list-style-type: none"> 1. Не разрешается. 2. Разрешается, только если Вы поворачиваете направо. 3. Разрешается.
<p>7. Вы намерены продолжить движение по главной дороге. Обязаны ли Вы включить левые указатели поворота?</p> <ol style="list-style-type: none"> 1. Да. 2. Обязаны, если с других направлений приближаются транспортные средства. 3. Нет. 	<p>8. Кому Вы должны уступить дорогу при повороте во двор?</p> <ol style="list-style-type: none"> 1. Только встречному автомобилю. 2. Встречному автомобилю и пешеходам. 3. Никому. 
<p>9. Разрешено ли Вам выполнить разворот на данном перекрестке?</p> <ol style="list-style-type: none"> 1. Да. 2. Нет. 	<p>10. С какой максимальной скоростью Вы можете продолжить движение на междугородном или маломестном автобусе?</p> <ol style="list-style-type: none"> 1. 70 км/ч. 2. 90 км/ч. 3. 110 км/ч. 

БИЛЕТ № 6 Категории «А» и «В»

<p>11. Должны ли Вы уступить дорогу встречному автомобилю? 1. Да. 2. Нет.</p> 	<p>12. Разрешено ли Вам поставить автомобиль на стоянку в указанном месте? 1. Разрешено. 2. Разрешено, если при этом не будут созданы помехи для движения маршрутных транспортных средств. 3. Запрещено.</p> 
<p>13. Вы намерены повернуть налево. Ваши действия? 1. Уступите дорогу трамваю. 2. Проедете перекресток первым. 3. Дождетесь разрешающего сигнала специального светофора и только после этого повернете.</p> 	<p>14. Вы намерены повернуть налево. Ваши действия? 1. Уступите дорогу пешеходам. 2. Проедете перекресток, не уступая дорогу пешеходам.</p> 
<p>15. Вы намерены проехать перекресток в прямом направлении. Ваши действия? 1. Проедете перекресток первым. 2. Уступите дорогу автомобилю с включенными проблесковым маячком и специальным Звуковым Сигналом.</p> 	<p>16. В каком случае Вы можете продолжить движение, приближаясь к остановившемуся транспортному средству, закрывающему видимость регулируемого пешеходного перехода? 1. Только после подачи звукового сигнала. 2. Только после остановки перед пешеходным переходом. 3. Только убедившись, что перед остановившимся транспортным средством нет пешеходов.</p>
<p>17. Дневные ходовые огни предназначены для: 1. Улучшения видимости движущегося транспортного средства в светлое время суток как спереди, так и сзади. 2. Улучшения видимости движущегося транспортного средства в светлое время суток только спереди. 3. Улучшения видимости движущегося транспортного средства в светлое время суток только сзади.</p>	<p>18. Вы имеете право эксплуатировать легковой автомобиль при отсутствии: 1. Аптечки. 2. Огнетушителя. 3. Знака аварийной остановки. 4. Противооткатных упоров.</p>
<p>19. Для обеспечения безопасности при остановке на подъеме (спуске) водителю следует повернуть передние колеса. Водители каких транспортных средств правильно выполнили это требование при отсутствии тротуара? 1. А и Г. 3. А и В. 2. Б и В. 4. Б и Г.</p> 	<p>20. Каковы типичные признаки наступившего утомления водителя? 1. Сонливость, вялость, притупление внимания. 2. Возбужденность, раздражительность. 3. Головокружение, резь в глазах, повышенная потливость.</p>

БИЛЕТ № 7 Категории «А» и «В»

<p>1. Можете ли Вы, будучи владельцем мотоцикла, передавать управление этим транспортным средством в своем присутствии другому лицу, имея при этом соответствующий страховой полис?</p> <ol style="list-style-type: none"> 1. Можете при наличии у этого лица водительского удостоверения на право управления транспортным средством категории «А». 2. Можете при наличии у этого лица водительского удостоверения на право управления транспортным средством категории «В». 3. Не можете. 	<p>2. О чем информируют Вас эти дорожные знаки?</p> <ol style="list-style-type: none"> 1. О приближении к перекрестку, где установлен знак «Уступите дорогу». 2. О приближении к перекрестку, где установлен знак «Движение без остановки запрещено». 3. О приближении к таможене. 
<p>3. Разрешено ли Вам произвести остановку в указанном месте?</p> <ol style="list-style-type: none"> 1. Да. 2. Нет. 	<p>4. Действие каких знаков распространяется только до ближайшего по ходу движения перекрестка?</p> <ol style="list-style-type: none"> 1. А и В. 2. Б и Г. 3. В и Г. 
<p>5. Что обозначают прерывистые линии разметки на перекрестке?</p> <ol style="list-style-type: none"> 1. Обязательное направление движения на перекрестке. 2. Границы полос движения в пределах перекрестка. 	<p>6. В каких направлениях Вам разрешено движение?</p> <ol style="list-style-type: none"> 1. Только прямо. 2. Только прямо и направо. 3. Только прямо, налево и в обратном направлении. 4. В любом. 
<p>7. Когда Вы обязаны выключить левые указатели поворота, выполняя обгон?</p> <ol style="list-style-type: none"> 1. Сразу же после перестроения на левую полосу. 2. После опережения обгоняемого транспортного средства. 3. По своему усмотрению. 	<p>8. Обязаны ли Вы, двигаясь по правой полосе, уступить дорогу водителю автомобиля, который намерен перестроиться на Вашу полосу?</p> <ol style="list-style-type: none"> 1. Обязаны, если водитель пере стравивается после опережения Вашего автомобиля. 2. Обязаны. 3. Не обязаны. 
<p>9. Разрешен ли Вам разворот на указанном участке дороги?</p> <ol style="list-style-type: none"> 1. Разрешен. 2. Разрешен только при видимости дороги более 100 м. 3. Не разрешен. 	<p>10. По какой траектории следует двигаться, поворачивая налево?</p> <ol style="list-style-type: none"> 1. Только по А. 2. Только по Б. 3. По любой. 

БИЛЕТ № 7 Категории «А» и «В»

11. Разрешено ли Вам в конце подъема перестроиться на среднюю полосу для опережения грузового автомобиля?

1. Запрещено.
2. Разрешено.



12. В каком из указанных мест Вы можете поставить на стоянку легковой автомобиль?

1. Только А.
2. Только В.
3. А или В.
4. Ни в каком.



13. Как Вы должны действовать, если Вам необходимо повернуть налево?

1. Выехать за стоп-линию и остановиться на перекрестке, чтобы уступить дорогу встречному автомобилю.
2. Остановиться перед стоп-линией и после проезда легкового автомобиля повернуть налево.
3. Проехать первым.



14. Вы имеете право выехать на перекресток, если за ним образовался затор:

1. Только если Вы намерены проехать перекресток в прямом направлении.
2. Только если Вы намерены совершить поворот или разворот.
3. В любом случае.



15. Вы намерены продолжить движение прямо. Кому следует уступить дорогу?

1. Только мотоциклу.
2. Мотоциклу и легковому автомобилю.
3. Никому.




16. Где могут двигаться пешеходы в жилой зоне?

1. Только по тротуарам,
2. По тротуарам и в один ряд по краю проезжей части.
3. По тротуарам и по всей ширине проезжей части.

17. На каком рисунке изображен автомобиль, водитель которого не нарушает правил перевозки грузов?

1. Только на А.
2. Только на Б.
3. На обоих.



18. В каких случаях разрешается эксплуатация транспортного средства?

1. Содержание вредных веществ в отработавших газах или дымность превышают установленные нормы.
2. Негерметична топливная система.
3. Не работает указатель температуры охлаждающей жидкости.
4. Уровень внешнего шума превышает установленные нормы.


19. Двигаться по глубокому снегу на грунтовой дороге следует:

1. Изменяя скорость движения и передачу в зависимости от состояния дороги.
2. На заранее выбранной пониженной передаче, без резких поворотов и остановок.






20. Что следует сделать для оказания первой помощи пострадавшему при повреждении позвоночника?

1. Уложить пострадавшего на спину на мягкую поверхность.
2. Уложить пострадавшего на спину на ровную твердую поверхность.
3. Уложить пострадавшего на живот, голову повернуть набок.









БИЛЕТ № 8 Категории «А» и «В»

<p>1. Что обязаны сделать в первую очередь водители, причастные к дорожно-транспортному происшествию?</p> <ol style="list-style-type: none"> 1. Освободить проезжую часть. 2. Остановиться, включить аварийную сигнализацию и выставить знак аварийной остановки. 3. Сообщить о случившемся в милицию. 	<p>2. В чем особенность скоростного режима на этом участке дороги?</p> <ol style="list-style-type: none"> 1. Минимальная допустимая скорость движения на этой дороге - 50 км/ч. 2. Рекомендуемая скорость движения на этой дороге - 50 км/ч. 3. Минимальная допустимая скорость движения по левой полосе - 50 км/ч. 
<p>3. Какие знаки запрещают поворот налево?</p> <ol style="list-style-type: none"> 1. Только А. 2. Только А и Б. 3. Только А и В. 4. Все.  <p style="text-align: center;"> А Б В </p>	<p>4. Разрешено ли Вам повернуть направо на этом перекрестке?</p> <ol style="list-style-type: none"> 1. Да. 2. Нет. 
<p>5. Разрешен ли Вам обгон?</p> <ol style="list-style-type: none"> 1. Разрешен. 2. Разрешен, если скорость грузового автомобиля менее 30 км/ч. 3. Не разрешен. 	<p>6. Разрешено ли Вам движение?</p> <ol style="list-style-type: none"> 1. Разрешено только направо. 2. Запрещено. 
<p>7. Водитель легкового автомобиля должен выключить левые указатели поворота:</p> <ol style="list-style-type: none"> 1. Сразу же после перестроения на левую полосу. 2. Только после опережения грузового автомобиля. 3. Только после возвращения на правую полосу. 	<p>8. По какой траектории Правила разрешают Вам произвести поворот налево?</p> <ol style="list-style-type: none"> 1. Только по А. 2. Только по Б. 3. По любой. 
<p>9. Если траектории движения транспортных средств пересекаются, а очередность проезда не оговорена Правилами, Вы должны:</p> <ol style="list-style-type: none"> 1. Уступить дорогу транспортному средству, приближающемуся справа. 2. Уступить дорогу транспортному средству, приближающемуся слева. 	<p>10. По каким полосам Правила разрешают Вам движение на этой дороге?</p> <ol style="list-style-type: none"> 1. По любой. 2. По любой, кроме левой. 3. Только по правой. 

БИЛЕТ № 8 Категории «А» и «В»

<p>11. Разрешено ли Вам после опережения первого автомобиля продолжить движение по левой полосе с целью опережения второго?</p> <ol style="list-style-type: none"> 1. Да. 2. Нет. 	<p>12. Можете ли Вы остановиться в указанном месте после поворота направо?</p> <ol style="list-style-type: none"> 1. Да. 2. Нет. 
<p>13. Кто из водителей, совершающих поворот, нарушает Правила?</p> <ol style="list-style-type: none"> 1. Только водитель легкового автомобиля. 2. Только мотоциклист. 3. Оба нарушают. 4. Оба не нарушают. 	<p>14. Вы намерены повернуть направо. Ваши действия?</p> <ol style="list-style-type: none"> 1. Уступите дорогу только пешеходу, переходящему проезжую часть по нерегулируемому пешеходному переходу. 2. Уступите дорогу только пешеходам, переходящим проезжую часть, на которую Вы поворачиваете. 3. Уступите дорогу всем пешеходам. 
<p>15. Вы намерены повернуть налево. Кому следует уступить дорогу?</p> <ol style="list-style-type: none"> 1. Только трамваям. 2. Трамваю Б и легковому автомобилю. 3. Всем транспортным средствам. 	<p>16. В каких местах Вам разрешено произвести остановку на автомагистрали?</p> <ol style="list-style-type: none"> 1. В любых местах за пределами проезжей части. 2. Только правее линии разметки, обозначающей край проезжей части. 3. Только на специальных площадках для стоянки, обозначенных соответствующими знаками.
<p>17. Какие внешние световые приборы Вы должны использовать при движении в темное время суток на освещенных участках дорог населенного пункта?</p> <ol style="list-style-type: none"> 1. Только габаритные огни. 2. Ближний свет фар или габаритные огни. 3. Только ближний свет фар. 	<p>18. При возникновении какой неисправности Вам запрещено дальнейшее движение даже до места ремонта или стоянки?</p> <ol style="list-style-type: none"> 1. Неисправна рабочая тормозная система. 2. Неисправна система выпуска отработавших газов. 3. Не работает стеклоомыватель.
<p>19. В каком случае легковой автомобиль более устойчив против опрокидывания на повороте?</p> <ol style="list-style-type: none"> 1. Без груза и пассажиров. 2. С пассажирами, но без груза. 3. Без пассажиров, но с грузом на верхнем багажнике. 	<p>20. Как правильно оказать первую помощь при вывихе конечности?</p> <ol style="list-style-type: none"> 1. Постараться вправить вывих и зафиксировать конечность. 2. Зафиксировать конечность в положении, которое она приняла после травмы, приложить к поврежденному суставу пузырь со льдом или холодной водой.

БИЛЕТ № 9 Категории «А» и «В»

<p>1. Какое удостоверение должен иметь водитель, управляющий грузовым автомобилем с разрешенной максимальной массой более 3,5 т с прицепом, имеющим разрешенную максимальную массу более 750 кг?</p> <ol style="list-style-type: none"> 1. На право управления транспортным средством категории «С». 2. На право управления транспортными средствами категорий «А» и «В». 3. На право управления транспортными средствами категорий «С» и «Е». 	<p>2. Знаки предупреждают Вас о том, что:</p> <ol style="list-style-type: none"> 1. На протяжении 150 м возможно появление пешеходов на проезжей части. 2. Через 150 м на Вашем пути будет нерегулируемый пешеходный переход. 
<p>3. В каких направлениях Вам разрешено продолжить движение?</p> <ol style="list-style-type: none"> 1. Только Б. 2. А или Б. 3. Б или В. 	<p>4. Какие знаки запрещают движение транспортных средств, скорость которых по технической характеристике или их состоянию менее 40 км/ч?</p> <ol style="list-style-type: none"> 1. Только А. 2. Только В. 3. А и Б. 
<p>5. Позволяет ли Вам данная разметка выполнить обгон?</p> <ol style="list-style-type: none"> 1. Да. 2. Да, но только если скорость трактора менее 30 км/ч. 3. Нет. 	<p>6. В каких направлениях регулировщик разрешает Вам движение?</p> <ol style="list-style-type: none"> 1. Только прямо. 2. Только прямо и направо. 3. Во всех. 
<p>7. Когда Вы должны включить указатели поворота?</p> <ol style="list-style-type: none"> 1. Непосредственно перед поворотом или разворотом. 2. Заблаговременно до начала выполнения маневра. 3. По своему усмотрению. 	<p>8. Кто должен уступить дорогу?</p> <ol style="list-style-type: none"> 1. Водитель, намеревающийся начать движение от тротуара. 2. Водитель, намеревающийся остановиться у тротуара. 
<p>9. Разрешен ли Вам разворот в этом месте?</p> <ol style="list-style-type: none"> 1. Разрешен. 2. Разрешен, если не будет создано помех движению маршрутных транспортных средств. 3. Не разрешен. 	<p>10. По какой траектории Вы можете продолжить движение?</p> <ol style="list-style-type: none"> 1. Только по А. 2. Только по Б. 3. По любой. 

БИЛЕТ № 9 Категории «А» и «В»

11. Разрешен ли Вам обгон?

1. Разрешен.
2. Разрешен, только если обгон будет завершен до перекрестка.
3. Запрещен.



12. Кто нарушил правила остановки?

1. Оба водителя.
2. Только водитель грузового автомобиля.
3. Только водитель легкового автомобиля.
4. Никто не нарушил.



13. В каком случае Вы имеете право выехать на перекресток, если за ним образовался затор?

1. Только если Вы намерены совершить поворот или разворот.
2. В любом случае.



14. Вы намерены продолжить движение в прямом направлении. Следует ли Вам уступить дорогу грузовому автомобилю?

1. Да.
2. Нет.



15. Вы намерены повернуть налево. Кому следует уступить дорогу?

1. Только автобусу.
2. Только легковому автомобилю.
3. Никому.



16. Разрешается ли движение задним ходом по автомагистрали?

1. Разрешается.
2. Разрешается, если Ваше транспортное средство находится правее сплошной линии разметки, обозначающей край проезжей части автомагистрали.
3. Запрещается.

17. Разрешается ли перевозка людей в прицепе-даче?


1. Не разрешается.
2. Разрешается.
3. Разрешается при наличии места для сидения.

18. В каких случаях Вам запрещается дальнейшее движение даже до места ремонта или стоянки с негорящими (из-за неисправности) фарами и задними габаритными огнями?

1. Только в условиях недостаточной видимости.
2. Только в темное время суток.
3. В обоих перечисленных случаях.

19. На каком рисунке показан безопасный способ разворота вне перекрестка с использованием прилегающей территории слева?

1. На левом.
2. На правом.



20. Какие виды административных наказаний могут применяться к водителям за нарушения Правил?

1. Только предупреждение или штраф.
2. Только предупреждение, штраф или лишение права управления транспортными средствами.
3. Предупреждение, штраф, конфискация орудия совершения или предмета административного правонарушения, лишение права управления транспортными средствами, административный арест.

БИЛЕТ № 10 Категории «А» и «В»

1. На каких рисунках показана главная дорога?

1. Только на левом верхнем.
2. На левом верхнем и нижнем.
3. На всех.



2. Какие знаки означают, что Вы должны уступить дорогу, если встречный разъезд затруднен?

1. Только В.
2. А и В.
3. Б и В.
4. Б и Г.



А Б В Г

3. Разрешено ли Вам поставить автомобиль на стоянку в указанном месте?

1. Разрешено.
2. Разрешено, если Вы проживаете рядом с этим местом.
3. Запрещено.



4. Вы управляете грузовым автомобилем с разрешенной максимальной массой более 3,5 т. В каких направлениях Вам разрешено дальнейшее движение?

1. Только направо.
2. Только направо, налево и в обратном направлении.
3. В любых.



5. Такой вертикальной разметкой обозначают:

1. Все вертикальные элементы дорожных сооружений.
2. Только вертикальные элементы дорожных сооружений, представляющие опасность для движущихся транспортных средств.



6. Кто из водителей может продолжить движение?

1. Только водитель автобуса.
2. Только водитель легкового автомобиля.
3. Оба водителя.
4. Никто.



7. Вы намерены произвести разворот на перекрестке. Какие указатели поворота необходимо включить при въезде на перекресток?

1. Правые.
2. Левые.
3. Включать указатели поворота в этой ситуации нет необходимости.



8. По какой траектории Правила разрешают Вам произвести поворот налево?

1. Только по А.
2. Только по Б.
3. По любой.



9. Водитель легкового автомобиля в данной ситуации:






1. Должен уступить дорогу грузовому автомобилю, так как выезжает с полосы разгона.
2. Имеет преимущественное право на движение, так как находится справа от грузового автомобиля



10. Что должно иметь для Вас решающее значение при выборе скорости движения в темное время суток?

1. Предельные ограничения скорости, установленные для Вашего транспортного средства.
2. Условия видимости.






БИЛЕТ № 10 Категории «А» и «В»

<p>11. Можете ли Вы обогнать трактор?</p> <ol style="list-style-type: none"> 1. Да. 2. Да, если обгон будет завершен за 100 м до переезда. 3. Нет. 	<p>12. Где разрешается стоянка в целях длительного отдыха или ночлега на дорогах вне населенного пункта?</p> <ol style="list-style-type: none"> 1. Только на хорошо просматриваемом месте на обочине. 2. В любом месте на обочине. 3. Только на предусмотренных для этого площадках или за пределами дороги. 4. В любом из перечисленных мест.
<p>13. При включении зеленого сигнала светофора Вы должны:</p> <ol style="list-style-type: none"> 1. Убедиться в отсутствии пешеходов, завершающих переход проезжей части, после чего начать движение. 2. Руководствуясь сигналом светофора, сразу начать движение. 	<p>14. Вы намерены проехать перекресток в прямом направлении. Кому следует уступить дорогу?</p> <ol style="list-style-type: none"> 1. Только трамваю. 2. Только грузовому автомобилю. 3. Обоим транспортным средствам. 
<p>15. Вы намерены повернуть налево. Кому следует уступить дорогу?</p> <ol style="list-style-type: none"> 1. Только автобусу. 2. Только легковому автомобилю. 3. Никому. 	<p>16. Разрешен ли Вам въезд на железнодорожный переезд в данной ситуации?</p> <ol style="list-style-type: none"> 1. Да. 2. Да, если отсутствует приближающийся поезд. 3. Нет. 
<p>17. При движении в условиях недостаточной видимости Вы можете использовать противотуманные фары:</p> <ol style="list-style-type: none"> 1. Как отдельно, так и совместно с ближним или дальним светом фар. 2. Только отдельно от ближнего или дальнего света фар. 3. Только совместно с ближним или дальним светом фар. 	<p>18. Какие из перечисленных транспортных средств разрешается эксплуатировать без медицинской аптечки?</p> <ol style="list-style-type: none"> 1. Автомобили. 2. Автобусы. 3. Все мотоциклы. 4. Только мотоциклы без бокового прицепа.
<p>19. При приближении к вершине подъема в темное время суток водителю рекомендуется переключить дальний свет фар на ближний:</p> <ol style="list-style-type: none"> 1. Только при появлении встречного транспортного средства. 2. Всегда при приближении к вершине подъема. 	<p>20. На какой срок может быть наложен кровоостанавливающий жгут в холодное время года?</p> <ol style="list-style-type: none"> 1. Не более получаса. 2. Не более одного часа. 3. Время не ограничено.









БИЛЕТ № 11 Категории «А» и «В»

<p>1. В каком случае Вы совершите вынужденную остановку?</p> <ol style="list-style-type: none"> 1. Остановившись непосредственно перед пешеходным переходом, чтобы уступить дорогу пешеходу. 2. Остановившись на проезжей части из-за технической неисправности автомобиля. 3. В обоих перечисленных случаях. 	<p>2. Разрешен ли Вам съезд на дорогу с грунтовым покрытием?</p> <ol style="list-style-type: none"> 1. Да. 2. Нет. 
<p>3. Можете ли Вы остановиться для посадки пассажира за знаком?</p> <ol style="list-style-type: none"> 1. Да. 2. Нет. 	<p>4. Какой из знаков обозначает пешеходную дорожку?</p> <ol style="list-style-type: none"> 1. Только Б. 2. Только Б и В. 3. Все знаки. 
<p>5. Вы намерены повернуть налево. Где Вы должны остановиться, чтобы уступить дорогу?</p> <ol style="list-style-type: none"> 1. Перед знаком. 2. Перед перекрестком у линии разметки. 3. На перекрестке перед прерывистой линией разметки. 4. В любом месте по усмотрению водителя. 	<p>6. В каком случае Вам запрещается выполнять обгон транспортного средства, имеющего нанесенные на наружные поверхности специальные цветографические схемы?</p> <ol style="list-style-type: none"> 1. При включении на нем проблесковых маячков синего (синего и красного) цвета и специального звукового сигнала. 2. Только при включении на нем проблесковых маячков синего (синего и красного) цвета. 3. В обоих перечисленных случаях.
<p>7. Обязаны ли Вы в данной ситуации включить сигнал правого поворота?</p> <ol style="list-style-type: none"> 1. Да. 2. Нет. 3. Да, только в темное время суток. 	<p>8. По какой траектории Вы можете выполнить поворот направо?</p> <ol style="list-style-type: none"> 1. Только по А. 2. Только по Б. 3. По любой. 
<p>9. По какой траектории Вы можете выполнить разворот?</p> <ol style="list-style-type: none"> 1. Только по А. 2. Только по А или В. 3. По любой. 	<p>10. В каких случаях Вам разрешено выезжать за пределы крайней правой полосы, если Вы управляете транспортным средством, скорость которого не должна превышать 40 км/ч?</p> <ol style="list-style-type: none"> 1. Только при объезде или перестроении перед поворотом или разворотом. 2. Только при обгоне. 3. В обоих перечисленных случаях.

БИЛЕТ № 11 Категории «А» и «В»

<p>11. Какие требования предъявляются к водителю обгоняемого транспортного средства?</p> <ol style="list-style-type: none"> 1. Он должен уступить дорогу автомобилю, завершающему обгон. 2. Он не должен препятствовать обгону путем повышения скорости движения или иными действиями. 	<p>12. Кто из водителей нарушил правила стоянки?</p> <ol style="list-style-type: none"> 1. Только водитель автомобиля А. 2. Только водитель автомобиля Б. 3. Оба нарушили. 4. Оба не нарушили. 
<p>13. Вы намерены повернуть направо. Следует ли уступить дорогу автомобилю, выполняющему разворот?</p> <ol style="list-style-type: none"> 1. Да. 2. Нет. 	<p>14. Намереваясь продолжить движение в прямом направлении, Вы должны:</p> <ol style="list-style-type: none"> 1. Уступить дорогу легковому автомобилю. 2. Проехать перекресток первым. 
<p>15. Вы намерены продолжить движение прямо. При желтом мигающем сигнале светофора Вы должны:</p> <ol style="list-style-type: none"> 1. Проехать перекресток первым. 2. Уступить дорогу только грузовому автомобилю. 3. Уступить дорогу только трамваю. 4. Уступить дорогу обоим транспортным средствам. 	<p>16. С какой максимальной скоростью разрешено движение транспортным средствам в жилых зонах и на дворовых территориях?</p> <ol style="list-style-type: none"> 1. 10 км/ч. 2. 20 км/ч. 3. 40 км/ч.
<p>17. Вы можете использовать противотуманные фары совместно с ближним или дальним светом фар:</p> <ol style="list-style-type: none"> 1. Только в условиях недостаточной видимости. 2. Только в темное время суток на неосвещенных участках дорог. 3. В обоих перечисленных случаях. 	<p>18. В каком из перечисленных случаев длина пути обгона будет больше?</p> <ol style="list-style-type: none"> 1. При скорости движения обгоняемого транспортного средства 40 км/ч и обгоняющего 60 км/ч. 2. При скорости движения обгоняемого транспортного средства 70 км/ч и обгоняющего 90 км/ч. 3. Длина пути обгона в обоих случаях будет одинакова.
<p>19. Для предупреждения скатывания автомобиля при остановке на подъеме (спуске) водителю следует повернуть передние колеса. Водители каких транспортных средств правильно выполнили это требование при наличии тротуара?</p> <ol style="list-style-type: none"> 1. А и Г. 2. Б и В. 3. А и В. 4. Б и Г. 	<p>20. Административная ответственность установлена за нарушение Правил дорожного движения или правил эксплуатации транспортного средства, повлекшее причинение:</p> <ol style="list-style-type: none"> 1. Легкого вреда здоровью человека либо незначительного материального ущерба. 2. Легкого или средней тяжести вреда здоровью человека либо материального ущерба. 3. Легкого или средней тяжести вреда здоровью человека.










БИЛЕТ № 12 Категории «А» и «В»

<p>1. Можете ли Вы, будучи владельцем легкового автомобиля, передавать управление этим транспортным средством в своем присутствии другому лицу, имея соответствующий страховой полис?</p> <ol style="list-style-type: none"> 1. Можете при наличии у этого лица водительского удостоверения на право управления транспортным средством категории «С». 2. Можете при наличии у этого лица водительского удостоверения на право управления транспортным средством категории «В». 3. Не можете. 	<p>2. Этот дорожный знак:</p> <ol style="list-style-type: none"> 1. Предупреждает о наличии узкого участка дороги, но не устанавливает очередность движения. Запрещает проезд через мост. Обязывает уступить дорогу встречному транспортному средству 
<p>3. В каких направлениях Вам разрешено продолжить движение на перекрестке?</p> <ol style="list-style-type: none"> 1. Только налево и в обратном направлении. 2. Только прямо, налево и в обратном направлении. 3. В любых. 	<p>4. О чем информирует водителя табличка, установленная под знаком?</p> <ol style="list-style-type: none"> 1. Стоянка оборудована пунктом технической помощи. 2. На стоянке имеется эстакада или смотровая канава. 
<p>5. Водитель какого автомобиля не нарушает Правила?</p> <ol style="list-style-type: none"> 1. Только А. 2. Только Б. 3. Оба нарушают. 4. Оба не нарушают. 	<p>6. Какое значение имеет сигнал свистком, подаваемый регулировщиком?</p> <ol style="list-style-type: none"> 1. Вы должны немедленно остановиться. 2. Вы должны ускорить движение. 3. Сигнал подается для привлечения внимания участников движения.
<p>7. Вы намерены повернуть налево на этом перекрестке. В какой момент Вам следует включить левые указатели поворота?</p> <ol style="list-style-type: none"> 1. Заблаговременно, до въезда на перекресток. 2. После въезда на первое пересечение проезжих частей 3. По Вашему усмотрению 	<p>8. Вы намерены повернуть на перекрестке направо. Как Вам следует поступить?</p> <ol style="list-style-type: none"> 1. Перестроиться на правую полосу, затем осуществить поворот. 2. Продолжить движение по второй полосе до перекрестка, затем повернуть. 3. Возможны оба способа. 
<p>9. Разрешен ли Вам такой маневр на мосту?</p> <ol style="list-style-type: none"> 1. Разрешен только при видимости дороги более 100 м. 2. Не разрешен. 	<p>10. С какой скоростью Вы можете продолжить движение в населенном пункте по правой полосе?</p> <ol style="list-style-type: none"> 1. Не более 50 км/ч. 2. Не более 60 км/ч. 3. Не менее 50 км/ч и не более 60 км/ч. 






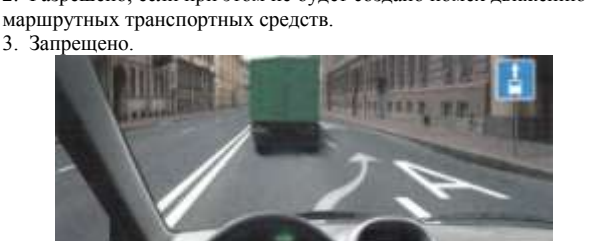
БИЛЕТ № 12 Категории «А» и «В»

<p>11. Разрешен ли Вам обгон в данной ситуации? 1. Да. 2. Да, если обгон будет завершен до перекрестка. 3. Нет.</p> 	<p>12. Разрешено ли Вам поставить автомобиль на стоянку в указанном месте? 1. Запрещено. 2. Разрешено.</p>
<p>13. Разрешено ли Вам повернуть направо? 1. Да, уступив дорогу пешеходам. 2. Нет.</p> 	<p>14. Вы намерены продолжить движение по перекрестку с круговым движением. Следует ли уступить дорогу грузовому автомобилю? 1. Да. 2. Нет.</p> 
<p>15. Вы намерены повернуть налево. Кому следует уступить дорогу? 1. Всем транспортным средствам. 2. Только легковому автомобилю. 3. Только легковому автомобилю и автобусу.</p> 	<p>16. Разрешается ли учебная езда на автомагистрали? 1. Разрешается. 2. Разрешается только по крайней правой полосе. 3. Запрещается.</p>
<p>17. При движении в темное время суток на неосвещенных участках дорог Вы можете использовать противотуманные фары: 1. Только отдельно от ближнего или дальнего света фар. 2. Только совместно с ближним или дальним светом фар. 3. Как отдельно, так и совместно с ближним или дальним светом фар.</p>	<p>18. При какой неисправности тормозной системы Вам запрещается эксплуатация транспортного средства? 1. Не включается контрольная лампа стояночной тормозной системы. 2. Стояночная тормозная система не обеспечивает неподвижное состояние транспортного средства с полной нагрузкой на уклоне до 16 % включительно. 3. Уменьшен свободный ход педали тормоза.</p>
<p>19. На каком рисунке показан безопасный способ разворота вне перекрестка с использованием прилегающей территории справа? 1. На левом. 2. На правом.</p> 	<p>20. Что следует сделать в первую очередь для оказания помощи лежащему на земле пострадавшему без видимых наружных повреждений, но находящемуся в бессознательном состоянии? 1. Поднести к носу ватку с нашатырным спиртом, приподнять голову, дать питье. 2. Подложить под ноги валик, срочно вызвать «Скорую медицинскую помощь». 3. Запрокинуть голову на затылок, открыть рот, при необходимости очистить ротовую полость от инородных масс, контролировать наличие дыхания и пульса, срочно вызвать «Скорую медицинскую помощь».</p>

БИЛЕТ № 13 Категории «А» и «В»

<p>1. Нарушает ли водитель Правила, двигаясь посередине дороги?</p> <ol style="list-style-type: none"> 1. Не нарушает. 2. Не нарушает, если отсутствуют встречные транспортные средства. 3. Нарушает. 	<p>2. Как следует поступить, если Вам необходимо развернуться?</p> <ol style="list-style-type: none"> 1. Развернуться на этом перекрестке при отсутствии на нем других транспортных средств. 2. Проехать прямо и развернуться за перекрестком. 3. Проехать прямо и развернуться только на следующем перекрестке. 
<p>3. Разрешена ли Вам стоянка в указанном месте?</p> <ol style="list-style-type: none"> 1. Да. 2. Нет. 	<p>4. Эта табличка распространяет действие установленного с ней знака:</p> <ol style="list-style-type: none"> 1. Только на легковые автомобили. 2. На легковые автомобили, а также на грузовые автомобили с разрешенной максимальной массой до 3,5 т. 3. На легковые автомобили и мотоциклы. 
<p>5. В каком из указанных мест Вы можете пересечь сплошную линию разметки и остановиться?</p> <ol style="list-style-type: none"> 1. Только Б. 2. В любом. 3. Ни в одном. 	<p>6. Ваши действия в данной ситуации?</p> <ol style="list-style-type: none"> 1. Проехать переезд. 2. Остановиться перед переездом. 
<p>7. Когда может быть прекращена подача сигнала рукой о повороте?</p> <ol style="list-style-type: none"> 1. Непосредственно перед началом маневра. 2. Только после окончания маневра. 	<p>8. С какой полосы Вы можете въехать на данный перекресток?</p> <ol style="list-style-type: none"> 1. Только с правой. 2. С правой или левой. 
<p>9. Разрешен ли Вам разворот на указанном участке дороги?</p> <ol style="list-style-type: none"> 1. Разрешен. 2. Разрешен только при видимости дороги более 100 м. 3. Не разрешен. 	<p>10. С какой максимальной скоростью Вы можете продолжить движение на легковом автомобиле?</p> <ol style="list-style-type: none"> 1. 60 км/ч. 2. 70 км/ч. 3. 90 км/ч. 4. 110 км/ч. 

БИЛЕТ № 13 Категории «А» и «В»

<p>11. Разрешен ли Вам обгон сразу трех транспортных средств после проезда пешеходного перехода? 1. Запрещен. 2. Разрешен.</p> 	<p>12. Можете ли Вы остановиться на мосту для посадки пассажира? 1. Да. 2. Нет.</p> 
<p>13. Вы намерены проехать перекресток в прямом направлении. Ваши действия? 1. Проедете перекресток первым. 2. Уступите дорогу трамваю.</p> 	<p>14. Кто из водителей должен уступить дорогу пешеходам? 1. Только водитель легкового автомобиля. 2. Только водитель грузового автомобиля. 3. Оба водителя.</p> 
<p>15. Вы намерены повернуть налево. Можете ли Вы приступить к повороту? 1. Да. 2. Да, но не создавая помех грузовому автомобилю. 3. Нет.</p> 	<p>16. Разрешено ли Вам продолжить движение по правой полосе? 1. Разрешено, если скорость грузового автомобиля менее 30 км/ч. 2. Разрешено, если при этом не будет создано помех движению маршрутных транспортных средств. 3. Запрещено.</p> 
<p>17. Вы можете использовать задние противотуманные фонари: 1. Только в условиях недостаточной видимости. 2. Только при движении в темное время суток. 3. В обоих перечисленных случаях.</p>	<p>18. При возникновении какой неисправности Вам запрещено дальнейшее движение даже до места ремонта или стоянки? 1. Не работает стеклоподъемник. 2. Неисправно рулевое управление. 3. Неисправен глушитель.</p>
<p>19. Двигаясь в прямом направлении со скоростью 60 км/ч, Вы внезапно попали на небольшой участок скользкой дороги. Что следует предпринять? 1. Плавно затормозить. 2. Не менять траектории и скорости движения.</p>	<p>20. На какой срок может быть наложен кровоостанавливающий жгут в теплое время года? 1. Не более получаса. 2. Не более одного часа. 3. Время не ограничено.</p>

БИЛЕТ № 14 Категории «А» и «В»

1. Что означает термин «Ограниченная видимость»?

1. Видимость дороги, ограниченная рельефом местности, геометрическими параметрами дороги, растительностью, строениями, сооружениями или другими объектами.
2. Видимость дороги менее 300 м в условиях тумана, дождя, снегопада, а также в сумерки.
3. Видимость дороги менее 150 м в ночное время.

2. Эти знаки предупреждают Вас о том, что:

1. Остановка транспортных средств на обочине запрещена.
2. Съезд на обочину опасен в связи с проведением на ней ремонтных работ.
3. Остановка разрешена только на проезжей части.



3. Какие знаки разрешают движение грузовым автомобилям с разрешенной максимальной массой более 3,5 т?

1. Только А.
2. Только А и Б.
3. Все.



А



Б



В

4. В каких направлениях Вы можете продолжить движение по крайней левой полосе на легковом автомобиле?

1. Только налево.
2. Только прямо или налево.
3. Прямо, налево или в обратном направлении.



5. Что означают прерывистые линии разметки в данной ситуации?

1. Места, где разрешен съезд на обочину только для остановки.
2. Край проезжей части на двухполосных дорогах.
3. Места, где разрешено движение по обочине.



6. Должны ли Вы остановиться по требованию регулировщика в указанном им месте?

1. Да.
2. Да, но только с заездом на тротуар.
3. Нет.



7. Такой сигнал рукой, подаваемый мотоциклистом, информирует Вас:

1. О его намерении повернуть налево или выполнить разворот.
2. О его намерении продолжить движение прямо или налево.
3. О наличии транспортного средства, приближающегося слева.



8. Обязаны ли Вы, двигаясь по левой полосе, уступить дорогу водителю автомобиля, который намерен перестроиться на вашу полосу?

1. Не обязаны.
2. Обязаны.



9. Можете ли Вы развернуться в этом месте?







1. Да.
2. Да, но только в светлое время суток.
3. Нет.





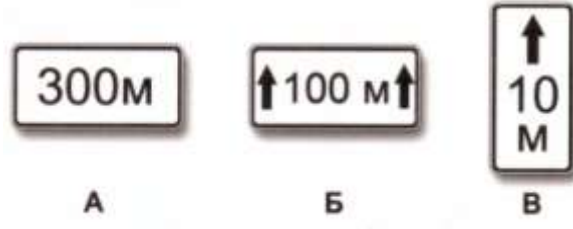





10. В каких случаях допускается движение автомобилей по тротуарам или пешеходным дорожкам?

1. В любых, если не будут созданы помехи пешеходам.
2. Только если Вы обслуживаете торговые или другие предприятия, расположенные непосредственно у этих тротуаров или дорожек при отсутствии других возможностей подъезда.






БИЛЕТ № 14 Категории «А» и «В»

<p>11. В этой ситуации, двигаясь на спуске, Вы:</p> <ol style="list-style-type: none"> 1. Должны уступить дорогу. 2. Имеете право проехать первым. 	<p>12. Можете ли Вы остановиться на мосту в указанном месте?</p> <ol style="list-style-type: none"> 1. Да. 2. Да, только для высадки пассажиров. 3. Нет. 
<p>13. При включении зеленого сигнала светофора Вы должны:</p> <ol style="list-style-type: none"> 1. Уступить дорогу грузовому автомобилю, завершающему разворот на перекрестке. 2. Начать движение, не уступая дорогу грузовому автомобилю. 	<p>14. При повороте налево Вы должны:</p> <ol style="list-style-type: none"> 1. Уступить дорогу легковому автомобилю. 2. Проехать перекресток первым. 
<p>15. При повороте налево во второй проезд Вы:</p> <ol style="list-style-type: none"> 1. Имеете преимущество. 2. Должны уступить дорогу легковому автомобилю и автобусу. 3. Должны уступить дорогу только автобусу. 	<p>16. Кто из водителей нарушает правила разворота на автомагистрали?</p> <ol style="list-style-type: none"> 1. Только водитель легкового автомобиля. 2. Только водитель грузового автомобиля, выполняющего ремонтные или уборочные работы. 3. Оба нарушают. 4. Оба не нарушают. 
<p>17. Разрешается ли буксировка мотоцикла с боковым прицепом?</p> <ol style="list-style-type: none"> 1. Да. 2. Нет. 	<p>18. Какие преимущества дает Вам использование зимних шин в холодное время года?</p> <ol style="list-style-type: none"> 1. Исключается возможность возникновения заноса. 2. Появляется возможность в любых погодных условиях двигаться с максимально допустимой скоростью. 3. Уменьшается возможность проскальзывания и пробуксовки колес на скользком покрытии.
<p>19. Как влияет длительный разгон транспортного средства с включенной первой передачей на расход топлива?</p> <ol style="list-style-type: none"> 1. Расход топлива увеличивается. 2. Расход топлива уменьшается. 3. Расход топлива не изменяется. 	<p>20. В каких случаях водитель направляется на медицинское освидетельствование на состояние опьянения?</p> <ol style="list-style-type: none"> 1. Только при отказе от прохождения освидетельствования на состояние алкогольного опьянения. 2. Только при несогласии с результатами освидетельствования на состояние алкогольного опьянения. 3. Только при наличии достаточных оснований полагать, что водитель находится в состоянии опьянения, и отрицательном результате освидетельствования на состояние алкогольного опьянения. 4. Во всех перечисленных случаях.


БИЛЕТ № 15 Категории «А» и «В»

<p>1. Какой неподвижный объект, не позволяющий продолжить движение по полосе, не относится к понятию «Препятствие»?</p> <ol style="list-style-type: none"> 1. Дефект проезжей части. 2. Посторонний предмет. 3. Неисправное или поврежденное транспортное средство. 4. Транспортное средство, остановившееся на этой полосе из-за образования затора. 	<p>2. В каких направлениях Вам разрешено продолжить движение на перекрестке?</p> <ol style="list-style-type: none"> 1. Только Б. 2. Б или В. 3. А или Б. 
<p>3. Этот дорожный знак:</p> <ol style="list-style-type: none"> 1. Рекомендует двигаться со скоростью 40 км/ч. 2. Требуется двигаться со скоростью не менее 40 км/ч. 3. Запрещает движение со скоростью более 40 км/ч. 	<p>4. Какие таблички указывают протяженность зоны действия знаков, с которыми они применяются?</p> <ol style="list-style-type: none"> 1. Только А. 2. Только Б. 3. Б и В. 
<p>5. Разрешен ли Вам такой маневр при выключенных реверсивных светофорах?</p> <ol style="list-style-type: none"> 1. Разрешен, если нет встречных транспортных средств. 2. Разрешен только для обгона. 3. Не разрешен. 	<p>6. При таком жесте регулировщика и сигналах светофора Вы должны:</p> <ol style="list-style-type: none"> 1. Продолжить движение прямо. 2. Продолжить движение прямо или направо. 3. Остановиться у стоп-линий. 
<p>7. Должен ли в этой ситуации водитель, остановившийся из-за неисправности, выставить знак аварийной остановки?</p> <ol style="list-style-type: none"> 1. Должен, если неисправна аварийная сигнализация. 2. Должен во всех случаях. 3. Не должен. 	<p>8. По какой траектории Вам разрешено продолжить движение налево?</p> <ol style="list-style-type: none"> 1. Только по А. 2. Только по Б. 3. По любой. 
<p>9. Вы выезжаете с места стоянки одновременно с другим автомобилем. Должны ли Вы уступить дорогу в данной ситуации?</p> <ol style="list-style-type: none"> 1. Да. 2. Нет. 	<p>10. В каком случае Вы можете прибегнуть к резкому торможению?</p> <ol style="list-style-type: none"> 1. Только для остановки перед перекрестком или пешеходным переходом, когда после зеленого сигнала неожиданно для Вас включился желтый сигнал светофора. 2. Только для предотвращения дорожно-транспортного происшествия. 3. В обоих перечисленных случаях.

БИЛЕТ № 15 Категории «А» и «В»

<p>11. Разрешен ли на двухполосной дороге обгон на перекрестках?</p> <ol style="list-style-type: none"> 1. Разрешен только на нерегулируемых перекрестках. 2. Разрешен только на перекрестках неравнозначных дорог при движении по главной дороге. 3. Запрещен во всех случаях. 	<p>12. Кто из водителей нарушил правила остановки?</p> <ol style="list-style-type: none"> 1. Только водитель автомобиля. 2. Только водитель мотоцикла. 3. Оба нарушили. 4. Оба не нарушили. 
<p>13. Вы намерены проехать перекресток в прямом направлении. Ваши действия?</p> <ol style="list-style-type: none"> 1. Проедете перекресток первым. 2. Уступите дорогу трамваю. 	<p>14. Намереваясь продолжить движение в прямом направлении, Вы должны:</p> <ol style="list-style-type: none"> 1. Проехать перекресток первым. 2. Уступить дорогу только трамваю. 3. Уступить дорогу трамваю и легковому автомобилю. 
<p>15. Вы намерены повернуть налево. Кому следует уступить дорогу?</p> <ol style="list-style-type: none"> 1. Только автобусу. 2. Только легковому автомобилю. 3. Никому. 	<p>16. По какой траектории можно продолжить движение направо?</p> <ol style="list-style-type: none"> 1. Только по А. 2. Только по Б. 3. По А и Б. 4. По Б и В. 5. По любой. 
<p>17. Как Вы можете в светлое время суток привлечь внимание водителя обгоняемого автомобиля при движении вне населенного пункта?</p> <ol style="list-style-type: none"> 1. Только звуковым сигналом. 2. Только кратковременным переключением фар с ближнего света на дальний. 3. Любым из перечисленных способов, включая совместную подачу этих сигналов. 	<p>18. Какие из перечисленных транспортных средств разрешается эксплуатировать без огнетушителя?</p> <ol style="list-style-type: none"> 1. Автомобили. 2. Автобусы. 3. Все мотоциклы. 4. Только мотоциклы без бокового прицепа.
<p>19. При торможении двигателем на крутом спуске водитель должен выбирать передачу, исходя из условий:</p> <ol style="list-style-type: none"> 1. Чем круче спуск, тем выше передача. 2. Чем круче спуск, тем ниже передача. 3. Выбор передачи не зависит от крутизны спуска. 	<p>20. Как наложить шину при переломе костей голени?</p> <ol style="list-style-type: none"> 1. Наложить шину с внешней стороны ноги от стопы до тазобедренного сустава. 2. Наложить две шины с наружной и внутренней сторон ноги от стопы до середины бедра с фиксацией голеностопного и коленного суставов.

БИЛЕТ № 16 Категории «А» и «В»

<p>1. Разрешается ли водителю легкового автомобиля занять место в движущейся организованной колонне?</p> <p>1. Разрешается, если на дороге имеется не более трех полос для движения.</p> <p>2. Разрешается, если скорость движущихся в колонне транспортных средств не более 30 км/ч.</p> <p>3. Не разрешается.</p>	<p>2. В какой из дворов Вы можете въехать в данной ситуации?</p> <p>1. Только во двор налево.</p> <p>2. Только во двор направо.</p> <p>3. В любой.</p> <p>4. Повороты во дворы запрещены.</p> 
<p>3. Какой знак запрещает дальнейшее движение всех без исключения транспортных средств?</p> <p>1. А. 2. Б. 3. В.</p>  <p style="text-align: center;"> А Б В </p>	<p>4. О чем информируют Вас эти знаки?</p> <p>1. При влажном покрытии рекомендуемая скорость 40 км/ч.</p> <p>2. При влажном покрытии разрешенная скорость не более 40 км/ч.</p> 
<p>5. Разрешена ли Вам остановка в указанном месте?</p> <p>1. Разрешена.</p> <p>2. Разрешена без заезда на тротуар.</p> <p>3. Запрещена.</p> 	<p>6. О чем информирует Вас сигнал светофора в виде стрелки красного цвета?</p> <p>1. На этом перекрестке всегда запрещен поворот направо.</p> <p>2. Поворот направо разрешен, но необходимо уступить дорогу пешеходам.</p> <p>3. При включении зеленого сигнала светофора движение будет разрешено только направо.</p> 
<p>7. В каких случаях на буксируемом механическом транспортном средстве должна быть включена аварийная световая сигнализация?</p> <p>1. Только в условиях недостаточной видимости.</p> <p>2. Только в темное время суток.</p> <p>3. Во всех случаях, когда осуществляется буксировка.</p>	<p>8. По какой траектории Правила разрешают Вам произвести поворот налево?</p> <p>1. Только по А.</p> <p>2. Только по Б.</p> <p>3. По любой.</p> 
<p>9. Разрешено ли Вам на перекрестке произвести разворот указанным способом?</p> <p>1. Да.</p> <p>2. Да, если не будут созданы помехи другим участникам движения.</p> <p>3. Нет.</p> 	<p>10. С какой максимальной скоростью Вы можете продолжить движение на грузовом автомобиле с разрешенной максимальной массой более 3,5 т?</p> <p>1. 60 км/ч.</p> <p>2. 70 км/ч.</p> <p>3. 90 км/ч.</p> 

- 11. Разрешен ли Вам обгон в данной ситуации?**
 1. Разрешен.
 2. Разрешен, только если скорость грузового автомобиля менее 30 км/ч.
 3. Запрещен.



- 12. В каком из указанных мест Вы можете поставить автомобиль на стоянку?**
 1. Только В.
 2. Б или В.
 3. В любом.



- 13. Вы намерены проехать перекресток в прямом направлении. Ваши действия?**
 1. Проедете перекресток первым.
 2. Уступите дорогу только трамваю.
 3. Уступите дорогу трамваю и автомобилю.



- 14. При въезде на перекресток Вы:**
 1. Должны уступить дорогу только мотоциклу.
 2. Должны уступить дорогу обоим транспортным средствам.
 3. Имеете преимущественное право на движение.



- 15. Вы намерены повернуть налево. Кому следует уступить дорогу?**
 1. Только автобусу.
 2. Только легковому автомобилю.
 3. Обоим транспортным средствам.



- 16. В каком случае на автомагистрали Вам разрешено остановиться правее линии, обозначающей край проезжей части?**
 1. В любом случае.
 2. Только в светлое время суток.
 3. Только в случае вынужденной остановки.



- 17. Какие из перечисленных требований являются обязательными при перевозке детей?**
 1. Запрещается перевозка детей до 12-летнего возраста на переднем сиденье легкового автомобиля без использования детских удерживающих устройств.
 2. Запрещается перевозка детей до 12-летнего возраста на заднем сиденье мотоцикла.
 3. Оба требования являются обязательными.








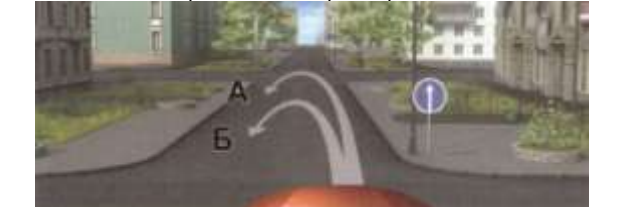
- 18. В каком случае Вам запрещается дальнейшее движение на автомобиле с прицепом даже до места ремонта или стоянки?**
 1. Не установлен опознавательный знак автопоезда.
 2. Отсутствуют предусмотренные конструкцией зеркала заднего вида.
 3. Неисправно сцепное устройство.

- 19. На каком рисунке водитель выполняет правый поворот по траектории, обеспечивающей наибольшую безопасность движения?**
 1. На правом.
 2. На левом.









- 20. В чем заключается первая помощь пострадавшему при шоке?**
 1. Обрызгать лицо холодной водой, энергично растереть кожу лица.
 2. Уложить пострадавшего, укрыть, контролировать дыхание и пульс.
 3. Придать пострадавшему положение лежа или полусидя, на лоб и затылок положить холодные примочки.









БИЛЕТ № 17 Категории «А» и «В»

<p>1. Являются ли тротуары и обочины частью дороги?</p> <ol style="list-style-type: none"> 1. Являются. 2. Являются только обочины. 3. Не являются. 	<p>2. На каком расстоянии до неровного участка дороги устанавливается этот знак вне населенного пункта?</p> <ol style="list-style-type: none"> 1. 150-300 м. 2. 50-100 м. 3. Непосредственно перед неровным участком дороги. 
<p>3. Требования каких знаков вступают в силу непосредственно в том месте, где они установлены?</p> <ol style="list-style-type: none"> 1. Только А и Б. 2. Только Б. 3. Всех. 	<p>4. По какой траектории Вам разрешено продолжить движение?</p> <ol style="list-style-type: none"> 1. Только по А. 2. Только по А или В. 3. По любой. 4. По любой, кроме Б. 
<p>5. Позволяет ли Вам данная разметка выполнить обгон?</p> <ol style="list-style-type: none"> 1. Да. 2. Позволяет, если скорость трактора менее 30 км/ч. 3. Нет. 	<p>6. В каком месте Вам следует остановиться?</p> <ol style="list-style-type: none"> 1. Перед светофором. 2. Перед пересекаемой проезжей частью. 3. В любом. 
<p>7. На каком расстоянии от транспортного средства должен быть выставлен знак аварийной остановки в данной ситуации?</p> <ol style="list-style-type: none"> 1. Не менее 15 м. 2. Не менее 20 м. 3. Не менее 30 м. 4. Не менее 100 м. 	<p>8. Разрешен ли Вам поворот направо в данной ситуации ?</p> <ol style="list-style-type: none"> 1. Да. 2. Нет. 
<p>9. По какой траектории Вам разрешено выполнить разворот?</p> <ol style="list-style-type: none"> 1. Только на перекрестке — по траектории А. 2. Только перед перекрестком — по траектории Б. 3. По любой из предложенных траекторий. 4. Ни по одной из предложенных траекторий. 	<p>10. Разрешается ли Вам двигаться со слишком малой скоростью?</p> <ol style="list-style-type: none"> 1. Разрешается. 2. Разрешается, если Вы не создадите помех другим транспортным средствам. 3. Запрещается.

БИЛЕТ № 17 Категории «А» и «В»

<p>11. Разрешено ли Вам начать обгон в населенном пункте? 1. Да. 2. Да, если обгон будет завершен до переезда. 3. Нет.</p> 	<p>12. В каком месте на данном участке дороги Вы можете поставить автомобиль на длительную стоянку? 1. В любом месте на обочине. 2. Только через 500 м на специальной площадке. 3. В обоих указанных местах.</p> 
<p>13. При повороте направо Вы должны уступить дорогу: 1. Только велосипедисту. 2. Только пешеходам. 3. Пешеходам и велосипедисту. 4. Никому.</p> 	<p>14. Вы намерены повернуть налево. Ваши действия? 1. Уступите дорогу обоим грузовым автомобилям. 2. Выехав на перекресток, уступите дорогу встречному грузовому автомобилю и завершите поворот 3. Выехав на перекресток, уступите дорогу встречному грузовому автомобилю и завершите поворот</p> 
<p>15. Эти знаки, установленные перед перекрестком, означают, что: 1. Находясь на таком перекрестке, Вы должны будете уступать дорогу всем ТС, въезжающим на него. 2. Находясь на таком перекрестке, Вы будете иметь преимущество перед всеми ТС, въезжающими на него.</p> 	<p>16. Кто из водителей должен уступить дорогу трамваю? 1. Оба водителя. 2. Только водитель грузового автомобиля. 3. Только водитель легкового автомобиля. 4. Никто из водителей.</p> 
<p>17. Разрешается ли перевозка людей в буксируемом на жесткой сцепке автобусе? 1. Разрешается. 2. Разрешается только в светлое время суток. 3. Запрещается.</p>	<p>18. Что следует сделать водителю, чтобы предотвратить возникновение заноса при проезде крутого поворота? 1. Перед поворотом снизить скорость и выжать педаль сцепления, чтобы дать возможность автомобилю двигаться накатом на повороте. 2. Перед поворотом снизить скорость, при необходимости включить пониженную передачу, а при проезде поворота не увеличивать резко скорость и не тормозить. 3. Допускается любое из перечисленных действий.</p>
<p>19. Как изменяется длина тормозного пути легкового автомобиля при движении с прицепом, не имеющим тормозной системы? 1. Уменьшается, так как прицеп оказывает дополнительное сопротивление движению. 2. Увеличивается. 3. Не изменяется.</p>	<p>20. В темное время суток и в пасмурную погоду скорость встречного автомобиля воспринимается: 1. Ниже, чем в действительности. 2. Выше, чем в действительности. 3. Восприятие скорости не меняется.</p>

БИЛЕТ № 18 Категории «А» и «В»

<p>1. Что означает термин «обгон»?</p> <ol style="list-style-type: none"> 1. опережение одного или нескольких транспортных средств, связанное с выездом из занимаемой полосы. 2. опережение одного или нескольких транспортных средств, связанное с выездом на полосу (сторону проезжей части), предназначенную для встречного движения, и последующим возвращением на ранее занимаемую полосу (сторону проезжей части). 3. Любое опережение одного или нескольких транспортных средств. 	<p>2. Этот дорожный знак предупреждает Вас:</p> <ol style="list-style-type: none"> 1. О приближении к скользкому участку дороги. 2. О приближении к мокрому и загрязненному участку дороги. 3. О приближении к участку дороги, где возможен выброс щебня из-под колес. 
<p>3. Разрешено ли Вам поставить автомобиль на стоянку в указанном месте по четным числам месяца?</p> <ol style="list-style-type: none"> 1. Разрешено. 2. Разрешено только после 19 часов. 3. Запрещено. 	<p>4. Какие знаки информируют Вас, что на данной дороге действуют требования Правил, устанавливающие порядок движения в населенных пунктах?</p> <ol style="list-style-type: none"> 1. Только А. 2. Только А и Б. 3. Все. 
<p>5. В данной ситуации Вы должны:</p> <ol style="list-style-type: none"> 1. Остановиться у знака. 2. Остановиться у стоп-линий. 3. При отсутствии других транспортных средств проехать перекресток без остановки. 	<p>6. В каких направлениях Вам разрешено движение?</p> <ol style="list-style-type: none"> 1. Только прямо и налево. 2. Только прямо, налево и в обратном направлении. 3. В любом. 
<p>7. Вы намерены остановиться слева у тротуара. Следует ли в данной ситуации включать указатели поворота?</p> <ol style="list-style-type: none"> 1. Да. 2. Нет. 3. По Вашему усмотрению. 	<p>8. По какой траектории Вы можете продолжить движение?</p> <ol style="list-style-type: none"> 1. По любой. 2. Только по А. 3. Только по А или В. 
<p>9. Для обеспечения безопасности при выезде задним ходом с места стоянки, имеющего ограниченную видимость, необходимо:</p> <ol style="list-style-type: none"> 1. Подать звуковой сигнал. 2. Включить аварийную сигнализацию. 3. Прибегнуть к помощи других лиц. 	<p>10. Можете ли Вы продолжить движение по средней полосе после обгона?</p> <ol style="list-style-type: none"> 1. Да. 2. Нет. 

БИЛЕТ № 18 Категории «А» и «В»

<p>11. Имеет ли право водитель легкового автомобиля начать обгон? 1. Да. 2. Нет.</p> 	<p>12. Разрешено ли Вам остановиться на легковом автомобиле в указанном месте? 1. Да. 2. Нет.</p> 
<p>13. Вы намерены повернуть направо. Следует ли уступить дорогу легковому автомобилю? 1. Да. 2. Нет.</p> 	<p>14. Вы намерены повернуть налево. Ваши действия? 1. Проедете перекресток первым. 2. Уступите дорогу автомобилю.</p> 
<p>15. Вы намерены проехать перекресток в прямом направлении. Должны ли Вы уступить дорогу встречному автомобилю с включенным проблесковым маячком? 1. Да. 2. Нет.</p> 	<p>16. Обязаны ли Вы уступить дорогу маршрутному транспортному средству, отъезжающему от тротуара, где нет обозначенного места остановки? 1. Да. 2. Нет.</p> 
<p>17. Разрешается ли Вам буксировать автомобиль с недействующей тормозной системой, если фактическая масса этого автомобиля превышает половину фактической массы Вашего автомобиля? 1. Разрешается. 2. Разрешается только при скорости буксировки не более 30 км/ч. 3. Не разрешается.</p>	<p>18. В каком случае Вам разрешается эксплуатация автомобиля? 1. Шины имеют отслоения протектора или боковины. 2. Шины имеют порезы, обнажающие корд. 3. На задней оси автомобиля установлены шины с восстановленным рисунком протектора.</p>
<p>19. Как водитель должен воздействовать на педаль управления подачей топлива при возникновении заноса, вызванного резким ускорением движения? 1. Усилить нажатие на педаль. 2. Не менять положение педали. 3. Уменьшить нажатие на педаль.</p>	<p>20. В каких случаях водители привлекаются к уголовной ответственности за нарушения Правил? 1. Только при причинении смерти человеку. 2. При причинении смерти человеку или тяжкого вреда здоровью человека. 3. При наличии пострадавшего (вне зависимости от степени тяжести полученных им повреждений) или причинении крупного материального ущерба.</p>

БИЛЕТ № 19 Категории «А» и «В»

1. Сколько проезжих частей имеет данная дорога?

1. Одну.
2. Две.
3. Четыре.



2. В каких направлениях Вам разрешено продолжить движение на грузовом автомобиле с разрешенной максимальной массой более 3,5 т?

1. Только прямо.
2. Прямо и направо.
3. Прямо и в обратном направлении.



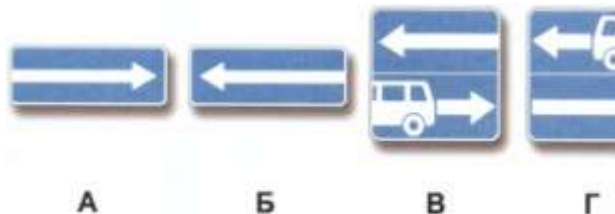
3. Разрешается ли Вам осуществить посадку(высадку) пассажиров либо загрузку (разгрузку) транспортного средства в зоне действия этого знака?

1. Да, если это займет не более 5 минут.
2. Да, даже если остановка продлится более 5 минут.
3. Нет.



4. Какие знаки разрешают выполнить разворот?

1. Только Б.
2. Только Б и В.
3. Все.



5. Чем Вы должны руководствоваться, если значения дорожных знаков и линий горизонтальной разметки противоречат друг другу?

1. Требованиями линий разметки.
2. Требованиями дорожных знаков.
3. Правила эту ситуацию не регламентируют.

6. Как Вы должны поступить в данной ситуации?

1. Снизить скорость и быть готовым в случае необходимости незамедлительно остановиться.
2. Продолжить движение, не изменяя скорости.
3. Остановиться около автомобиля ДПС и продолжить движение только после разрешения сотрудника милиции.



7. Когда должна быть прекращена подача сигнала указателями поворота?

1. Непосредственно перед началом маневра.
2. Сразу же после завершения маневра.
3. В процессе выполнения маневра.

8. По какой траектории Правила разрешают Вам произвести поворот налево?

1. Только по А.
2. Только по Б.
3. По любой.



9. Вы случайно проехали нужный въезд во двор. Разрешено ли Вам в этой ситуации использовать задний ход, чтобы затем повернуть направо?

1. Да.
2. Нет.



10. С какой скоростью Вы можете продолжить движение в населенном пункте по левой полосе?

1. Не более 50 км/ч.
2. Не более 60 км/ч.
3. Не менее 50 км/ч и не более 60 км/ч.



БИЛЕТ № 19 Категории «А» и «В»

<p>11. В данной ситуации Вам разрешается:</p> <ol style="list-style-type: none"> 1. Объехать грузовой автомобиль справа по обочине. 2. Продолжить движение только после того, как грузовой автомобиль освободит полосу движения. 3. Разрешается любое из перечисленных действий. 	<p>12. Кто из водителей нарушил правила стоянки?</p> <ol style="list-style-type: none"> 1. Только А. 2. Только Б. 3. Никто не нарушил. 4. Оба нарушили. 
<p>13. Вы намерены проехать перекресток в прямом направлении. Ваши действия?</p> <ol style="list-style-type: none"> 1. Остановитесь перед стоп-линией. 2. Продолжите движение, не создавая помех легковому автомобилю. 	<p>14. Вы намерены повернуть направо. Ваши действия?</p> <ol style="list-style-type: none"> 1. Проедете перекресток первым. 2. Уступите дорогу только легковому автомобилю. 3. Уступите дорогу легковому автомобилю и мотоциклу. 
<p>15. При въезде на перекресток Вы:</p> <ol style="list-style-type: none"> 1. Должны уступить дорогу только мотоциклу. 2. Должны уступить дорогу обоим транспортным средствам. 3. Имеете преимущественное право на движение. 	<p>16. Разрешен ли такой маневр?</p> <ol style="list-style-type: none"> 1. Да, если нет встречных транспортных средств. 2. Да, если между шлагбаумом и остановившимся грузовым автомобилем расстояние 6 м. 3. Нет. 
<p>17. Какие световые приборы Вы обязаны использовать при движении в светлое время суток?</p> <ol style="list-style-type: none"> 1. Дневные ходовые или габаритные огни. 2. Фары ближнего света или габаритные огни. 3. Фары ближнего света или дневные ходовые огни. 	<p>18. В каких случаях следует увеличить боковой интервал?</p> <ol style="list-style-type: none"> 1. При встречном разъезде на большой скорости. 2. При разъезде с длинномерным транспортным средством. 3. При движении по мокрому, скользкому или неровному покрытию. 4. Во всех перечисленных случаях.
<p>19. Для прекращения заноса, вызванного торможением, водитель в первую очередь должен:</p> <ol style="list-style-type: none"> 1. Прекратить начатое торможение. 2. Выключить сцепление. 3. Продолжить торможение, не изменяя усилия на педаль тормоза. 	<p>20. В каком положении следует транспортировать пострадавшего с переломами ребер и грудины?</p> <ol style="list-style-type: none"> 1. Лежа на боку. 2. Лежа на спине. 3. Сидя или в полусидячем положении.

БИЛЕТ № 20 Категории «А» и «В»

1. На каких рисунках показана главная дорога?

1. Только на правом верхнем.
2. На нижнем и правом верхнем.
3. На всех.



2. Разрешено ли Вам за перекрестком въехать во двор?

1. Да.
2. Нет.
3. Да, только если Вы проживаете в этом доме.



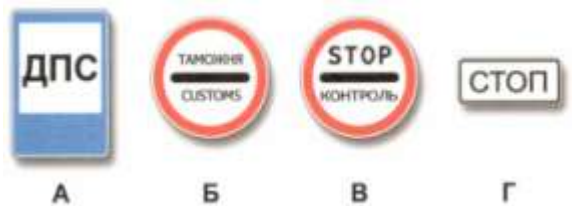
3. Разрешена ли Вам остановка за знаком?

1. Разрешена.
2. Разрешена только для посадки или высадки пассажиров.
3. Запрещена.



4. Какие знаки запрещают дальнейшее движение без остановки?

1. Только А и Г.
2. Только Б и В.
3. Только В и Г.
4. Все.



5. Чем Вы должны руководствоваться, если нанесенные на проезжей части белые и оранжевые линии разметки противоречат друг другу?

1. Правила эту ситуацию не регламентируют.
2. Необходимо руководствоваться белыми линиями.
3. Необходимо руководствоваться оранжевыми линиями.

6. В каких направлениях Вам разрешено движение?

1. Только А.
2. А или Б.
3. В любом.



7. Какой знак используется для обозначения автомобиля при вынужденной остановке в местах, где с учетом условий видимости транспортное средство не может быть своевременно замечено другими водителями?

1. А.
2. Б.
3. В.



8. По какой траектории Правила разрешают Вам произвести поворот налево?

1. Только по А.
2. Только по Б.
3. По любой.



9. Разрешается ли Вам на узкой проезжей части произвести разворот с заездом во двор?

1. Да.
2. Да, если не будут созданы помехи другим участникам движения.
3. Нет.



10. Укажите расстояние, под которым в Правилах подразумевается дистанция:

1. Только А.
2. Только Б.
3. Только В.
4. А и В.



БИЛЕТ № 20 Категории «А» и «В»

11. Можете ли Вы начать обгон грузового автомобиля в данной ситуации?

1. Да.
2. Нет.



12. Разрешено ли водителю поставить на стоянку грузовой автомобиль с разрешенной максимальной массой менее 3,5 т указанным на табличке способом?

1. Да.
2. Нет.



13. Вы намерены повернуть налево. Ваши действия?

1. Выполните маневр без остановки на перекрестке.
2. Повернете налево, остановитесь в разрыве разделительной полосы и, после включения разрешающего сигнала светофора на выходе с перекрестка, завершите маневр.



14. Поворачивая направо, Вы должны:

1. Уступить дорогу автомобилю.
2. Проехать перекресток первым.



15. Вы намерены повернуть налево. Кому следует уступить дорогу?

1. Только автобусу и мотоциклу.
2. Только легковому автомобилю и автобусу.
3. Всем транспортным средствам.



16. В каком месте Вы должны остановиться в данной ситуации?

1. У знака «Движение без остановки запрещено»
2. У знака «Однопутная железная дорога».
3. За 5 м до первого рельса.
4. В любом месте по своему усмотрению.



17. Противотуманные фары и задние противотуманные фонари могут быть включены одновременно:

1. Только в тумане.
2. В условиях недостаточной видимости.
3. В условиях ограниченной видимости.

18. Что Вам следует иметь в виду, увидев впереди пешехода, переходящего проезжую часть?

1. Что он может перейти дорогу, не меняя своего темпа движения, или ускориться.
2. Что он может внезапно остановиться или отступить назад.
3. Следует иметь в виду все вышеперечисленное.



19. Как правильно произвести экстренное торможение, если Ваш автомобиль оборудован антиблокировочной тормозной системой?

1. Тормозить прерывистым нажатием на педаль тормоза, не допуская блокировки колес.
2. Нажать на педаль тормоза до упора и удерживать ее до полной остановки.

20. При наличии каких обстоятельств оформление документов о дорожно-транспортном происшествии (ДТП) может быть осуществлено без участия уполномоченных на то сотрудников милиции?

1. Если ДТП произошло с участием двух транспортных средств, гражданская ответственность владельцев которых застрахована.
2. Если в результате ДТП вред причинен только имуществу и обстоятельства причинения вреда в связи с повреждением имущества не вызывают разногласий участников ДТП.
3. Если характер и перечень видимых повреждений транспортных средств, полученных в результате ДТП, не вызывают разногласий участников ДТП.
4. При наличии одновременно всех перечисленных обстоятельств.

БИЛЕТ № 21 Категории «А» и «В»

1. Разрешается ли водителю пользоваться телефоном во время движения?

1. Разрешается.
2. Разрешается только при использовании технического устройства, позволяющего вести переговоры без использования рук.
3. Разрешается только при движении со скоростью менее 40 км/ч.
4. Запрещается.

2. Этот знак предупреждает о приближении к перекрестку, на котором Вы:

1. Имеете право преимущественного проезда.
2. Должны уступить дорогу всем транспортным средствам, движущимся по пересекаемой дороге.
3. Должны уступить дорогу только транспортным средствам, приближающимся справа.



3. Какой знак информирует о начале дороги с реверсивным движением?

1. А.
2. Б.
3. В.



4. Какой знак информирует о начале дороги с реверсивным движением?

1. А.
2. Б.
3. В.



А



Б



В

5. Данная вертикальная разметка:

1. Запрещает стоянку транспортных средств.
2. Запрещает остановку транспортных средств.
3. Обозначает бордюры на опасных участках дорог.



6. Разрешено ли Вам за перекрестком въехать на полосу с реверсивным движением?

1. Да.
2. Нет.



7. Такой сигнал рукой, подаваемый водителем легкового автомобиля, информирует Вас:

1. О его намерении повернуть налево или выполнить разворот.
2. О его намерении остановиться и уступить дорогу грузовому автомобилю.
3. Об опасности, которая может возникнуть для Вас на перекрестке.



8. Может ли водитель легкового автомобиля в данной ситуации начать движение?

1. Да.
2. Да, если он не создаст помех грузовому автомобилю.
3. Нет.



9. В каких местах водителю разрешается движение задним ходом?

1. На перекрестках.
2. На дорогах с односторонним движением.
3. На пешеходных переходах.
4. В местах остановок маршрутных транспортных средств.

10. Разрешается ли Вам, управляя легковым автомобилем, продолжить движение по трамвайным путям попутного направления?









1. Разрешается.
2. Разрешается только для поворота налево и разворота.
3. Запрещается.



БИЛЕТ № 21 Категории «А» и «В»

<p>11. В каком месте Вы можете начать обгон?</p> <ol style="list-style-type: none"> 1. На переезде. 2. Непосредственно за переездом. 3. Только на расстоянии 100 м за переездом. 	<p>12. Можете ли Вы поставить автомобиль на стоянку в указанном месте?</p> <ol style="list-style-type: none"> 1. Да. 2. Нет. 
<p>13. Вы намерены повернуть налево. Кому следует уступить дорогу?</p> <p>Только мотоциклу. Только автомобилю с включенными проблесковым маячком и специальным звуковым сигналом. Обоим транспортным средствам.</p> 	<p>14. Вы намерены повернуть налево. Ваши действия?</p> <ol style="list-style-type: none"> 1. Проедете перекресток первым одновременно со встречным автомобилем. 2. Проедете перекресток последним после проезда мотоцикла. 
<p>15. Вы намерены продолжить движение прямо. Кому следует уступить дорогу?</p> <ol style="list-style-type: none"> 1. Обоим транспортным средствам. 2. Только легковому автомобилю. 3. Только автобусу. 	<p>16. В каких случаях при выезде из жилой зоны Вы должны уступить дорогу транспортным средствам?</p> <ol style="list-style-type: none"> 1. Во всех случаях. 2. Только при наличии знака «Уступите дорогу». 3. Только если другое транспортное средство приближается к Вам справа.
<p>17. В зоне действия каких знаков Правила разрешают подачу звуковых сигналов только для предотвращения дорожно-транспортных происшествий?</p> <ol style="list-style-type: none"> 1. Только А. 2. Только Б. 3. А и Б. 4. А и В. 	<p>18. Как изменяется поле зрения водителя с увеличением скорости движения?</p> <ol style="list-style-type: none"> 1. Не изменяется. 2. Расширяется. 3. Сужается.
<p>19. При выезде из лесистого участка на открытое место установлен знак «Боковой ветер». Ваши действия?</p> <ol style="list-style-type: none"> 1. Уменьшить скорость и быть готовым к возможному отклонению автомобиля от заданного курса. 2. Не изменяя скорости, сместиться ближе к центру дороги. 3. Не изменяя скорости, сместиться ближе к обочине. 	<p>20. Как остановить кровотечение при ранении артерии?</p> <ol style="list-style-type: none"> 1. Наложить давящую повязку на место ранения. 2. Наложить жгут выше места ранения. 3. Наложить жгут ниже места ранения.

БИЛЕТ № 22 Категории «А» и «В»

<p>1. Сколько перекрестков изображено на рисунке?</p> <ol style="list-style-type: none"> 1. Один. 2. Два. 3. Четыре. 	<p>2. В каких направлениях Вам разрешено продолжить движение на перекрестке?</p> <ol style="list-style-type: none"> 1. Только прямо. 2. Прямо или налево. 3. Прямо или в обратном направлении. 
<p>3. Какие требования предъявляют к Вам эти дорожные знаки?</p> <ol style="list-style-type: none"> 1. Снизить скорость при проезде таможи. 2. Остановиться через 300 м у таможи. 3. Остановиться у знака и дожидаться работников таможенной службы. 	<p>4. Где начинают действовать требования Правил, относящиеся к населенным пунктам?</p> <ol style="list-style-type: none"> 1. Только с места установки дорожного знака с названием населенного пункта на белом фоне. 2. С места установки дорожного знака с названием населенного пункта на белом или синем фоне. 3. В начале застроенной территории, непосредственно прилегающей к дороге.
<p>5. Кому из водителей разрешено пересечь сплошную линию разметки с целью остановки в указанных местах?</p> <ol style="list-style-type: none"> 1. Обоим разрешено. 2. Разрешено только водителю встречного автомобиля. 3. Обоим запрещено. 	<p>6. Как в данной ситуации должен поступить водитель легкового автомобиля при приближении автомобиля оперативной службы, сопровождающего колонну?</p> <ol style="list-style-type: none"> 1. Перестроиться на правую полосу и продолжить движение. 2. Остановиться у тротуара и продолжить движение сразу же после проезда автомобиля оперативной службы. 3. Остановиться у тротуара и продолжить движение только после проезда замыкающего колонну транспортного средства. 
<p>7. Обязаны ли Вы в данной ситуации включить левые указатели поворота?</p> <ol style="list-style-type: none"> 1. Да. 2. Да, если будет выполняться разворот. 3. Включение указателей поворота в данной ситуации необязательно. 	<p>8. По какой траектории Правила разрешают Вам произвести поворот налево?</p> <ol style="list-style-type: none"> 1. Только по А. 2. Только по Б. 3. По любой. 
<p>9. Разрешено ли водителю подъехать задним ходом к пассажиру, стоящему на мосту?</p> <ol style="list-style-type: none"> 1. Да. 2. Да, если не будут созданы помехи другим участникам движения. 3. Нет. 	<p>10. Разрешается ли Вам использовать для движения трамвайные пути встречного направления?</p> <ol style="list-style-type: none"> 1. Разрешается, если при этом не будут созданы помехи встречным транспортным средствам. 2. Разрешается только при объезде трамвая попутного направления. 3. Не разрешается.

БИЛЕТ № 22 Категории «А» и «В»

11. Какие ограничения, относящиеся к обгону, действуют на железнодорожных переездах и вблизи них?

1. Обгон запрещен только на переезде.
2. Обгон запрещен на переезде и на расстоянии 100 м до него.
3. Обгон запрещен на переезде и на расстоянии 100 м до и после него.

12. В каком из указанных мест Вам разрешено поставить автомобиль на стоянку?

1. Только А.
2. Только Б.
3. В любом.



13. Вы намерены повернуть налево. Кому следует уступить дорогу?

1. Только встречному автомобилю.
2. Только пешеходам.
3. Встречному автомобилю и пешеходам.



14. Следует ли при движении прямо уступить дорогу трамваю?

1. Да.
2. Нет.



15. Вы намерены повернуть направо. Можете ли Вы приступить к повороту?

1. Да.
2. Да, но не создавая помех грузовому автомобилю.
3. Нет.



16. Разрешена ли Вам остановка в указанном месте?

1. Запрещена.
2. Разрешена только для посадки или высадки пассажиров.
3. Разрешена, если не будут созданы помехи движению маршрутных транспортных средств.



17. Какие внешние световые приборы должны быть включены в светлое время суток на мотоциклах?

1. Только габаритные огни.
2. Фара ближнего света или противотуманная фара.
3. Включение внешних световых приборов днем на мотоциклах не предусмотрено.

18. В каком случае Вам запрещается эксплуатация транспортного средства?

1. Двигатель не развивает максимальной мощности.
2. Двигатель неустойчиво работает на холостых оборотах.
3. Имеется неисправность в глушителе.

19. Какой стиль вождения обеспечит наименьший расход топлива?

1. Частое и резкое ускорение при плавном замедлении.
2. Плавное ускорение при резком замедлении.
3. Плавное ускорение при плавном замедлении.

20. Неуплата административного штрафа в установленный срок влечет:

1. Только штраф в двукратном размере суммы неуплаченного штрафа.
2. Штраф в двукратном размере суммы неуплаченного штрафа либо административный арест на срок до 15 суток.
3. Только административный арест на срок до 15 суток.

БИЛЕТ № 23 Категории «А» и «В»

1. Сколько пересечений проезжих частей имеет этот перекресток?

1. Одно.
2. Два.



2. Этот дорожный знак:

1. Предупреждает о приближении к месту пересечения с трамвайной линией.
2. Предупреждает о приближении к трамвайной остановке.
3. Обязывает Вас остановиться непосредственно перед пересечением с трамвайной линией.



3. Эти знаки обязывают Вас соблюдать дистанцию:

1. Менее 70 м на протяжении 100 м.
2. Более 70 м на протяжении 100 м.
3. От 70 м до 100 м.



4. Двигаясь по средней полосе на легковом автомобиле, Вы можете продолжить движение:

1. Только прямо.
2. Только прямо или налево.
3. Прямо, налево или в обратном направлении.



5. Разрешено ли Вам поставить автомобиль на стоянку в указанном месте?

1. Разрешено.
2. Разрешено только с частичным заездом на тротуар.
3. Запрещено.



6. В каких направлениях Вы можете продолжить движение?

1. Только направо в первый проезд.
2. Направо в первый и второй проезды.
3. Движение запрещено.



7. Обязаны ли Вы подавать сигналы указателями поворота при начале движения в жилой зоне, обозначенной соответствующим знаком?

1. Да.
2. Нет.
3. Да, только при наличии в непосредственной близости пешеходов.

8. По какой траектории Вы можете продолжить движение?

1. Только по А.
2. Только по А или Б.
3. По любой.



9. Разрешен ли Вам разворот на этом участке дороги?

1. Разрешен только при видимости дороги более 100 м.
2. Не разрешен.



10. С какой максимальной скоростью Вы можете продолжить движение, если перевозите людей в кузове грузового автомобиля с разрешенной максимальной массой более 3,5 т?

1. 90 км/ч.
2. 70 км/ч.
3. 60 км/ч.



БИЛЕТ № 23 Категории «А» и «В»

11. Выполняя обезд на подъеме, Вы:

1. Должны уступить дорогу.
2. Имеете право проехать первым.



12. Разрешено ли Вам поставить автомобиль на стоянку в указанном месте?

1. Разрешено.
2. Разрешено, если при этом не будут созданы помехи для движения маршрутных транспортных средств.
3. Запрещено.



13. Как следует поступить в этой ситуации, если Вам необходимо повернуть направо?

1. Остановиться перед перекрестком и, дождаввшись другого сигнала регулировщика, повернуть направо.
2. Можно повернуть направо, уступив дорогу пешеходам.



14. Вы намерены проехать перекресток в прямом направлении. Кому следует уступить дорогу?

1. Только трамваю А.
2. Только трамваю Б.
3. Обоим трамваям.
4. Никому.



15. Вы намерены повернуть налево. Кому следует уступить дорогу?

1. Только автобусу.
2. Обоим транспортным средствам.
3. Никому.



16. Кто из водителей правильно остановился для высадки пассажиров?

1. Только А.
2. Только В.
3. АиБ.
4. Б и В.



17. Достаточно ли в светлое время суток включения дневных ходовых огней для обозначения транспортного средства при движении в тумане?

1. Достаточно.
2. Недостаточно.

18. В каком из перечисленных случаев водителю следует оценивать обстановку сзади?

1. Только при резком торможении.
2. Только при торможении на дороге с мокрым или скользким покрытием.
3. При любом торможении.










19. Чем опасно длительное торможение с выключенным сцеплением (передатчей) на крутом спуске?

1. Значительно увеличивается износ протектора шин.
2. Повышается износ деталей тормозных механизмов.
3. Перегреваются тормозные механизмы и уменьшается эффективность торможения.

20. Какие меры административного принуждения предусмотрены за управление транспортным средством, если обязательное страхование гражданской ответственности владельца этого транспортного средства заведомо отсутствует?

1. Только штраф в размере от 500 до 800 рублей.
2. Запрещение эксплуатации транспортного средства и штраф в размере от 500 до 800 рублей.
3. Задержание транспортного средства и штраф в размере от 500 до 800 рублей.
4. Задержание транспортного средства, запрещение эксплуатации транспортного средства и штраф в размере от 500 до 800 рублей.

БИЛЕТ № 24 Категории «А» и «В»

<p>1. Сколько полос для движения имеет данная дорога?</p> <ol style="list-style-type: none"> 1. Две. 2. Четыре. 	<p>2. Эти знаки предупреждают Вас:</p> <ol style="list-style-type: none"> 1. О приближении к железнодорожному переезду стремя путями. 2. О наличии через 150 - 300 м железнодорожного переезда без шлагбаума. 3. О наличии через 50 - 100 м железнодорожного переезда. 
<p>3. Разрешено ли Вам поставить автомобиль на стоянку в указанном месте?</p> <ol style="list-style-type: none"> 1. Разрешено. 2. Разрешено, если Вы проживаете рядом с этим местом. 3. Запрещено. 	<p>4. Какие знаки обязывают водителя грузового автомобиля с разрешенной максимальной массой более 3,5 т повернуть направо?</p> <ol style="list-style-type: none"> 1. Только А. 2. Только Б. 3. А и Б. 4. Б и В.  <p style="text-align: center;"> А Б В </p>
<p>5. Эта разметка обозначает:</p> <ol style="list-style-type: none"> 1. Место, где начинается или заканчивается жилая зона. 2. Искусственную неровность на проезжей части. 3. Место, где начинается запрет на дальнейшее движение. 	<p>6. Что означает мигание желтого сигнала светофора?</p> <ol style="list-style-type: none"> 1. Предупреждает о неисправности светофора. 2. Разрешает движение и информирует о наличии нерегулируемого перекрестка или пешеходного перехода. 3. Запрещает дальнейшее движение.
<p>7. Какую ошибку совершает водитель, въезжающий во двор?</p> <ol style="list-style-type: none"> 1. Поворачивает в зоне действия знака «Движение прямо». 2. Поворачивает, не включив указатели поворота. 3. Совершает обе перечисленные ошибки. 	<p>8. Должны ли Вы уступить дорогу грузовому автомобилю в данной ситуации?</p> <ol style="list-style-type: none"> 1. Да. 2. Да, если он поворачивает направо. 3. Нет. 
<p>9. По какой траектории Вы можете выполнить разворот?</p> <ol style="list-style-type: none"> 1. Только по А. 2. Только по Б. 3. По любой. 	<p>10. Разрешается ли Вам обогнать легковой автомобиль по трамвайным путям в данной ситуации?</p> <ol style="list-style-type: none"> 1. Не разрешается. 2. Разрешается. 

БИЛЕТ № 24 Категории «А» и «В»

11. Разрешен ли Вам обгон?

1. Запрещен.
2. Разрешен, если скорость грузового автомобиля менее 30 км/ч.
3. Разрешен.



12. Кто из водителей нарушил правила стоянки?

1. Только А.
2. Только Б.
3. Никто не нарушил.



13. Вы намерены повернуть налево. Ваши действия?

1. Уступите дорогу трамваю и, убедившись, что Ваши пути не пересекаются со встречным автомобилем, выполните поворот.
2. Проедете перекресток первым.



14. Кто первым проедет перекресток, если все намерены двигаться прямо?

1. Вы одновременно с троллейбусом.
2. Грузовой автомобиль.
3. Правила эту ситуацию не регламентируют.
4. Водители должны определить очередность по договоренности.



15. Вы обязаны уступить дорогу пешеходам:

1. Только при повороте налево по направлению главной дороги.
2. Только при повороте направо.
3. В обоих случаях.



16. Как Вы должны поступить в данной ситуации?

1. объехать шлагбаум, так как светофор не запрещает движение.
2. Остановиться и продолжить движение только при открытом шлагбауме.



17. На каком расстоянии до встречного транспортного средства Вы должны переключить дальний свет фар на ближний?

1. Не менее чем за 150 м.
2. Не менее чем за 300 м.
3. По усмотрению водителя.

18. В каком случае Вам разрешается эксплуатация грузового автомобиля?

1. Не работает спидометр.
2. Не работает указатель температуры охлаждающей жидкости.
3. Не работают запоры бортов грузовой платформы.

19. Как следует поступить водителю, если во время движения по сухой дороге с асфальтобетонным покрытием начал моросить дождь?

1. Уменьшить скорость и быть особенно осторожным.
2. Не изменяя скорости продолжить движение.
3. Увеличить скорость и попытаться проехать как можно большее расстояние, пока не начался сильный дождь.

20. Что следует сделать для оказания первой медицинской помощи пострадавшему при переломе ключицы?

1. Наложить две шины на плечо.
2. Подвесить руку на косынке.
3. Подвесить руку, согнутую под прямым углом, на косынке и прибинтовать к туловищу

БИЛЕТ № 25 Категории «А» и «В»

1. На каком рисунке изображена дорога с разделительной полосой?

1. Только на правом.
2. На обоих.
3. Ни на одном.



2. В каких направлениях Вам разрешено продолжить движение на грузовом автомобиле с разрешенной максимальной массой 3 т?

1. Только прямо.
2. Только налево или направо.
3. В любых.



3. Какой из знаков отменяет все ограничения, введенные ранее запрещающими знаками?

1. Только А и Б.
2. Только В и Г.
3. Только В.
4. Все.



4. Этот знак указывает, что:

1. Вы должны повернуть направо или налево.
2. На пересекаемой дороге организовано реверсивное движение.
3. На пересекаемой дороге организовано одностороннее движение.



5. Какой маневр запрещает Вам данная линия разметки?

1. Только обгон.
2. Только объезд.
3. Только разворот.
4. Ничего не запрещает.



6. На какие транспортные средства распространяются сигналы такого светофора?

1. Только на трамваи.
2. На трамваи, а также другие маршрутные транспортные средства, движущиеся по выделенной для них полосе.
3. На все маршрутные транспортные средства.



7. Обязаны ли Вы включить указатели поворота в данной ситуации?

1. Да.
2. Нет.
3. Да, только при наличии на перекрестке других транспортных средств.



8. Кто должен уступить дорогу?

1. Водитель легкового автомобиля.
2. Водитель грузового автомобиля.



9. Вы случайно проехали поворот на перекрестке. Разрешено ли Вам в этой ситуации использовать задний ход, чтобы затем продолжить движение налево?

1. Да.
2. Нет.








10. Водитель какого автомобиля поворачивая налево, не нарушает Правила?

1. Только легкового.
2. Только грузового.
3. Оба не нарушают.







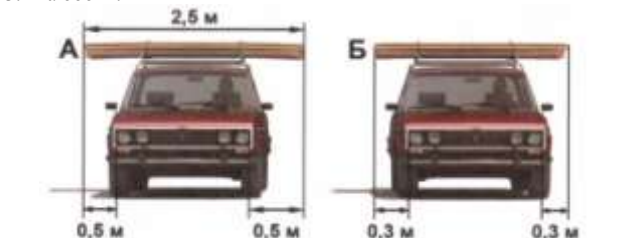
БИЛЕТ № 25 Категории «А» и «В»

<p>11. Разрешен ли Вам обгон?</p> <ol style="list-style-type: none"> 1. Да, если скорость грузового автомобиля менее 30 км/ч. 2. Да. 3. Нет. 	<p>12. Разрешена ли Вам остановка в указанном месте?</p> <ol style="list-style-type: none"> 1. Разрешена. 2. Разрешена, но только при отсутствии пешеходов на переходе. 3. Не разрешена. 
<p>13. Значения каких дорожных знаков отменяются сигналами светофора?</p> <ol style="list-style-type: none"> 1. Знаков приоритета. 2. Запрещающих знаков. 3. Предписывающих знаков. 4. Всех перечисленных. 	<p>14. При повороте направо Вы должны уступить дорогу:</p> <ol style="list-style-type: none"> 1. Только велосипедистам. 2. Только пешеходам. 3. Пешеходам и велосипедистам. 4. Никому. 
<p>15. Вы намерены повернуть налево. Кому следует уступить дорогу?</p> <ol style="list-style-type: none"> 1. Только легковому автомобилю. 2. Легковому автомобилю и автобусу. 3. Никому. 	<p>16. Как Вы должны действовать в данной ситуации?</p> <ol style="list-style-type: none"> 1. Проехать железнодорожный переезд без остановки перед знаком. 2. Остановиться перед знаком и продолжить движение сразу же после проезда поезда. 3. Остановиться перед знаком и продолжить движение, только убедившись в отсутствии приближающегося поезда. 
<p>17. Как Вы можете в светлое время суток привлечь внимание водителя обгоняемого автомобиля при движении в населенном пункте?</p> <ol style="list-style-type: none"> 1. Только звуковым сигналом. 2. Только кратковременным переключением фар с ближнего света на дальний. 3. Любым из перечисленных способов, включая совместную подачу сигналов. 	<p>18. В каком случае Вам запрещается эксплуатация автомобиля?</p> <ol style="list-style-type: none"> 1. Не работает указатель уровня топлива. 2. Нарушена регулировка угла опережения зажигания. 3. Затруднен пуск двигателя. 4. Не работает звуковой сигнал.
<p>19. Считаете ли Вы безопасным движение на грузовом автомобиле в темное время суток с ближним светом фар по неосвещенной автомагистрали со скоростью 90 км/ч?</p> <ol style="list-style-type: none"> 1. Да, так как предельная допустимая скорость соответствует требованиям Правил. 2. Нет, так как остановочный путь превышает расстояние видимости. 	<p>20. Как остановить кровотечение при ранении вены?</p> <ol style="list-style-type: none"> 1. Наложить давящую повязку на место ранения. 2. Наложить жгут выше места ранения. 3. Наложить жгут ниже места ранения.











БИЛЕТ № 26 Категории «А» и «В»

<p>1. Выезд из двора или с другой прилегающей территории:</p> <ol style="list-style-type: none"> 1. Считается перекрестком равнозначных дорог. 2. Считается перекрестком неравнозначных дорог. 3. Не считается перекрестком. 	<p>2. Какие знаки требуют обязательной остановки?</p> <ol style="list-style-type: none"> 1. Только А и Б. 2. Только Б. 3. Только Б и В. 4. Все. 
<p>3. В каких случаях Вам разрешается использовать звуковой сигнал в зоне действия этого знака?</p> <ol style="list-style-type: none"> 1. Только для предупреждения об обгоне. 2. Только для предотвращения дорожно-транспортного происшествия. 3. В обоих перечисленных случаях. 	<p>4. Что означают эти дорожные знаки?</p> <ol style="list-style-type: none"> 1. Стоянка разрешена только транспортным средствам оперативных служб. 2. Стоянка разрешена только с включенными габаритными огнями. 3. Стоянка разрешена только в праздничные, субботные и воскресные дни. 
<p>5. Такой вертикальной разметкой обозначают:</p> <ol style="list-style-type: none"> 1. Боковые поверхности ограждений только на опасных участках дорог. 2. Боковые поверхности ограждений на других участках дорог. 	<p>6. Красный мигающий сигнал или два попеременно мигающих красных сигнала светофора, установленного на железнодорожном переезде, означают:</p> <ol style="list-style-type: none"> 1. Движение разрешается с особой осторожностью. 2. Движение запрещено. 3. Светофорная сигнализация неисправна.
<p>7. Обязаны ли Вы включить сигнал левого поворота при объезде препятствия?</p> <ol style="list-style-type: none"> 1. Да. 2. Нет. 3. Да, но только в темное время суток. 	<p>8. В каких направлениях Вы можете продолжить движение по второй полосе?</p> <ol style="list-style-type: none"> 1. Только налево. 2. Только налево и в обратном направлении. 3. Направо, налево и в обратном направлении. 
<p>9. Вы случайно проехали нужный въезд во двор. Разрешено ли Вам в этой ситуации использовать задний ход, чтобы затем повернуть направо?</p> <ol style="list-style-type: none"> 1. Да, если не будет создано помех движению маршрутных транспортных средств. 2. Нет. 	<p>10. По какой траектории Вы можете продолжить движение?</p> <ol style="list-style-type: none"> 1. Только по А. 2. Только по Б. 3. По любой. 






БИЛЕТ № 26 Категории «А» и «В»

<p>11. Разрешен ли обгон на регулируемых перекрестках? 1. Разрешен. 2. Запрещен.</p>	<p>12. Водитель какого автомобиля нарушил правила остановки? 1. Только Б. 2. Только Б и В. 3. Все нарушили.</p> 
<p>13. Кто должен уступить дорогу? 1. Водитель автомобиля, приближающегося слева. 2. Водитель трамвая.</p> 	<p>14. Вы намерены повернуть налево. Кому Вы должны уступить дорогу? 1. Обоим транспортным средствам. 2. Только грузовому автомобилю. 3. Только легковому автомобилю.</p> 
<p>15. Вы намерены продолжить движение прямо. Кому следует уступить дорогу? 1. Только легковому автомобилю. 2. Только автобусу и легковому автомобилю. 3. Всем транспортным средствам.</p> 	<p>16. Как Вы должны поступить, если сразу за пешеходным переходом образовался затор? 1. Остановиться на пешеходном переходе, если нет пешеходов. 2. Остановиться непосредственно перед пешеходным переходом. 3. Остановиться не ближе 5 м до пешеходного перехода.</p>
<p>17. На каком рисунке изображен автомобиль, водитель которого не нарушает правил перевозки грузов? 1. Только на А. 2. Только на Б. 3. На обоих.</p> 	<p>18. Разрешается ли применять шторки на окнах автобусов? 1. Разрешается, но только при наличии с обеих сторон наружных зеркал заднего вида. 2. Запрещается.</p>
<p>19. Уменьшение тормозного пути транспортного средства достигается: 1. Торможением с блокировкой колес (юзом). 2. Торможением на грани блокировки способом прерывистого нажатия на педаль тормоза.</p>	<p>20. При помещении задержанного транспортного средства на специализированную стоянку не подлежат оплате: 1. Первые 24 часа хранения. 2. Первые 12 часов хранения. 3. Первые 5 часов хранения. 4. Первые 3 часа хранения.</p>

БИЛЕТ № 27 Категории «А» и «В»

<p>1. Могут ли водители, причастные к дорожно-транспортному происшествию, прибыть на ближайший пост ДПС или в орган милиции для оформления происшествия, если нет пострадавших?</p> <ol style="list-style-type: none"> 1. Могут. 2. Могут только при взаимном согласии в оценке обстоятельств случившегося и при наличии составленной и подписанной ими схемы дорожно-транспортного происшествия. 3. Не могут. 	<p>2. Какой знак используется для обозначения границ искусственной неровности?</p> <ol style="list-style-type: none"> 1. Только А. 2. Только Б. 3. Б и В. <div style="display: flex; justify-content: space-around; align-items: center;"> <div style="text-align: center;">  <p>А</p> </div> <div style="text-align: center;">  <p>Б</p> </div> <div style="text-align: center;">  <p>В</p> </div> </div>
<p>3. Каким транспортным средствам разрешена остановка в зоне действия знака?</p> <ol style="list-style-type: none"> 1. Только маршрутным транспортным средствам. 2. Только такси с включенным таксометром. 3. Только автомобилям, управляемым инвалидами I и II групп или перевозящим таких инвалидов. 	<p>4. Управляя каким автомобилем, Вы можете опередить легковой автомобиль?</p> <ol style="list-style-type: none"> 1. Только легковым. 2. Только легковым или грузовым с разрешенной максимальной массой менее 3,5 т. 3. Любым автомобилем. 
<p>5. Эта разметка обозначает:</p> <ol style="list-style-type: none"> 1. Номер дороги или маршрута. 2. Рекомендуемую скорость движения на данном участке дороги. 3. Разрешенную максимальную скорость движения на данном участке дороги. 	<p>6. Чем Вы должны руководствоваться, если указания регулировщика противоречат сигналам светофора и значениям дорожных знаков?</p> <ol style="list-style-type: none"> 1. Требованиями дорожных знаков. 2. Значениями сигналов светофора. 3. Указаниями регулировщика.
<p>7. Такой сигнал рукой, подаваемый мотоциклистом, движущимся по второй полосе, информирует:</p> <ol style="list-style-type: none"> 1. О его намерении продолжить движение прямо. 2. О его намерении повернуть направо. 3. О его намерении остановиться. 	<p>8. При перестроении на правую полосу Вы:</p> <ol style="list-style-type: none"> 1. Должны уступить дорогу всем транспортным средствам, движущимся по соседней полосе. 2. Имеете преимущество. 
<p>9. По какой траектории Вы можете выполнить разворот?</p> <ol style="list-style-type: none"> 1. Только по А. 2. Только по Б. 3. По любой. 	<p>10. По какой полосе Вы можете продолжить движение, опередив грузовой автомобиль в населенном пункте?</p> <ol style="list-style-type: none"> 1. Только по правой. 2. По любой. 

БИЛЕТ № 27 Категории «А» и «В»

<p>11. Разрешен ли обгон на подъеме?</p> <ol style="list-style-type: none"> 1. Запрещен. 2. Запрещен только в конце подъема. 3. Разрешен. 	<p>12. Нарушил ли водитель грузового автомобиля правила стоянки?</p> <ol style="list-style-type: none"> 1. Да. 2. Нарушил, если разрешенная максимальная масса грузового автомобиля более 3,5 т. 3. Нет. 				
<p>13. Вы намерены повернуть направо. Ваши действия?</p> <ol style="list-style-type: none"> 1. Уступите дорогу трамваю. 2. Проедете перекресток первым. 	<p>14. Вы намерены развернуться. Ваши действия?</p> <ol style="list-style-type: none"> 1. Развернетесь первым. 2. Выедете на перекресток и, уступив дорогу автомобилю, завершите разворот. 				
<p>15. Вы намерены продолжить движение прямо. Каковы Ваши действия при желтом мигающем сигнале светофора?</p> <ol style="list-style-type: none"> 1. Уступите дорогу только трамваю. 2. Уступите дорогу только автомобилю. 3. Дождетесь включения зеленого сигнала светофора и продолжите движение. 	<p>16. На каком наименьшем расстоянии до ближайшего рельса Вы должны остановиться?</p> <table border="0"> <tr> <td>1. 5 м.</td> <td>3. 15 м.</td> </tr> <tr> <td>2. 10 м.</td> <td>4. 20 м.</td> </tr> </table> 	1. 5 м.	3. 15 м.	2. 10 м.	4. 20 м.
1. 5 м.	3. 15 м.				
2. 10 м.	4. 20 м.				
<p>17. Какое расстояние должно быть обеспечено между буксирующим и буксируемым транспортными средствами при буксировке на гибкой сцепке?</p> <ol style="list-style-type: none"> 1. Не более 4 м. 2. От 4 до 6 м. 3. Правилами не регламентируется. 	<p>18. Зависит ли выбор бокового интервала от скорости движения?</p> <ol style="list-style-type: none"> 1. Выбор бокового интервала от скорости движения не зависит. 2. При увеличении скорости движения боковой интервал необходимо увеличить 				
<p>19. При движении на каком автомобиле увеличение скорости может способствовать устранению заноса задней оси?</p> <ol style="list-style-type: none"> 1. На переднеприводном. 2. На заднеприводном. 	<p>20. За какие административные правонарушения, связанные с наличием состояния опьянения, предусмотрено лишение права управления транспортными средствами сроком на три года?</p> <ol style="list-style-type: none"> 1. За управление транспортным средством водителем, находящимся в состоянии опьянения; за передачу управления транспортным средством лицу, находящемуся в состоянии опьянения. 2. За управление транспортным средством водителем, находящимся в состоянии опьянения и не имеющим права управления транспортными средствами либо лишенным этого права. 3. За повторное совершение следующего правонарушения: управление транспортным средством водителем, находящимся в состоянии опьянения; за передачу управления транспортным средством лицу, находящемуся в состоянии опьянения. 				

1. Обязаны ли Вы предоставлять транспортное средство медицинским и фармацевтическим работникам для перевозки граждан в ближайшее лечебно-профилактическое учреждение в случаях, угрожающих их жизни?

1. Обязаны только при движении в попутном направлении.
2. Обязаны независимо от направления движения.
3. Не обязаны.

2. По какой траектории Вы можете продолжить движение?

1. Только по А.
2. Только по Б.
3. По любой.



3. Разрешено ли Вам произвести остановку для посадки пассажира?

1. Разрешено.
2. Разрешено только по четным числам месяца.
3. Разрешено только по нечетным числам месяца.
4. Не разрешено.



4. Какие знаки используются для обозначения номера, присвоенного дороге (маршруту)?

1. Только А.
2. Только Б.
3. Только А и Б.
4. Все.



А



Б



В

5. Эта разметка обозначает:

1. Место, где велосипедная дорожка пересекает проезжую часть.
2. Место, где велосипедист имеет преимущество.
3. Место пешеходного перехода.



6. В каких направлениях Вам разрешено движение?

1. Только прямо.
2. Только направо.
3. Прямо или направо.



7. Как Вы должны обозначить свое транспортное средство при дорожно-транспортном происшествии?

1. Только с помощью аварийной световой сигнализации.
2. Только с помощью знака аварийной остановки.
3. Обоими перечисленными способами.

8. По какой траектории Вам разрешено продолжить движение налево?

1. Только по А.
2. Только по В.
3. По любой.



9. Разрешено ли водителю подъехать задним ходом к пассажиру на этом участке дороги?

1. Да.
2. Нет.



10. Разрешается ли Вам, управляя грузовым автомобилем с разрешенной максимальной массой более 2,5 т, выехать на третью полосу в данной ситуации?

1. Разрешается.
2. Разрешается только для поворота налево или разворота.
3. Разрешается только для опережения.
4. Запрещается.



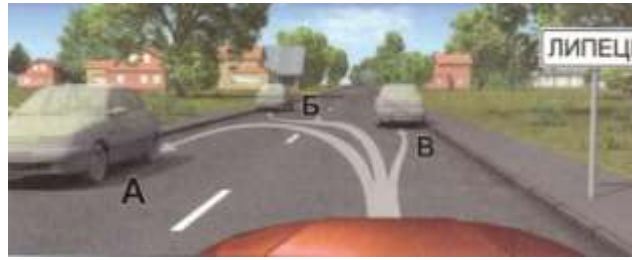
11. Можете ли Вы обогнать трактор, управляя грузовым автомобилем с разрешенной максимальной массой более 3,5т?

1. Да.
2. Нет.



12. В каком месте Вы можете произвести остановку?

1. Только В.
2. Только Б и В.
3. В любом.



13. Вы намерены повернуть налево. Кому следует уступить дорогу?

1. Только автомобилю.
2. Только трамваю.
3. Автомобилю и трамваю.
4. Никому.



14. Намереваясь продолжить движение в прямом направлении, Вы должны:

1. Проехать перекресток первым.
2. Уступить дорогу грузовому автомобилю.



15. Вы намерены развернуться. Кому Вы должны уступить дорогу?

1. Только грузовому автомобилю.
2. Только легковому автомобилю.
3. Обоим транспортным средствам.



16. Двигаясь по автомагистрали, Вы можете произвести остановку:

1. Только через 500 м.
2. В любом месте правее линии, обозначающей край проезжей части.
3. В любом месте у края проезжей части.



17. Двигаясь в темное время суток вне населенного пункта с дальним светом фар, Вы догнали движущееся впереди Вас транспортное средство. Ваши действия?

1. Оставьте включенными габаритные огни, выключив дальний свет фар.
2. Переключите дальний свет фар на ближний.
3. Допускаются оба варианта действий.

18. Как Вы должны поступить, если во время движения отказал в работе спидометр?

1. Продолжить намеченную поездку с особой осторожностью.
2. Прекратить дальнейшее движение.
3. Попытаться устранить неисправность на месте, а если это невозможно, то следовать к месту стоянки или ремонта с соблюдением необходимых мер предосторожности.









19. На повороте возник занос задней оси заднеприводного автомобиля. Ваши действия?

1. Увеличить подачу топлива, рулевым колесом стабилизировать движение.
2. Притормозить и повернуть рулевое колесо в сторону заноса.
3. Значительно уменьшить подачу топлива, не меняя положения рулевого колеса.
4. Слегка уменьшить подачу топлива и повернуть рулевое колесо в сторону заноса.


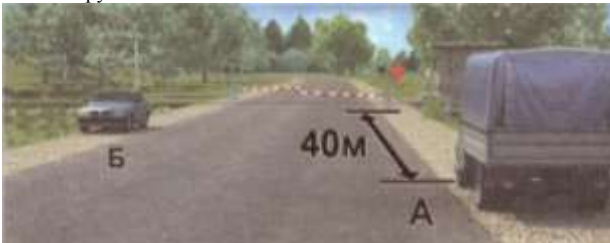




20. Какое административное наказание может быть применено к водителю транспортного средства за оставление в нарушение Правил места дорожно-транспортного происшествия, участником которого он является?

1. Штраф в размере от 1000 до 1500 рублей.
2. Штраф в размере от 1000 до 1500 рублей или лишение права управления транспортными средствами на срок от 1 года до 1,5 лет.
3. Лишение права управления транспортными средствами на срок от 1 года до 1,5 лет или административный арест на срок до 15 суток.

БИЛЕТ № 29 Категории «А» и «В»

<p>1. Что означает требование уступить дорогу?</p> <ol style="list-style-type: none"> 1. Вы должны обязательно остановиться, чтобы пропустить других участников движения. 2. Вы не должны возобновлять или продолжать движение, осуществлять какой-либо маневр, если это может вынудить других участников движения, имеющих по отношению к Вам преимущество, изменить направление движения или скорость. 3. Вы должны остановиться только при наличии дорожного знака «Уступите дорогу». 	<p>2. Какие знаки предоставляют Вам преимущество при проезде нерегулируемых перекрестков?</p> <ol style="list-style-type: none"> 1. Только А. 2. А и В. 3. Все.  <p style="text-align: center;"> А Б В </p>
<p>3. Разрешен ли Вам обгон?</p> <ol style="list-style-type: none"> 1. Разрешен. 2. Запрещен, если скорость мотоцикла более 30 км/ч. 3. Запрещен. 	<p>4. Разрешено ли водителю поставить грузовой автомобиль на стоянку в этом месте указанным способом?</p> <ol style="list-style-type: none"> 1. Да. 2. Да, если разрешенная максимальная масса автомобиля менее 3,5 т. 3. Нет. 
<p>5. Такой вертикальной разметкой обозначают:</p> <ol style="list-style-type: none"> 1. Только нижний край пролетного строения тоннелей, мостов и путепроводов. 2. Только въезд в неосвещенные тоннели. 3. Любые элементы дорожных сооружений, представляющие опасность. 	<p>6. В каком месте Вам следует остановиться?</p> <ol style="list-style-type: none"> 1. Перед светофором. 2. Перед стоп-линией. 3. В любом. 
<p>7. Должны ли Вы подавать сигналы указателями поворота при маневрировании на территории автостоянки или АЗС?</p> <ol style="list-style-type: none"> 1. Да. 2. Нет. 3. Да, только при наличии в непосредственной близости других транспортных средств 	<p>8. Кто нарушает правила поворота на перекрестке?</p> <ol style="list-style-type: none"> 1. Только водитель мотоцикла, поворачивающий налево. 2. Только водитель автомобиля. 3. Оба нарушают. 4. Никто не нарушает. 
<p>9. Разрешено ли водителю движение задним ходом при отсутствии других участников движения?</p> <ol style="list-style-type: none"> 1. Разрешено, но только до пешеходного перехода. 2. Запрещено. 	<p>10. Можете ли Вы выехать на крайнюю левую полосу для обгона в данной ситуации?</p> <ol style="list-style-type: none"> 1. Да. 2. Нет. 3. Да, если гужевая повозка движется со скоростью менее 30 км/ч. 

БИЛЕТ № 29 Категории «А» и «В»

<p>11. Разрешено ли Вам совершить такой маневр? 1. Разрешено. 2. Запрещено.</p> 	<p>12. Кто из водителей нарушил правила остановки? 1. Только водитель автомобиля А. 2. Только водитель автомобиля Б. 3. Оба не нарушили. 4. Оба нарушили.</p> 
<p>13. Вы намерены повернуть налево. Ваши действия? 1. Выполните маневр без остановки на перекрестке. 2. Выехав на перекресток, остановитесь у стоп-линии и, дождав-шись зеленого сигнала светофора на разделительной полосе, за-вершите маневр.</p> 	<p>14. Вы намерены повернуть налево. Ваши действия? 1. Уступите дорогу трамваю. 2. Проедете перекресток первым.</p> 
<p>15. Вы намерены проехать перекресток в прямом направле-нии. Следует ли уступить дорогу грузовому автомобилю, вы-езжающему с грунтовой дороги? 1. Да. 2. Нет.</p> 	<p>16. Разрешено ли Вам, управляя грузовым автомобилем, совершить опережение в данной ситуации? 1. Да, если разрешенная максимальная масса Вашего автомобиля менее 2,5 т. 2. Да, независимо от величины разрешенной максимальной мас-сы Вашего автомобиля. 3.</p>  <p>Нет.</p>
<p>17. Какие внешние световые приборы должны быть включе-ны на транспортном средстве при движении в светлое время суток? 1. Только дневные ходовые огни. 2. Только фары ближнего света. 3. Только противотуманные фары. 4. Любые из перечисленных.</p>	<p>18. При какой неисправности Вам запрещено дальнейшее движение на транспортном средстве во время дождя или снегопада? 1. Не работают в установленном режиме стеклоочистители. 2. Не действует стеклоочиститель со стороны водителя. 3. Не работают предусмотренные конструкцией транспортного средства стеклоомыватели.</p>
<p>19. Что должен сделать водитель, чтобы быстро восстановить эффективность тормозов после проезда через водную преграду? 1. Продолжить движение, немного натянув рычаг ручного тормо-за. 2. Продолжить движение и просушить тормозные колодки много-кратными непродолжительными нажатиями на педаль тормоза. 3. Продолжить движение с малой скоростью без притормажива-ния.</p>	<p>20. Как правильно применить бактерицидные салфетки? 1. Промыть рану, удалить инородные тела, наложить бактери-цидную повязку. 2. Обработать рану раствором йода, наложить бактерицидную повязку. 3. Не обрабатывая раны, наложить бактерицидную повязку, зафиксировав ее пластырем или бинтом.</p>

БИЛЕТ № 30 Категории «А» и «В»

1. На каком рисунке изображен перекресток?

1. Только на левом.
2. Только на правом.
3. На обоих.



2. По какой траектории Вы можете выполнить разворот?

1. Только по А.
2. Только по Б.
3. По любой.



3. Разрешено ли Вам поставить автомобиль на стоянку в указанном месте по нечетным числам месяца?

1. Разрешено.
2. Разрешено только после 19 часов.
3. Запрещено.



4. Какими знаками обозначают участки, на которых водитель обязан уступать дорогу пешеходам, находящимся на проезжей части?

1. Только А и Б.
2. Только Б и В.
3. Всеми.



5. Что означает надпись на проезжей части дороги?

1. Расстояние до ближайшего перекрестка.
2. Расстояние до ближайшего населенного пункта.
3. Номер дороги или маршрута.



6. В каких направлениях Вы можете продолжить движение?

1. Прямо или направо.
2. Только прямо.
3. Только направо.



7. Как Вы должны действовать, если намереваетесь повернуть налево или выполнить разворот на двухполосной дороге?

1. Включить левые указатели поворота, затем приступить к маневру.
2. Убедиться, что Вас не обгоняют, затем включить левые указатели поворота и приступить к маневру.

8. Вы собираетесь начать движение от тротуара. Должны ли Вы уступить дорогу автомобилю, выполняющему разворот?

1. Да.
2. Нет.



9. Разрешено ли водителю легкового автомобиля подъехать задним ходом к пассажиру, стоящему на тротуаре в тоннеле?






1. Да.
2. Да, если не будут созданы помехи другим участникам движения.
3. Нет.



10. По какой полосе Вам разрешено движение на легковом автомобиле в данной ситуации?







1. По любой.
2. Только по правой.
3. По любой, кроме крайней левой.











<p>11. Запрещен ли обгон в тоннелях?</p> <ol style="list-style-type: none"> 1. Не запрещен. 2. Запрещен. 	<p>12. Нарушил ли водитель легкового автомобиля Правила, поставив автомобиль на стоянку указанным способом?</p> <ol style="list-style-type: none"> 1. Нет. 2. Нет, если при этом не создаются помехи для движения других транспортных средств. 3. Да. 
<p>13. Вы намерены повернуть налево. Следует ли уступить дорогу грузовому автомобилю?</p> <ol style="list-style-type: none"> 1. Да. 2. Нет. 	<p>14. При желтом мигающем сигнале светофора, двигаясь прямо, Вы должны:</p> <ol style="list-style-type: none"> 1. Остановиться и продолжить движение только после включения зеленого сигнала светофора. 2. Уступить дорогу гужевой повозке. 3. Проехать перекресток одновременно со встречным автомобилем. 
<p>15. Вы намерены повернуть налево. Кому следует уступить дорогу?</p> <ol style="list-style-type: none"> 1. Только автобусу. 2. Легковому автомобилю и автобусу. 3. Только мотоциклу. 4. Никому. 	<p>16. В каких случаях водитель транспортного средства, приближающийся к нерегулируемому пешеходному переходу, обязан снизить скорость или остановиться перед переходом?</p> <ol style="list-style-type: none"> 1. Если пешеход переходит проезжую часть. 2. Если пешеход вступил на проезжую часть. 3. В обоих перечисленных случаях.
<p>17. Обязаны ли Вы переключить дальний свет на ближний, если водитель встречного транспортного средства периодическим переключением света фар покажет необходимость этого?</p> <ol style="list-style-type: none"> 1. Обязаны, только если расстояние до встречного транспортного средства менее 150 м. 2. Обязаны, даже если расстояние до встречного транспортного средства более 150 м. 3. Не обязаны. 	<p>18. Принято считать, что среднее время реакции водителя составляет:</p> <ol style="list-style-type: none"> 1. Примерно 0,5 секунды. 2. Примерно 1 секунду. 3. Примерно 2 секунды.
<p>19. На каком рисунке показано правильное положение рук на рулевом колесе?</p> <ol style="list-style-type: none"> 1. На левом. 2. На среднем. 3. На правом. 	<p>20. При совершении административного правонарушения, влекущего задержание транспортного средства, оно задерживается до:</p> <ol style="list-style-type: none"> 1. Составления протокола об административном правонарушении. 2. Устранения причины задержания. 3. Рассмотрения дела об административном правонарушении.

БИЛЕТ № 31 Категории «А» и «В»






<p>1. Сколько полос для движения имеет данная дорога? 1. Две. 2. Четыре.</p> 	<p>2. Какие знаки информируют Вас о приближении к началу участка дороги со встречным движением? 1. Только А. 2. Только А и Б. 3. Все.</p>  <p style="text-align: center;"> А Б В </p>
<p>3. Разрешено ли Вам подъехать к месту своей работы, расположенному в зоне действия этих знаков? 1. Разрешено только в нерабочие дни. 2. Разрешено только в рабочие дни. 3. Разрешено в любой день. 4. Не разрешено.</p> 	<p>4. Вы буксируете неисправный автомобиль. По какой полосе Вы можете продолжить движение? 1. Только по правой. 2. По любой.</p> 
<p>5. Разрешается ли Вам пересекать двойную сплошную линию продольной разметки? 1. Разрешается только при выезде из дворов и других прилегающих территорий. 2. Разрешается только при обгоне. 3. Разрешается только при интенсивном движении. 4. Не разрешается.</p>	<p>6. О чем информируют Вас стрелки на зеленом сигнале светофора? 1. На этом перекрестке всегда запрещен поворот направо. 2. Движение направо регулируется дополнительной секцией.</p> 
<p>7. Вытянутая рука водителя стоящего легкового автомобиля является предупредительным сигналом, информирующим Вас: 1. О его намерении начать движение. 2. О его просьбе оказать помощь. 3. Об имеющейся опасности за поворотом.</p> 	<p>8. Водитель какого транспортного средства нарушает Правила? 1. Только легкового автомобиля. 2. Обоих транспортных средств. 3. Никто не нарушает.</p> 
<p>9. Разрешается ли Вам выполнить разворот на перекрестке? 1. Да. 2. Нет.</p> 	<p>10. В каком случае Вы имеете право двигаться в населенном пункте со скоростью более 60 км/ч? 1. Только при выполнении обгона. 2. Только если установлены дорожные знаки, разрешающие движение со скоростью более 60 км/ч. 3. В обоих перечисленных случаях.</p>

<p>11. При затрудненном встречном разъезде на таком участке дороги преимущество имеет:</p> <ol style="list-style-type: none"> 1. Водитель легкового автомобиля. 2. Водитель грузового автомобиля. 	<p>12. Разрешено ли Вам поставить автомобиль на стоянку в указанном месте?</p> <ol style="list-style-type: none"> 1. Да. 2. Нет. 
<p>13. Вы намерены повернуть налево. Ваши действия?</p> <ol style="list-style-type: none"> 1. Выехав на перекресток, дождетесь сигнала регулировщика, разрешающего поворот, и повернете. 2. Остановитесь у стоп-линии, дождетесь сигнала регулировщика, разрешающего поворот, и повернете. 3. Выехав на перекресток, уступите дорогу встречному автомобилю и повернете. 	<p>14. Вы намерены проехать перекресток в прямом направлении. Должны ли Вы уступить дорогу грузовому автомобилю?</p> <ol style="list-style-type: none"> 1. Да. 2. Нет. 
<p>15. Вы намерены продолжить движение прямо. Кому следует уступить дорогу?</p> <ol style="list-style-type: none"> 1. Только мотоциклу. 2. Только мотоциклу и легковому автомобилю. 3. Только автобусу и мотоциклу. 4. Всем транспортным средствам. 	<p>16. Можно ли обучать вождению на этой дороге?</p> <ol style="list-style-type: none"> 1. Можно, используя для движения только правую полосу проезжей части. 2. Можно только при наличии данного опознавательного знака. 3. Нельзя. 
<p>17. Разрешается ли использовать в светлое время суток противотуманные фары вместо ближнего света фар?</p> <ol style="list-style-type: none"> 1. Не разрешается. 2. Разрешается, кроме случаев движения в тоннелях и в условиях недостаточной видимости. 3. Разрешается. 	<p>18. Разрешается ли движение до места ремонта или стоянки в темное время суток с негорящими (из-за неисправности) фарами и задними габаритными огнями?</p> <ol style="list-style-type: none"> 1. Запрещается только на дорогах без искусственного освещения. 2. Запрещается. 3. Разрешается.
<p>19. Как должен поступить водитель в случае потери сцепления колес с дорогой из-за образования «водяного клина»?</p> <ol style="list-style-type: none"> 1. Увеличить скорость. 2. Снизить скорость резким нажатием на педаль тормоза. 3. Снизить скорость, применяя торможение двигателем. 	<p>20. Как влияет утомление водителя на его внимание и реакцию?</p> <ol style="list-style-type: none"> 1. Внимание притупляется, время реакции уменьшается. 2. Внимание притупляется, время реакции увеличивается. 3. Внимание не притупляется, время реакции увеличивается.

БИЛЕТ № 32 Категории «А» и «В»

<p>1. По требованию каких лиц Вы обязаны проходить освидетельствование на состояние алкогольного опьянения и медицинское освидетельствование на состояние опьянения?</p> <ol style="list-style-type: none"> 1. Должностных лиц, которым предоставлено право государственного надзора и контроля за безопасностью дорожного движения и эксплуатацией транспортного средства. 2. Всех сотрудников милиции. 3. Только регулировщика. 	<p>2. Какие знаки информируют Вас, что на перекрестке необходимо уступить дорогу транспортным средствам, приближающимся слева?</p> <ol style="list-style-type: none"> 1. Только А. 2. Только Б. 3. Только А и Б. 4. Все.  <p style="text-align: center;"> А Б В </p>
<p>3. Разрешено ли Вам продолжить движение в прямом направлении на грузовом автомобиле с прицепом?</p> <ol style="list-style-type: none"> 1. Разрешено. 2. Разрешено, если Вы обслуживаете предприятие, расположенное в обозначенной знаком зоне. 3. Запрещено. 	<p>4. В каком из направлений Вам разрешено движение?</p> <ol style="list-style-type: none"> 1. Только Б. 2. Только А и Б. 3. Только Б и В. 4. Во всех из указанных. 
<p>5. Для движения каких транспортных средств предназначена полоса, на которой нанесена разметка в виде буквы «А»?</p> <ol style="list-style-type: none"> 1. Любых автобусов. 2. Только автобусов и троллейбусов, движущихся по установленным маршрутам с обозначенными местами остановок. 3. Автобусов, троллейбусов и такси. 	<p>6. Можете ли Вы обогнать грузовой автомобиль?</p> <ol style="list-style-type: none"> 1. Да. 2. Нет. 
<p>7. Обязаны ли Вы включить правые указатели поворота при въезде на этот перекресток?</p> <ol style="list-style-type: none"> 1. Да. 2. Нет. 3. Да, но только при наличии движущихся сзади транспортных средств. 	<p>8. Выезжая с прилегающей территории, Вы обязаны уступить дорогу:</p> <ol style="list-style-type: none"> 1. Только механическим транспортным средствам. 2. Только маршрутным транспортным средствам. 3. Любым транспортным средствам и пешеходам.
<p>9. Разрешен ли разворот на участках дорог, обозначенных этим знаком?</p> <ol style="list-style-type: none"> 1. Разрешен только в населенных пунктах. 2. Разрешен только при видимости дороги более 100 м. 3. Не разрешен. 	<p>10. В каком направлении Вы можете продолжить движение по средней полосе?</p> <ol style="list-style-type: none"> 1. Прямо или налево. 2. Только налево. 3. Налево или в обратном направлении. 

БИЛЕТ № 32 Категории «А» и «В»

<p>11. Запрещен ли обгон на пешеходном переходе?</p> <ol style="list-style-type: none"> 1. Запрещен только при наличии на нем пешеходов. 2. Запрещен во всех случаях. 3. Не запрещен. 	<p>12. В каком из указанных мест Вы можете остановиться?</p> <ol style="list-style-type: none"> 1. Только В. 2. Только А и В. 3. Только Б и В. 4. В любом. 
<p>13. Вы намерены повернуть налево. Ваши действия?</p> <ol style="list-style-type: none"> 1. Проедете перекресток первым. 2. Уступите дорогу только грузовому автомобилю с включенным проблесковым маячком. 3. Уступите дорогу только автобусу. 	<p>14. Намереваясь продолжить движение в прямом направлении, Вы должны:</p> <ol style="list-style-type: none"> 1. Проехать перекресток первым. 2. Пропустить автомобиль с включенными проблесковым маячком и специальным звуковым сигналом. 
<p>15. Вы намерены продолжить движение прямо. Кому следует уступить дорогу?</p> <ol style="list-style-type: none"> 1. Только трамваю. 2. Только легковому автомобилю. 3. Трамваю и легковому автомобилю. 4. Всем транспортным средствам. 	<p>16. Разрешается ли движение по автомагистрали, если Ваше транспортное средство по техническому состоянию развивает скорость менее 40 км/ч?</p> <ol style="list-style-type: none"> 1. Разрешается. 2. Разрешается только по крайней правой полосе. 3. Запрещается.
<p>17. Перевозка груза запрещается, если он:</p> <ol style="list-style-type: none"> 1. Выступает более чем на 1 м за габариты транспортного средства спереди или сзади. 2. Закрывает внешние световые приборы, световозвращатели, регистрационные и опознавательные знаки. 3. Установлен на сиденье для пассажиров. 	<p>18. Разрешается ли Вам устанавливать на одну ось грузового автомобиля шины с различным рисунком протектора?</p> <ol style="list-style-type: none"> 1. Разрешается на любую ось. 2. Разрешается только на заднюю ось. 3. Не разрешается.
<p>19. На каком рисунке водитель выполняет левый поворот по траектории, обеспечивающей наибольшую безопасность движения?</p> <ol style="list-style-type: none"> 1. На правом. 2. На левом. 	<p>20. При искусственной вентиляции легких «изо рта в рот» необходимо:</p> <ol style="list-style-type: none"> 1. Выдвинуть подбородок пострадавшего вперед при запрокинутой на затылок голове. 2. Положить пострадавшего на бок. 3. Наклонить вперед голову пострадавшего.

БИЛЕТ № 33 Категории «А» и «В»

1. Какой маневр намеревается выполнить водитель легкового автомобиля?

1. Обгон.
2. Перестроение с дальнейшим опережением.
3. Объезд.



2. Этот знак:

1. Показывает направления движения на перекрестке.
2. Указывает, что на пересекаемой дороге движение осуществляется по двум полосам.



3. На какие транспортные средства распространяется действие этих знаков?

1. Только на грузовые автомобили с разрешенной максимальной массой более 3,5 т.
2. На все грузовые автомобили.
3. На все транспортные средства, кроме легковых автомобилей.



4. Какие знаки указывают протяженность зоны для разворота?

1. Только А.
2. Только Б.
3. Все.



5. Этой линией обозначают:

1. Участок дороги, где запрещено движение вблизи от тротуара.
2. Места, где запрещена любая остановка.
3. Места остановки маршрутных транспортных средств и стоянки такси



6. Обязаны ли Вы уступить дорогу автомобилю «Скорой медицинской помощи» с выключенным проблесковым маячком?

1. Да.
2. Нет.



7. Дает ли Вам преимущество в движении подача сигнала указателями поворота?

1. Да.
2. Да, но только при завершении обгона.
3. Нет.

8. Разрешен ли Вам поворот направо по указанной траектории в данной ситуации?

1. Да.
2. Нет.



9. Разрешено ли Вам выполнить разворот по указанным траекториям?

1. Разрешено только по А.
2. Разрешено только по Б.
3. Запрещено.



10. По какой полосе Вы можете продолжить движение, завершив опережение вне населенного пункта?

1. Только по правой.
2. По любой.



11. Разрешено ли Вам обогнать грузовой автомобиль в конце подъема?

1. Разрешено, если скорость грузового автомобиля не более 30 км/ч.
2. Разрешено.
3. Запрещено.



12. Разрешено ли Вам поставить автомобиль на стоянку в указанном месте при наличии узкой обочины?

1. Разрешено.
2. Разрешено, но только в светлое время суток.
3. Запрещено.



13. Вы намерены повернуть направо. Ваши действия?

1. Уступите дорогу только трамваю А.
2. Уступите дорогу только трамваю Б.
3. Уступите дорогу обоим трамваям.
4. Проедете перекресток первым.



14. Вы намерены повернуть налево. Ваши действия?

1. Проедете перекресток первым.
2. Выедете на перекресток и, уступив дорогу мотоциклу, завершите поворот.



15. Вы намерены продолжить движение прямо. Кому следует уступить дорогу?

1. Только легковому автомобилю.
2. Только грузовому автомобилю.
3. Обоим транспортным средствам.



16. Кто из водителей нарушает Правила?

1. Все водители.
2. Никто из водителей.
3. Только водитель трактора.
4. Только водитель легкового автомобиля.
5. Водители грузового автомобиля и трактора.



17. Как Вы должны поступить при ослеплении Вас дальним светом фар встречных или попутно движущихся транспортных средств?

1. Принять вправо (в сторону обочины) и остановиться.
2. Включить аварийную сигнализацию и, не меняя полосы движения, снизить скорость и остановиться.
3. Подавая звуковой сигнал, остановиться.

18. Безопасной дистанцией при движении по сухой дороге на длинномерном грузовом автомобиле можно считать расстояние, которое автомобиль пройдет не менее чем за:

1. 1 секунду.
2. 2 секунды.
3. 3 секунды.

19. Какие действия водителя приведут к уменьшению центробежной силы, возникающей на повороте?

1. Увеличение скорости движения.
2. Уменьшение скорости движения.
3. Уменьшение радиуса прохождения поворота.

20. Как влияет алкоголь на время реакции водителя?

1. Время реакции уменьшается.
2. Время реакции увеличивается.
3. Алкоголь на время реакции не влияет.

БИЛЕТ № 34 Категории «А» и «В»

1. На каких рисунках показана главная дорога?

1. Только на левом верхнем.
2. Только на правом верхнем.
3. Только на верхних.
4. На всех.



2. На каком расстоянии до скользкого участка дороги устанавливается этот знак в населенном пункте?

1. 150-300 м.
2. 50-100 м.
3. Непосредственно перед началом скользкого участка.



3. Каким транспортным средствам разрешена остановка в зоне действия знака?

1. Только такси с включенным таксометром.
2. Только автомобилям, на которых установлен опознавательный знак «Инвалид».
3. Всем перечисленным транспортным средствам.



4. Какой из знаков используется для обозначения кемпинга?

1. Только А.
2. Только Б.
3. Только В.
4. Б и В.



А



Б



В

5. Как Вы должны действовать, если реверсивные светофоры выключились?

1. Немедленно перестроиться на правую полосу.
2. Можете продолжить движение по полосе только до перекрестка.
3. При отсутствии встречных транспортных средств продолжить движение по полосе.



6. В каких направлениях Вам разрешено продолжить движение?

1. Только налево.
2. Только в обратном направлении.
3. Налево и в обратном направлении.



7. Как следует обозначить буксируемый автомобиль при отсутствии или неисправности аварийной световой сигнализации?

1. Включить габаритные огни.
2. Включить задний противотуманный фонарь.
3. Установить на задней части буксируемого автомобиля знак аварийной остановки.

8. Въезжая во двор, Вы обязаны уступить дорогу:

1. Только велосипедисту.
2. Только пешеходам.
3. Пешеходам и велосипедисту.
4. Никому.



9. Разрешен ли Вам разворот в этом месте?

1. Разрешен.
2. Разрешен, если не будет создано помех движению маршрутных транспортных средств.
3. Не разрешен.









10. Кто из мотоциклистов занял правильное положение на полосе движения?

1. Только мотоциклист, занимающий левое положение на полосе движения.
2. Только мотоциклист, занимающий правое положение на полосе движения.
3. Оба мотоциклиста.



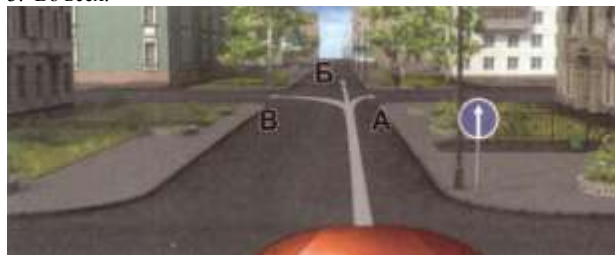
БИЛЕТ № 34 Категории «А» и «В»

<p>11. В данной ситуации для того, чтобы продолжить движение в прямом направлении, Вам разрешается:</p> <ol style="list-style-type: none"> 1. Объехать грузовой автомобиль справа. 2. Продолжить движение только после того, как грузовой автомобиль выполнит поворот налево. 3. Разрешается любое из перечисленных действий. 	<p>12. В каком из указанных мест Вы можете произвести остановку?</p> <ol style="list-style-type: none"> 1. Только А. 2. Только Б. 3. Только Б и В. 4. Ни в каком. 
<p>13. Вы намерены проехать перекресток в прямом направлении. Ваши действия?</p> <ol style="list-style-type: none"> 1. Проедете перекресток первым. 2. Уступите дорогу трамваю. 	<p>14. Вы намерены повернуть налево. Ваши действия?</p> <ol style="list-style-type: none"> 1. Проедете перекресток первым. 2. Уступите дорогу только легковому автомобилю. 3. Уступите дорогу только мотоциклу. 
<p>15. Вы намерены повернуть налево. Кому следует уступить дорогу?</p> <ol style="list-style-type: none"> 1. Обоим транспортным средствам. 2. Только легковому автомобилю. 3. Только автобусу. 	<p>16. Сигналом остановки для машиниста поезда служат:</p> <ol style="list-style-type: none"> 1. Вытянутые в стороны руки. 2. Круговое движение рукой. 3. Поднятая вверх правая рука. 4. Поднятые вверх обе руки.
<p>17. Какие внешние световые приборы должны быть включены в тоннеле с искусственным освещением?</p> <ol style="list-style-type: none"> 1. Фары ближнего света или габаритные огни. 2. Фары ближнего света или дневные ходовые огни. 3. Фары ближнего или дальнего света. 	<p>18. В каком случае Вам разрешается эксплуатация автомобиля?</p> <ol style="list-style-type: none"> 1. Не работают в установленном режиме стеклоочистители. 2. Не работают стеклоомыватели. 3. Не работает стеклоподъемник.
<p>19. После длительного движения по двухполосной дороге за грузовым автомобилем на безопасной дистанции у Вас появилась возможность совершить обгон. Ваши действия?</p> <ol style="list-style-type: none"> 1. Максимально приблизитесь к обгоняемому автомобилю, затем перестроитесь на полосу встречного движения и совершите маневр. 2. Перестроитесь на полосу встречного движения, после чего произведете сближение с обгоняемым транспортным средством. 3. Допустимы оба варианта действий. 	<p>20. В какой последовательности следует оказывать помощь пострадавшему, находящемуся в бессознательном состоянии, если у него прекратилось дыхание и сердечная деятельность?</p> <ol style="list-style-type: none"> 1. Непрямой массаж сердца, освобождение проходимости дыхательных путей, искусственная вентиляция легких. 2. Искусственная вентиляция легких, непрямой массаж сердца, освобождение проходимости дыхательных путей. 3. Освобождение проходимости дыхательных путей, искусственная вентиляция легких, непрямой массаж сердца.

БИЛЕТ № 35 Категории «А» и «В»

1. Что означает термин «недостаточная видимость»?
 1. Видимость дороги менее 100 м вблизи опасных поворотов и переломов продольного профиля дороги.
 2. Видимость дороги менее 300 м в условиях тумана, дождя, снегопада и т. п., а также в сумерки.
 3. Видимость дороги менее 150 м в ночное время.

2. В каких из указанных направлений Вы можете продолжить движение на следующем перекрестке?
 1. Только Б.
 2. А или Б.
 3. Во всех.



3. Какие знаки разрешают движение со скоростью 60 км/ч?
 1. Только Б.
 2. Б и В.
 3. Ни один из знаков.



4. Кто из водителей нарушил правила стоянки?
 1. Только водитель грузового автомобиля.
 2. Водители мотоцикла и грузового автомобиля.
 3. Все водители.
 4. Никто не нарушил.



5. По какой траектории Вы можете объехать препятствие?
 1. Только по А.
 2. Только по Б.
 3. По любой.



6. Что означает сочетание красного и желтого сигналов светофора?
 1. Неисправна светофорная сигнализация.
 2. Вскоре будет включен зеленый сигнал.
 3. Вскоре будет включен красный сигнал.

7. На каком расстоянии от транспортного средства должен быть выставлен знак аварийной остановки в данной ситуации?
 1. Не менее 10 м.
 2. Не менее 15 м.
 3. Не менее 20 м.
 4. Не менее 30 м.



8. Двигаясь по правой полосе, Вы намерены перестроиться на левую. На каком из рисунков показана ситуация, в которой Вы обязаны уступить дорогу?
 1. На левом.
 2. На правом.
 3. На обоих.







9. Допускается ли выполнить разворот по данной траектории при видимости дороги более 100 м?
 1. Да.
 2. Нет.



10. С какой максимальной скоростью Вы можете продолжить движение на грузовом автомобиле с разрешенной максимальной массой более 3,5 т после въезда на примыкающую слева дорогу?
 1. 60 км/ч.
 2. 70 км/ч.
 3. 90 км/ч.



БИЛЕТ № 35 Категории «А» и «В»

<p>11. В данной ситуации Вы:</p> <ol style="list-style-type: none"> 1. Должны уступить дорогу. 2. Имеете право проехать первым. 	<p>12. В каком из указанных мест Вы можете остановиться на легковом автомобиле?</p> <ol style="list-style-type: none"> 1. Только Б. 2. Только А и Б. 3. Только А и В. 4. В любом. 
<p>13. В каком случае Вам не придется уступать дорогу другим участникам движения?</p> <ol style="list-style-type: none"> 1. Только если Вы намерены продолжить движение прямо. 2. Только если Вы намерены продолжить движение прямо или направо. 3. В любом случае. 	<p>14. Вы намерены продолжить движение прямо. Ваши действия?</p> <ol style="list-style-type: none"> 1. Завершите проезд перекрестка, поскольку Вы первым выехали на него. 2. Уступите дорогу грузовому автомобилю. 
<p>15. Вы намерены повернуть налево. Кому следует уступить дорогу?</p> <ol style="list-style-type: none"> 1. Никому. 2. Только автомобилю с включенными проблесковым маячком и специальным звуковым сигналом. 3. Обоим транспортным средствам. 	<p>16. Как Вы должны поступить с пассажирами при вынужденной остановке на железнодорожном переезде?</p> <ol style="list-style-type: none"> 1. Высадить людей, если принятые меры не позволяют убрать автомобиль с переезда. 2. При появлении поезда высадить людей. 3. Немедленно высадить людей.
<p>17. При остановке и стоянке на неосвещенных участках дорог в темное время суток Вы должны:</p> <ol style="list-style-type: none"> 1. Включить габаритные огни. 2. Включить ближний свет фар. 3. Выставить знак аварийной остановки. 	<p>18. Исключает ли антиблокировочная тормозная система возможность возникновения заноса или сноса при прохождении поворота?</p> <ol style="list-style-type: none"> 1. Полностью исключает возможность возникновения только заноса. 2. Полностью исключает возможность возникновения только сноса. 3. Не исключает возможность возникновения сноса или заноса.
<p>19. В какую сторону смещается прицеп автопоезда на повороте?</p> <ol style="list-style-type: none"> 1. Не смещается. 2. Смещается к центру поворота. 3. Смещается от центра поворота. 	<p>20. При движении в условиях плохой видимости нужно выбирать скорость, исходя из того, чтобы остановочный путь был:</p> <ol style="list-style-type: none"> 1. Больше расстояния видимости. 2. Меньше расстояния видимости.

БИЛЕТ № 36 Категории «А» и «В»

1. Какая дорога является главной на перекрестке?

1. Дорога с твердым покрытием по отношению к грунтовой дороге.
2. Дорога с тремя или более полосами движения по отношению к дороге с двумя полосами.
3. Дорога с асфальтобетонным покрытием по отношению к дороге, покрытой брусчаткой

2. Разрешено ли Вам въехать на мост одновременно с мотоциклистом, если Вы не затрудните ему движение?

1. Да.
2. Нет.



3. В каких направлениях Вам разрешено продолжить движение на перекрестке?

1. Только В.
2. А или В.
3. Во всех, кроме Г.



4. Какие таблички распространяют действие установленных с ними знаков на грузовые автомобили с разрешенной максимальной массой более 3,5 т?

1. Только А.
2. Только В.
3. А и В.
4. Все.



5. Разметкой в виде буквы «А» обозначают:

1. Специальную полосу для маршрутных транспортных средств.
2. Специальную полосу для маршрутных транспортных средств и такси.
3. Место остановки маршрутных транспортных средств



6. Как в данной ситуации должен поступить водитель легкового автомобиля при приближении автомобиля оперативной службы?

1. Перестроиться на правую полосу и продолжить движение.
2. Остановиться справа у тротуара.



7. Согнутая в локте рука водителя автомобиля является сигналом, информирующим Вас:

1. О его намерении повернуть направо.
2. О его намерении продолжить движение прямо.
3. О его намерении остановиться, чтобы уступить дорогу мотоциклисту.



8. Кто имеет преимущество в движении?

1. Водитель легкового автомобиля.
2. Водитель грузового автомобиля.



9. По какой траектории Вам разрешено выполнить разворот?

1. Только по А.
2. Только по Б.
3. Ни по одной из предложенных.











10. В каких случаях на дорогах, проезжая часть которых разделена линиями разметки, Вы обязаны двигаться строго по полосам?

1. Только при интенсивном движении.
2. Только если полосы движения обозначены сплошными линиями разметки.
3. Во всех случаях.

БИЛЕТ № 36 Категории «А» и «В»

<p>11. Водитель обгоняемого транспортного средства обязан:</p> <ol style="list-style-type: none">1. Снизить скорость движения.2. Двигаться с прежней или большей скоростью.3. Двигаться с прежней или меньшей скоростью.	<p>12. Разрешена ли Вам остановка для высадки пассажиров в указанном месте?</p> <ol style="list-style-type: none">1. Разрешена.2. Разрешена, если не будет создано помех для движения маршрутных транспортных средств.3. Запрещена 
<p>13. Вы намерены повернуть направо. Ваши действия?</p> <ol style="list-style-type: none">1. Остановитесь перед стоп-линией и, пропустив пешеходов, повернете направо.2. Выехав на перекресток, остановитесь перед пешеходным переходом, чтобы пропустить пешеходов.3. Продолжите движение без остановки на перекрестке. 	<p>14. Должны ли Вы при движении прямо уступить дорогу трамваю?</p> <ol style="list-style-type: none">1. Да.2. Нет. 
<p>15. Намереваясь повернуть налево, Вы должны:</p> <ol style="list-style-type: none">1. Уступить дорогу грузовому автомобилю.2. Уступить дорогу обоим транспортным средствам.3. Проехать перекресток первым. 	<p>16. Должны ли Вы уступить дорогу грузовому автомобилю?</p> <ol style="list-style-type: none">1. Да.2. Нет. 
<p>17. В каких случаях Вы обязаны включать в светлое время суток фары ближнего света?</p> <ol style="list-style-type: none">1. Только при движении вне населенного пункта.2. При движении по любым дорогам.	<p>18. Разрешается ли устанавливать на транспортном средстве ошипованные шины совместно с неошипованными?</p> <ol style="list-style-type: none">1. Разрешается.2. Разрешается только на разные оси.3. Запрещается.
<p>19. Как правильно произвести экстренное торможение на скользкой дороге, если Ваш автомобиль не оборудован антиблокировочной тормозной системой?</p> <ol style="list-style-type: none">1. Нажать на педаль тормоза до упора и удерживать ее до полной остановки.2. Тормозить прерывистым нажатием на педаль тормоза, не допуская блокировки колес.	<p>20. Владелец транспортного средства обязан возместить вред, причиненный этим транспортным средством, если не докажет, что:</p> <ol style="list-style-type: none">1. Вред возник исключительно вследствие непреодолимой силы.2. Вред возник исключительно вследствие умысла потерпевшего.3. Вред возник вследствие непреодолимой силы или умысла потерпевшего.

БИЛЕТ № 37 Категории «А» и «В»

<p>1. Водительское удостоверение на право управления транспортным средством категории «В» разрешает вам управлять:</p> <ol style="list-style-type: none"> 1. Только легковым автомобилем. 2. Легковым автомобилем и мотоциклом. 3. Автомобилем, разрешенная максимальная масса которого не превышает 3,5 т и число сидячих мест в котором, не считая места водителя, не более восьми. 	<p>2. Какие знаки устанавливают непосредственно перед железнодорожным переездом?</p> <ol style="list-style-type: none"> 1. Только А. 2. Только Б. 3. Только В. 4. А и В. 
<p>3. Разрешен ли Вам разворот в указанном месте?</p> <ol style="list-style-type: none"> 1. Разрешен. 2. Не разрешен. 	<p>4. Разрешено ли Вам поставить автомобиль на стоянку за путепроводом?</p> <ol style="list-style-type: none"> 1. Да. 2. Нет. 
<p>5. Разрешается ли Вам перестроиться на реверсивную полосу в данной ситуации?</p> <ol style="list-style-type: none"> 1. Разрешается. 2. Разрешается только для поворота налево или разворота. 3. Запрещается. 	<p>6. Вы были намерены проехать перекресток в прямом направлении. Как следует поступить, если Вы не успели заранее перестроиться на левую полосу?</p> <ol style="list-style-type: none"> 1. Выехать за стоп-линию, перестроиться на левую полосу и остановиться перед пересекаемой проезжей частью. 2. Остановиться перед стоп-линией и, дождавшись зеленого сигнала светофора, продолжить движение прямо. Повернуть направо. 
<p>7. Какие указатели поворота Вы обязаны включить при выполнении разворота по такой траектории?</p> <ol style="list-style-type: none"> 1. Только правые. 2. Только левые. 3. Сначала правые, а при движении от тротуара - левые. 	<p>8. Кто должен уступить дорогу при взаимном перестроении?</p> <ol style="list-style-type: none"> 1. Водитель легкового автомобиля. 2. Водитель грузового автомобиля. 
<p>9. Разрешено ли водителю легкового автомобиля подъехать задним ходом к пассажиру, стоящему на автобусной остановке?</p> <ol style="list-style-type: none"> 1. Разрешено. 2. Запрещено. 	<p>10. Что должно иметь для Вас решающее значение при выборе скорости движения в плотном потоке транспортных средств?</p> <ol style="list-style-type: none"> 1. Предельные ограничения скорости, установленные для Вашего транспортного средства. 2. Интенсивность движения.

БИЛЕТ № 37 Категории «А» и «В»

<p>11. Запрещен ли обгон на мостах, путепроводах, эстакадах и под ними? 1. Запрещен только под мостами, путепроводами и эстакадами. 2. Запрещен. 3. Разрешен.</p>	<p>12. Можете ли Вы остановиться для посадки пассажира? 1. Да. 2. Нет.</p> 
<p>13. Вы намерены повернуть направо. Ваши действия? 1. Уступите дорогу легковому автомобилю, производящему разворот. 2. Проедете перекресток первым.</p> 	<p>14. Поворачивая налево, Вы должны: 1. Уступить дорогу автомобилю. 2. Проехать перекресток первым.</p> 
<p>15. Намереваясь продолжить движение прямо, Вы должны: 1. Проехать перекресток первым. 2. Уступить дорогу трамваю.</p> 	<p>16. На каких участках автомагистрали запрещается движение задним ходом? 1. На всем протяжении дороги запрещено. 2. Только в местах въезда или выезда с нее. 3. Только в местах остановок маршрутных транспортных средств. 4. На всем протяжении дороги разрешено.</p>
<p>17. В данной ситуации: 1. Вы должны уступить дорогу велосипедисту. 2. Вы, имея преимущество, можете продолжить движение, приняв меры предосторожности.</p> 	<p>18. Какая наименьшая величина остаточной высоты рисунка протектора допускается при эксплуатации легкового автомобиля? 1. 0,8 мм. 2. 1,0 мм. 3. 1,6 мм. 4. 2,0 мм.</p>
<p>19. Как изменяется величина центробежной силы с увеличением скорости движения на повороте? 1. Не изменяется. 2. Увеличивается пропорционально скорости. 3. Увеличивается пропорционально квадрату скорости.</p>	<p>20. Что следует сделать для оказания первой помощи пострадавшему при переломе плечевой кости? 1. Наложить шину с наружной стороны плеча и туго прибинтовать руку к туловищу. 2. Наложить две шины с наружной и внутренней стороны плеча, подложить валик из мягкой ткани в подмышечную область, согнуть руку в локтевом суставе и зафиксировать косыночными повязками через шею и вокруг туловища.</p>

БИЛЕТ № 38 Категории «А» и «В»

- 1. Сколько пересечений проезжих частей имеет этот перекресток?**
 1. Одно. 2. Два. 3. Четыре.



- 2. Эти знаки предупреждают Вас о приближении:**
 1. К месту производства работ на дороге.
 2. К железнодорожному переезду со шлагбаумом.
 3. К железнодорожному переезду без шлагбаума.



- 3. Какие знаки разрешают разворот?**
 1. Все, кроме В.
 2. Все.
 3. Только А.



- 4. Двигаясь по крайней левой полосе, Вы можете продолжить движение:**

1. Только налево.
 2. Только в обратном направлении.
 3. Налево или в обратном направлении.



- 5. Разрешена ли Вам остановка в указанном месте?**

1. Разрешена.
 2. Разрешена только с заездом на тротуар.
 3. Разрешена, если не создается помех маршрутным транспортным средствам.
 4. Не разрешена.



- 6. В каком случае водитель автомобиля имеет преимущество перед другими участниками движения?**

1. Только при включенном проблесковом маячке синего или бело-лунного цвета.
 2. Только при включенном проблесковом маячке оранжевого или желтого цвета.
 3. Только при включенных проблесковом маячке синего (синего и красного) цвета и специальном звуковом сигнале.
 4. Во всех перечисленных случаях.


- 7. Вы приняли решение остановиться сразу же после перекрестка. Когда необходимо включить правые указатели поворота?**

1. До въезда на перекресток, чтобы заблаговременно предупредить других водителей об остановке.
 2. Только после въезда на перекресток.
 3. Место включения указателей поворота не имеет значения, так как поворот направо запрещен.



- 8. Съезжая с дороги на прилегающую справа территорию, Вы:**

1. Пользуетесь преимуществом перед другими участниками движения.
 2. Должны уступить дорогу только пешеходам.
 3. Должны уступить дорогу только велосипедисту.
 4. Должны уступить дорогу пешеходам и велосипедисту.



- 9. Разрешен ли разворот на данном участке дороги с подъемом?**

1. Разрешен.
 2. Разрешен только при видимости дороги более 100 м.
 3. Не разрешен.



- 10. С какой максимальной скоростью Вы можете продолжить движение после знака, если Вы буксируете неисправное механическое транспортное средство?**

1. 50 км/ч.
 2. 70 км/ч.
 3. 90 км/ч.



БИЛЕТ № 38 Категории «А» и «В»

<p>11. Можете ли Вы начать обгон?</p> <ol style="list-style-type: none"> 1. Да, если обгон будет завершен до перекрестка. 2. Да. 3. Нет. 	<p>12. Разрешена ли Вам остановка в указанных местах?</p> <ol style="list-style-type: none"> 1. Разрешена только в Б. 2. Разрешена только в В. 3. Разрешена только в А и В. 4. Запрещена. 
<p>13. Вы намерены повернуть налево. Ваши действия?</p> <ol style="list-style-type: none"> 1. Проедете перекресток первым. 2. Уступите дорогу только автомобилю с включенным проблесковым маячком и специальным звуковым сигналом. 3. Уступите дорогу обоим транспортным средствам. 	<p>14. Следует ли при движении прямо уступить дорогу трамваю?</p> <ol style="list-style-type: none"> 1. Да. 2. Нет. 
<p>15. Вы намерены повернуть направо. Можете ли Вы приступить к повороту?</p> <ol style="list-style-type: none"> 1. Да 2. Да, после того, как грузовой автомобиль начнет поворот. 3. Нет 	<p>16. Подъехав к трамваю попутного направления, остановившемуся у посадочной площадки, расположенной на проезжей части посередине дороги, Вы должны:</p> <ol style="list-style-type: none"> 1. Остановиться и продолжить движение только после закрытия дверей трамвая. 2. Уступить дорогу пешеходам, идущим к трамваю или от него. 3. Остановиться и продолжить движение только после начала движения трамвая.
<p>17. Разрешена ли перевозка детей до 12-летнего возраста на переднем сиденье легкового автомобиля ?</p> <ol style="list-style-type: none"> 1. Запрещена. 2. Разрешена только с использованием детских удерживающих устройств. 3. Разрешена только на руках у взрослых. 	<p>18. При движении в плотном потоке Вы заметили сзади транспортное средство, движущееся на слишком малой дистанции. Как следует поступить, чтобы обеспечить безопасность движения?</p> <ol style="list-style-type: none"> 1. Увеличить скорость движения, уменьшив дистанцию до движущегося впереди транспортного средства. 2. Предупредить следующего сзади водителя резким кратковременным торможением. 3. Скорректировать скорость движения, ослабив нажатие на педаль газа, чтобы увеличить дистанцию до движущегося впереди транспортного средства. 4. Допускается любое из перечисленных действий.
<p>19. Включение каких внешних световых приборов обеспечит Вам наилучшую видимость дороги при движении ночью во время сильной метели?</p> <ol style="list-style-type: none"> 1. Противотуманных фар совместно с дальним светом фар. 2. Противотуманных фар совместно с ближним светом фар. 	<p>20. Как правильно снимать одежду с пострадавшего, получившего повреждение руки или ноги?</p> <ol style="list-style-type: none"> 1. Одежду следует сначала снять с поврежденной конечности. 2. Одежду следует сначала снять с неповрежденной конечности. 3. Последовательность действий не имеет значения.

БИЛЕТ № 39 Категории «А» и «В»

1. Водители и пассажиры каких транспортных средств при движении должны быть пристегнуты ремнями безопасности?

1. Только легковых автомобилей.
2. Всех автомобилей.
3. Всех транспортных средств, оборудованных ремнями безопасности.

2. Этот знак предупреждает Вас о приближении к тоннелю, в котором:

1. Будет затруднен разъезд со встречными транспортными средствами.
2. Отсутствует искусственное освещение.
3. Очередность движения регулируется светофором.




3. В каком из указанных мест Вы можете поставить автомобиль на стоянку?

1. Только А.
2. Только Б.
3. Ни в каком.



4. Какие знаки разрешают выполнить поворот налево?

1. Только Б.
2. А и Б.
3. Б и В.



5. Увеличение длины штриха прерывистой линии разметки информирует Вас:

1. О начале зоны, где запрещены любые маневры.
2. О начале опасного участка дороги.
3. О приближении к сплошной линии разметки, разделяющей транспортные потоки попутных направлений.



6. В каких направлениях Вам разрешено движение?

1. Только налево и в обратном направлении.
2. Прямо, налево и в обратном направлении.
3. Во всех.



7. Какие внешние световые приборы должны быть включены при посадке детей в транспортное средство, имеющее опознавательные знаки «Перевозка детей», и высадке из него?

1. Габаритные огни.
2. Ближний свет фар или противотуманные фары.
3. Аварийная световая сигнализация.

8. Водитель автомобиля, выполняющий перестроение на правую полосу, в данной ситуации:

1. Не должен создавать помех движущемуся по правой полосе автомобилю.
2. Имеет преимущество, так как завершает обгон.



9. Кто должен уступить дорогу при одновременном развороте?

1. Водитель автобуса.
2. Водитель легкового автомобиля.



10. С какой максимальной скоростью Вы можете продолжить движение на грузовом автомобиле с разрешенной максимальной массой более 3,5 т?

1. 50 км/ч.
2. 70 км/ч.
3. 90 км/ч.
4. 110 км/ч.



11. По какой траектории водитель легкового автомобиля может выполнить обгон?

1. По любой.
2. Только по А.
3. Только по Б.



12. По какой траектории Вы можете подъехать к пассажирам?

1. Только по А.
2. Только по Б.
3. По любой.



13. Должен ли водитель легкового автомобиля при развороте уступить дорогу автобусу?

1. Да.
2. Нет.



14. Вы намерены проехать перекресток в прямом направлении. Кому следует уступить дорогу?

1. Только трамваю А.
2. Только трамваю Б.
3. Обоим трамваям.



15. Вы намерены продолжить движение прямо. Кому следует уступить дорогу?

1. Только легковому автомобилю.
2. Легковому автомобилю и мотоциклу.
3. Никому.



16. Нарушил ли водитель Правила при вынужденной остановке на автомагистрали?

1. Да.
2. Да, если не выставил знак аварийной остановки.
3. Нет.



17. Разрешается ли буксировка в гололедицу, если у буксируемого транспортного средства исправны тормоза и рулевое управление?

1. Разрешается любым способом.
2. Разрешается на жесткой сцепке или методом частичной погрузки.
3. Не разрешается.

18. Какое расстояние проедет транспортное средство за одну секунду при скорости движения около 70 км/час?

1. Примерно 10 м.
2. Примерно 20 м.
3. Примерно 30 м.

19. В какой момент следует начинать отпускать стояночный тормоз при трогании на подъеме?

1. До начала движения.
2. После начала движения.
3. Одновременно с началом движения.

20. У водителя, совершившего административное правонарушение, влекущее лишение права управления транспортными средствами, водительское удостоверение изымается:

1. При выявлении и пресечении правонарушения.
2. Только после вынесения постановления о лишении права управления транспортными средствами.
3. Только после истечения срока обжалования постановления о лишении права управления транспортными средствами.

БИЛЕТ № 40 Категории «А» и «В»

1. По требованию каких лиц Вы обязаны передавать для проверки водительское удостоверение, страховой полис обязательного страхования гражданской ответственности, регистрационные документы на транспортное средство и талон о прохождении государственного технического осмотра?

1. Сотрудника милиции.
2. Сотрудника Военной автомобильной инспекции.
3. Любого регулировщика.
4. Всех перечисленных лиц.


2. Этот дорожный знак предупреждает Вас:

1. О приближении к пешеходному переходу, на котором возможно частое появление велосипедистов.
2. О приближении к пересечению с велосипедной дорожкой.
3. О приближении к месту, где Вы должны уступить дорогу велосипедистам



3. Действия каких знаков не распространяются на транспортные средства, управляемые инвалидами I и II групп или перевозящие таких инвалидов?

1. Только А и Б.
2. Только Б и Г.
3. Только Б, В и Г.
4. Всех.



4. Какие транспортные средства можно поставить на стоянку указанным на табличке способом?

1. Только легковые автомобили и мотоциклы.
2. Все, кроме грузовых автомобилей с разрешенной максимальной массой более 3,5 т.
3. Любые транспортные средства.



5. Эта разметка, нанесенная на полосу движения:

1. Разрешает Вам только поворот налево.
2. Разрешает Вам только разворот.
3. Разрешает Вам поворот налево и разворот.



6. Разрешено ли Вам движение?

1. Разрешено только направо.
2. Запрещено.



7. Какой знак должен быть закреплен на задней части буксируемого механического транспортного средства при отсутствии или неисправности аварийной световой сигнализации?

1. А.
2. Б.
3. В.



8. Вы намерены повернуть на перекрестке направо. Как Вам следует поступить?

1. Перестроиться на правую полосу, затем осуществить поворот.
2. Продолжить движение по второй полосе до перекрестка, затем повернуть.
3. Возможны оба способа.



9. Разрешен ли Вам разворот в указанном месте?







1. Разрешен только при видимости дороги более 100 м.
2. Не разрешен.



10. Кто из мотоциклистов занял правильное положение на полосе движения?

1. Только мотоциклист, занимающий левое положение на полосе движения.
2. Только мотоциклист, занимающий правое положение на полосе движения.
3. Оба мотоциклиста.



<p>11. Должны ли Вы уступить дорогу встречному грузовому автомобилю? 1. Да. 2. Нет.</p> 	<p>12. Разрешена ли Вам остановка в указанном месте на перекрестке? 1. Разрешена. 2. Разрешена, если расстояние от Вашего транспортного средства до линии разметки не менее 3 м. 3. Запрещена.</p> 
<p>13. Вы намерены повернуть направо. Ваши действия? 1. Проедете перекресток первым. 2. Уступите дорогу обоим трамваям. 3. Уступите дорогу только трамваю А. 4. Уступите дорогу только трамваю Б.</p> 	<p>14. При движении прямо Вы: 1. Имеете преимущество. 2. Должны уступить дорогу только мотоциклу. 3. Должны уступить дорогу только автомобилю. 4. Должны уступить дорогу обоим транспортным средствам.</p> 
<p>15. Вы намерены повернуть налево. Кому следует уступить дорогу? 1. Только автобусу. 2. Только грузовому автомобилю. 3. Обоим транспортным средствам.</p> 	<p>16. Разрешено ли Вам въехать на железнодорожный переезд? 1. Да. 2. Да, если отсутствует приближающийся поезд. 3. Нет.</p> 
<p>17. Разрешается ли перевозка людей в кузове грузового автомобиля при буксировке на жесткой или гибкой сцепке? 1. Разрешается только в кузове буксирующего автомобиля. 2. Разрешается в кузове буксирующего и буксируемого автомобилей. 3. Запрещается.</p>	<p>18. Как воспринимается водителем скорость своего автомобиля при длительном движении по равнинной дороге на большой скорости? 1. Кажется меньше, чем в действительности. 2. Кажется больше, чем в действительности. 3. Восприятие скорости не меняется.</p>
<p>19. При движении по какому участку дороги действие сильно бокового ветра наиболее опасно? 1. По открытому. 2. По закрытому деревьями. 3. При выезде с закрытого участка на открытый.</p>	<p>20. При носовом кровотечении у пострадавшего необходимо: 1. Уложить пострадавшего на спину, вызвать врача. 2. Придать ему положение полусидя, запрокинуть голову назад, обеспечить охлаждение переносицы. 3. Придать ему положение полусидя, голову наклонить вперед, обеспечить охлаждение переносицы.</p>

Ответы на билеты категории А и В

Лист 1	1	2	3	4	5	6	7	8	9	10	Лист 2	11	12	13	14	15	16	17	18	19	20	
1	2	2	3	3	3	2	3	1	1	3	1	1	1	2	3	4	3	4	3	4	3	2
2	3	1	3	3	3	1	3	3	2	1	2	2	1	3	1	1	1	2	1	1	1	2
3	1	3	2	2	2	3	2	1	2	2	3	3	2	2	1	2	3	4	1	4	3	3
4	2	2	1	2	2	2	1	2	2	1	4	1	2	3	2	1	4	1	4	1	2	2
5	1	1	1	1	3	1	3	4	2	3	5	2	3	2	1	1	3	2	1	3	1	1
6	3	2	3	3	2	3	1	2	1	3	6	1	3	2	1	2	3	2	4	1	1	1
7	1	2	1	2	2	1	1	3	2	2	7	2	3	1	2	3	3	3	3	2	2	2
8	2	3	3	1	3	2	1	2	1	3	8	1	1	3	3	2	3	3	1	1	2	2
9	1	2	1	3	1	2	2	1	3	2	9	1	2	1	1	3	3	1	3	2	3	3
10	2	2	3	3	2	3	1	2	1	2	10	2	3	1	3	3	3	3	4	2	1	1
11	2	1	1	1	2	1	1	1	2	3	11	2	3	1	2	1	2	3	2	3	3	3
12	2	3	2	2	2	3	2	3	2	2	12	2	1	1	1	3	3	2	2	1	3	3
13	3	2	2	2	1	1	1	2	2	3	13	2	2	2	3	2	3	1	2	2	2	2
14	1	2	3	3	2	1	1	1	1	2	14	1	1	1	1	3	1	1	3	1	4	4
15	4	3	3	3	3	3	2	3	1	2	15	2	3	1	2	1	2	3	3	2	2	2
16	3	2	2	1	3	3	3	3	3	2	16	1	1	2	3	3	3	3	3	2	2	2
17	1	1	1	4	3	1	3	2	1	2	17	3	2	3	1	2	4	2	2	2	1	1
18	2	3	1	2	2	2	1	3	3	2	18	2	2	2	1	2	2	3	3	3	2	2
19	2	3	2	3	2	1	2	1	1	3	19	2	2	2	1	2	3	3	4	1	3	3
20	2	1	3	2	3	1	1	3	2	2	20	2	2	1	2	3	1	2	3	2	4	4
21	2	3	1	3	3	2	1	2	2	3	21	2	2	3	2	1	1	3	3	1	2	2
22	1	1	2	1	2	1	1	2	3	3	22	2	1	3	1	2	1	2	3	3	2	2
23	2	1	2	2	3	1	1	1	1	1	23	2	1	2	3	1	1	2	3	3	2	2
24	2	2	1	2	2	2	2	3	1	1	24	1	2	1	3	3	2	1	2	1	3	3
25	2	3	3	2	4	2	1	2	2	2	25	3	3	1	3	1	3	2	4	2	1	1
26	3	2	2	3	2	2	1	2	2	2	26	2	2	2	1	2	2	2	1	2	1	1
27	2	1	1	2	3	3	2	1	3	2	27	2	3	2	2	2	2	2	2	1	3	3
28	2	1	1	3	1	3	3	3	1	2	28	1	3	3	2	1	1	2	3	4	3	3
29	2	2	1	3	1	2	1	3	1	2	29	2	3	2	1	2	1	4	2	2	3	3
30	1	2	2	2	3	3	2	1	3	3	30	2	3	1	2	4	3	2	2	3	2	2
31	2	1	3	1	4	2	1	1	1	2	31	1	1	2	1	4	3	2	2	3	2	2
32	1	2	1	4	2	2	1	3	3	3	32	1	1	3	2	3	3	2	3	2	1	1
33	2	1	3	2	3	2	3	1	3	1	33	3	3	3	2	3	5	2	2	2	2	2
34	3	2	2	2	1	3	3	3	3	3	34	3	2	1	2	1	2	3	3	2	3	3
35	2	3	2	1	1	2	2	1	1	1	35	2	2	1	2	2	3	1	3	2	2	2
36	1	1	2	3	1	1	1	2	1	3	36	3	2	2	1	1	1	2	3	2	3	3
37	3	3	2	2	1	3	3	2	2	2	37	2	2	2	2	2	1	2	3	3	2	2
38	2	2	2	3	1	3	2	4	2	1	38	1	1	3	1	2	2	2	3	2	2	2
39	3	2	2	3	3	3	3	1	1	3	39	2	2	2	3	1	2	2	2	3	1	1
40	1	2	2	1	3	2	1	3	1	3	40	2	3	2	2	3	3	1	1	3	3	3

Критерии оценки:

- «**зачтено**» выставляется студенту при глубоком знании материала, владении специальной технической терминологией, но с некоторыми неточностями при ответе, не полной демонстрации инженерного мышления, при затруднении в ответе на один из дополнительных вопросов;

- «**незачтено**» ставится студенту, не давшему ответ на вопросы промежуточной аттестации не владеющему технической терминологией по дисциплине при отсутствии ответов на дополнительные вопросы по программе.

ФЕДЕРАЛЬНОЕ ГОСУДАРСТВЕННОЕ БЮДЖЕТНОЕ ОБРАЗОВАТЕЛЬНОЕ УЧРЕЖДЕНИЕ
ВЫСШЕГО ОБРАЗОВАНИЯ
«ГОРСКИЙ ГОСУДАРСТВЕННЫЙ АГРАРНЫЙ УНИВЕРСИТЕТ»

Кафедра Тракторы и сельскохозяйственные машины
(наименование кафедры)

Темы рефератов, докладов
по дисциплине Правила дорожного движения

согласно примерной программы, рекомендованной Мин.образования России
для подготовки бакалавров по:
направление Агроинженерия,
профиль Технические системы в агробизнесе.

1. Автоматизированные системы управления в обеспечении безопасности дорожного движения.

План: Введение АСУД. Назначение и классификация. Структура систем и методы управления движением. Заключение. Список использованной литературы.

2. Государственная политика в области обеспечения безопасности дорожного движения.

План: Государственная политика в области обеспечения безопасности дорожного движения. Слуховые ощущения, их свойства и роль для водителя с целью предупреждения ДТП. Организация стажировки водителей как фактор предупреждения ДТП.

3. Дорожно-транспортное происшествие.

План: Дорожно-транспортное происшествие. ДТП. Транспортные аварии. Первая медицинская помощь при ДТП. Травмы. Виды травм. Первая помощь при различных видах травм.

4. Методика подготовки к проведению экзамена в ГИБДД.

План: Данная работа отражает методики подготовки к экзамену в ГИБДД как испытуемых так и инструкторов. Знание методик подготовки и самой процедуры экзамена значительно облегчает обучение и психологическое состояние кандидата в водители. И повышает эффективность работы инструкторского состава. Аннотация. Содержание (Оглавление). Введение. Методики подготовки кандидатов в водители к экзамену в ГИБДД.

5. Ответственность водителей при дорожном движении.

План: Содержание. Введение. Разновидности ущерба. Административная ответственность. Уголовная ответственность. Гражданская ответственность. Заключение. Список использованной литературы.

6. Первая медицинская помощь при дорожно-транспортном происшествии.

План: Введение. Основные причины дорожно-транспортного происшествия. Первая медицинская помощь при дорожно-транспортном происшествии. Заключение. Список литературы. Список иллюстраций. Иллюстрации.

7. Средства регулирования дорожного движения.

План: Средства регулирования дорожного движения. Введение. Светофор. Сигналы светофора. Виды светофоров. Регулировщики. Радиолокационный измеритель скорости. Список используемой литературы.

8. Факторы риска и факторы выживания на дороге. Общая схема действий в первые минуты аварии.

План: Содержание. Введение. Дорожно-транспортные происшествия и их причины. Наиболее распространенными являются следующие виды ДТП. Основные факторы риска. Факторы выживания. Активная безопасность. Пассивная безопасность. Общая схема действий в первые минуты аварии. Первая медицинская помощь при ДТП. Заключение. Список литературы.

9. Эмоциональные состояния начинающего водителя, их сущность и влияние на вождение

План: Аннотация. Содержание. Введение. Психологические характеристики водителя Эмоциональные состояния водителей и их виды. Основные техники определения эмоционального состояния начинающего водителя. Регуляция и контроль эмоционального состояния начинающего водителя. Заключение.